
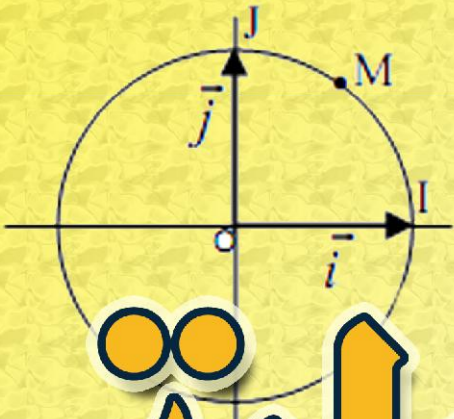


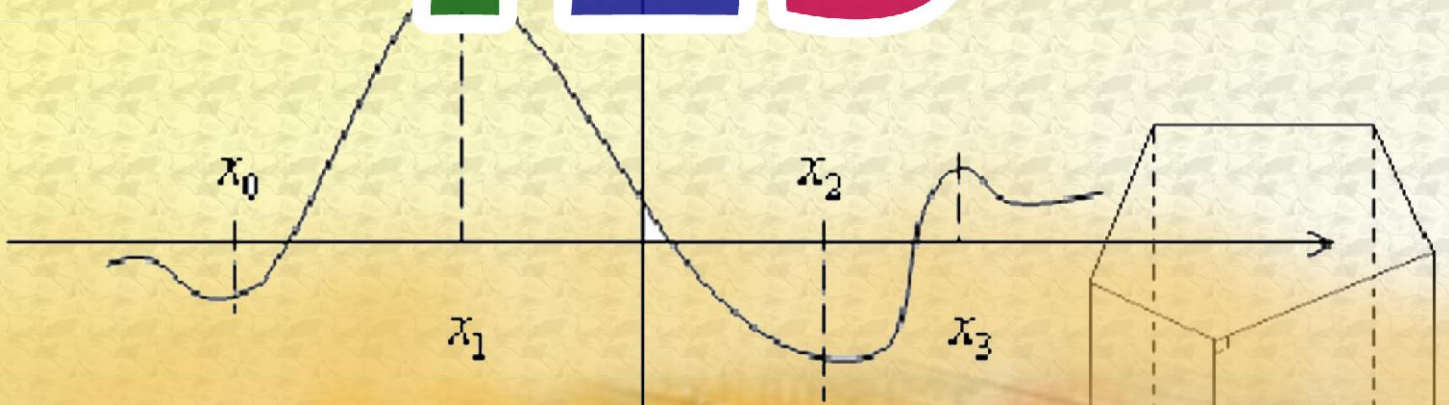
مفكرة



الرياضيات

إعداد الأستاذ: ح. بوعيون.

123



عيون
البصائر!

بِسْمِ اللَّهِ الرَّحْمَنِ الرَّحِيمِ

لقد تم تحميل هذا الملف من مدونة :



و للمزيد من الكتب و الدروس و الملفات المجانية .. ادعوك لزيارة المدونة
على الرابط :

www.korrasaty.blogspot.com

يمكنك التوصل بجديد المد

ونة من خلال القائمة البريدية .. أو عن طريقه الصفحات الإجتماعية :



امتنح ان تنال الدونة إعجابك .. ولا تنسح ان تترك بصمتك .. و تساهم فحج تقدم و
تطور المحتوى العربي و التربوي عل النت .. !!



و السلام عليكم و رحمة الله .

مفكرة الرياضيات *
لطلاب مستوى الطور الثانوي
(الجذع العلمي المشترك)

من إعداد: أ. عبد الحميد بوعيون

~ المغرب العربي الشقيق ~

• تم تحميل وجمع هذه المادة من موقع: تمرين

<http://tamrine.com>

لمالغ الموقع الإلكتروني: عيون البصائر

<http://www.elbassair.com>

(2) ملاحظات

- (* كل الأعداد الطبيعية تقسم 0 .
- (* 0 يقسم عدد واحد هو 0 .
- (* إذا كان b يقسم a و c يقسم b فإن c يقسم a .
- (* العدد 1 يقسم جميع الأعداد الطبيعية .
- (* كل عدد يقسم نفسه .
- (* للعدد 1 قاسم واحد هو 1 .

(3) مصادق القسمة على 2-3-4-5-9-11-25**(a) ترميز**

ليكن $\alpha_0, \alpha_1, \alpha_2, \alpha_3, \dots, \alpha_r$ أرقاماً من

$$\{0, 1, 2, 3, 4, 5, 6, 7, 8, 9\}$$

نرمز بالكتابة $\overline{\alpha_r \alpha_{r-1} \dots \alpha_0}$ إلى العدد الذي

رقم وحداته α_0 ، رقم عشراته α_1 ،

(b) خاصة

نعتبر العدد $a = \overline{\alpha_r \alpha_{r-1} \dots \alpha_0}$ لدينا:

- (* a يقبل القسمة على 2 إذا كان $\alpha_0 \in \{0, 2, 4, 6, 8\}$
- (* a يقبل القسمة على 3 إذا كان $3 / \alpha_0 + \alpha_1 + \alpha_2 + \dots + \alpha_r$
- (* a يقبل القسمة على 4 إذا كان $4 / \alpha_0 \alpha_1$
- (* a يقبل القسمة على 5 إذا كان $\alpha_0 \in \{0, 5\}$
- (* a يقبل القسمة على 9 إذا كان $9 / \alpha_0 + \alpha_1 + \alpha_2 + \dots + \alpha_r$
- (* a يقبل القسمة على 3 إذا كان $11 / (\alpha_0 + \alpha_2 + \alpha_4 + \dots) - (\alpha_1 + \alpha_3 + \alpha_5 + \dots)$
- (* a يقبل القسمة على 25 إذا كان $\overline{\alpha_1 \alpha_0} \in \{00, 25, 50, 75\}$

(4) القاسم المشترك الأكبر لعددين

تعريف ليكن a و b عددين طبيعيين غير منعدمين .
القاسم المشترك الأكبر للعددين a و b هو أكبر قاسم غير منعدم مشترك بينهما . ونرمز له بـ $PGCD(a, b)$ أو $a \wedge b$.

(5) خوارزمية أوكليدس .

ليكن a و b من IN^* بحيث $a \geq b$.
من أجل تحديد $PGCD(a, b)$ نجر قسمات أقلدية متتالية :
نبدأ بقسمة a على b ثم نقسم في كل مرة المقسوم عليه على الباقي وهكذا حتى نحصل على باقي منعدم وسيكون $PGCD(a, b)$ هو آخر باقي غير منعدم .
ويمكن تلخيص هذه النتائج في جدول كما يلي :

a	b	r_1	r_2
	q_1	q_2	q_3			
r_1	r_1	r_2	r_n	0

(I) مجموعة الأعداد الصحيحة الطبيعية

$$IN = \{0, 1, 2, 3, 4, 5, \dots\}$$

$$IN^* = \{1, 2, 3, 4, 5, \dots\}$$

(II) الأعداد الصحيحة الطبيعية الزوجية - الفردية

(1) نسمي عدد صحيح طبيعي زوجي كل عدد a يكتب على شكل $a = 2k$ حيث $k \in IN$.

(2) نسمي عدد صحيح طبيعي فردي كل عدد a يكتب على شكل $a = 2k + 1$ أو $a = 2k - 1$ حيث $k \in IN$.

(3) ملاحظات

- (a) يكون عدد زوجياً إذا كان رقم وحداته زوجياً .
- (b) يكون عدد فردياً إذا كان رقم وحداته فردياً .
- (c) (*) إذا كان a و b زوجيين فإن $a + b$ زوجي .
(*) إذا كان a و b فرديين فإن $a + b$ زوجي .
- (d) (*) إذا كان a زوجيين و b فردي فإن $a + b$ فردي .
(*) إذا كان a و b زوجيين فإن ab زوجي .
(*) إذا كان a زوجيين و b فرديين فإن ab فردي .
- (e) إذا كان a و b عددين متتابعين فإن أحدهما زوجي والآخر فردي .

(III) مضاعفات عدد

(1) تعريف ليكن a و b عددين طبيعيين .
نقول إن العدد a مضاعف للعدد b إذا كان a يكتب على شكل $a = bk$ حيث $k \in IN$.

(2) ملاحظات

- (* 0 مضاعف كل عدد طبيعي .
- (* 0 له مضاعف واحد هو 0 .
- (* إذا كان a مضاعف b و b مضاعف c فإن a مضاعف للعدد c .

(3) المضاعف المشترك الأصغر لعددين

تعريف ليكن a و b عددين طبيعيين غير منعدمين .
المضاعف المشترك الأصغر للعددين a و b هو أصغر مضاعف غير منعدم مشترك بينهما . ونرمز له بـ $PPCM(a, b)$ أو $a \vee b$.

(4) ملاحظات

(* إذا كان العدد a مضاعف للعدد b فإن $PPCM(a, b) = a$

(* $PPCM(a, a) = a$

(IV) قواسم عدد

(1) تعريف ليكن a و b عددين طبيعيين .
نقول إن العدد a قابل للقسمة على b ، أو إن العدد b يقسم a إذا كان a مضاعف b يعني a يكتب على شكل $a = bk$ حيث $k \in IN$. ونكتب b / a .

(V) الأعداد الأولية

(1) تعريف نسمي عددا أوليا كل عدد a صحيح طبيعي له قاسمان فقط 1 و a .

(2) ملاحظة

- (a) لكي نتحقق هل العدد a أولي نتبع ما يلي .
نحدد جميع الأعداد الأولية p التي تحقق $p^2 \leq a$
إذا كان أحد هذه الأعداد يقسم a فإن a غير أولي .
إذا كانت جميع هذه الأعداد لا تقسم a فإن a أولي .
(b) الأعداد الأولية الأصغر من 100 هي
2, 3, 5, 7, 11, 13, 17, 19, 23, 29, 31, 37, 41, 43, 47,
53, 59, 61, 67, 71, 73, 79, 83, 89, 97 .
(c) كل عدد أولي $p \neq 2$ هو فردي
(d) العدد 1 ليس أولي .

(3) تفكيك عدد إلى جداء عوامل أولية

خاصية : كل عدد طبيعي $a \geq 2$ يكتب بطريقة وحيدة على

$$a = p_1^{\alpha_1} \cdot p_2^{\alpha_2} \cdot p_3^{\alpha_3} \cdot \dots \cdot p_r^{\alpha_r} \quad \text{شكل}$$

- $p_1, p_2, p_3, \dots, p_r$ أعداد أولية .
 $\alpha_1, \alpha_2, \alpha_3, \dots, \alpha_r$ أعدادا طبيعية غير منعدمة .
هذه الكتابة تسمى تفكيك العدد a إلى جداء عوامل أولية .

مثال

54	2	لنفكك العدد 54: لدينا
27	3	
9	3	
3	3	
1	1	

إذن $54 = 2 \times 3^3$ إذن

(4) تطبيق .

- (a) المضاعف المشترك الأصغر لعددين a و b هو جداء العوامل الأولية المشتركة وغير المشتركة بين تفكيكي a و b مرفوعة إلى أكبر أس .
(b) القاسم المشترك الأكبر لعددين a و b هو جداء العوامل الأولية المشتركة بين تفكيكي a و b مرفوعة إلى أصغر أس .

مثال لنحدد: $76 \wedge 632$ و $76 \vee 632$

76	2	632	2	لدين
38	2	316	2	
19	19	158	2	
1	1	79	79	
		1	1	

$$\text{إذن } 632 = 2^3 \cdot 79 \quad \text{و} \quad 76 = 2^2 \cdot 19$$
$$\text{ومنه } 76 \wedge 632 = 2^2 = 4 \quad \text{و} \quad 76 \vee 632 = 2^3 \cdot 19 \cdot 79 = 12008$$

- (c) ليكن $a \geq 2$
و $a = p_1^{\alpha_1} \cdot p_2^{\alpha_2} \cdot p_3^{\alpha_3} \cdot \dots \cdot p_r^{\alpha_r}$ تفكيك العدد a إلى جداء عوامل أولية .
عدد قواسم العدد a هو $(1 + \alpha_1)(1 + \alpha_2) \cdot \dots \cdot (1 + \alpha_r)$

(4) الجذور المربعة .

تعريف ليكن $a \in \mathbb{R}^+$. الجذر المربع للعدد a هو العدد الموجب b الذي يحقق : $b^2 = a$. ونكتب $\sqrt{a} = b$.

خاصيات

(a) ليكن a و b من \mathbb{R}^+ .

$$\sqrt{a^2} = (\sqrt{a})^2 = a \quad (*) \quad \sqrt{a} \geq 0 \quad (*)$$

$$(\sqrt{a})^n = \sqrt{a^n} \quad (*) \quad \sqrt{ab} = \sqrt{a}\sqrt{b} \quad (*)$$

$$\sqrt{\frac{a}{b}} = \frac{\sqrt{a}}{\sqrt{b}} \quad (*)$$

(b) ليكن $x \in \mathbb{R}$. $\sqrt{x^2} = |x|$.

(c) إذا كان $ab > 0$: فإن $\sqrt{ab} = \sqrt{|a|}\sqrt{|b|}$ و $\sqrt{\frac{a}{b}} = \frac{\sqrt{|a|}}{\sqrt{|b|}}$

(d) ليكن $a \in \mathbb{R}^+$ $x^2 = a$ يكافئ $x = \sqrt{a}$ أو $x = -\sqrt{a}$.

(5) التناسبية .

(a) نقول إن العددين a و b متناسبان مع c و d إذا وفقط إذا كان :

$$\frac{a}{c} = \frac{b}{d}$$

(b) إذا كان : $\frac{a_1}{b_1} = \frac{a_2}{b_2} = \dots = \frac{a_n}{b_n}$: فإن :

$$\frac{a_1}{b_1} = \frac{a_2}{b_2} = \dots = \frac{a_n}{b_n} = \frac{k_1 a_1 + k_2 a_2 + \dots + k_n a_n}{k_1 b_1 + k_2 b_2 + \dots + k_n b_n}$$

(6) الجزئ الصحيح .

(a) تعريف : كل عدد حقيقي x محصور بين عددين نسبيين متتابعين k و

$$k \leq x < k+1$$

العدد النسبي k يسمى الجزئ الصحيح للعدد x ونكتب $E(x) = k$ أو

$$[x] = k$$

ملاحظة

(*) الجزئ الصحيح للعدد x هو العدد النسبي الذي يوجد مباشرة قبل x .

$$(*) \quad E(x) \leq x < E(x)+1 \quad \text{لكل } x \text{ من } \mathbb{R}$$

(II) الترتيب في IR .**(1) خاصيات**

$$(a) \quad a \geq b \quad \text{يكافئ} \quad a - b \geq 0$$

$$(*) \quad a \leq b \quad \text{يكافئ} \quad a - b \leq 0$$

$$(b) \quad a > b \quad \text{يكافئ} \quad a - b > 0$$

$$(*) \quad a < b \quad \text{يكافئ} \quad a - b < 0$$

$$(c) \quad a \leq b \quad \text{يعني} \quad a < b \quad \text{أو} \quad a = b$$

(*) إذا كان $a < b$ فإن $a \leq b$ والعكس غير صحيح .

$$(d) \quad a \geq b \quad \text{يكافئ} \quad a + c \geq b + c$$

$$(*) \quad a > b \quad \text{يكافئ} \quad a + c > b + c$$

$$(e) \quad (*) \quad \text{إذا كان و} \quad \begin{cases} a \leq b \\ b \leq c \end{cases} \quad \text{فإن} \quad a \leq c$$

الحساب في IR .**(1) قواعد الحساب في IR .**

ليكن a و b و c و d من \mathbb{R} .

$$(a) \quad a = b \quad \text{يكافئ} \quad a + c = b + c$$

$$(b) \quad a = b \quad \text{يكافئ} \quad ac = bc \quad (c \neq 0)$$

$$(c) \quad \text{إذا كان و} \quad \begin{cases} a = b \\ c = d \end{cases} \quad \text{فإن و} \quad \begin{cases} a + c = b + d \\ ac = bd \end{cases}$$

$$(d) \quad ab = 0 \quad \text{يكافئ} \quad a = 0 \quad \text{أو} \quad b = 0$$

$$(e) \quad ab \neq 0 \quad \text{يكافئ} \quad a \neq 0 \quad \text{و} \quad b \neq 0$$

$$(g) \quad \frac{a}{b} = \frac{c}{d} \quad \text{يكافئ} \quad ad = bc \quad (a \neq 0 \quad \text{و} \quad b \neq 0)$$

$$(h) \quad \frac{a}{b} \cdot \frac{c}{d} = \frac{ac}{bd} \quad \text{و} \quad \frac{a}{b} + \frac{c}{d} = \frac{ad + bc}{bd}$$

$$(i) \quad \frac{1}{\frac{a}{b}} = \frac{b}{a} \quad \text{و} \quad \frac{\frac{a}{b}}{c} = \frac{a}{bc} \quad \text{و} \quad \frac{\frac{a}{b}}{\frac{c}{d}} = \frac{a}{b} \cdot \frac{d}{c}$$

(2) القوى في IR

$$(a) \quad \text{تعريف} \quad a^0 = 1 \quad (*) \quad (a \neq 0) \quad a^1 = 1 \quad (*)$$

$$(*) \quad a^n = \underbrace{a \cdot a \cdot \dots \cdot a}_{n \text{ fois}} \quad (n \in \mathbb{N}^* - \{1\})$$

$$(*) \quad a^{-n} = \frac{1}{a^n}$$

(b) خاصيات

(a) ليكن a و b من \mathbb{R}^* و m و n من \mathbb{Z} .

$$(*) \quad a^m \cdot a^n = a^{m+n} \quad (*) \quad a^{-n} = \frac{1}{a^n}$$

$$(*) \quad (a^m)^n = a^{mn} \quad (*) \quad (ab)^n = a^n b^n$$

$$(*) \quad \frac{a^n}{a^m} = a^{n-m} \quad (*) \quad \left(\frac{a}{b}\right)^n = \frac{a^n}{b^n}$$

(b) إذا كان $a = b$ فإن $a^2 = b^2$

(c) إذا كان $a^2 = b^2$ و a و b لهما نفس الإشارة فإن $a = b$.

$$(d) \quad a^2 = b^2 \quad \text{يكافئ} \quad a = b \quad \text{أو} \quad a = -b$$

ملاحظة لكي نبين أن : $a = b$ يكفي مثلا أن نبي أن

$$a^2 = b^2 \quad \text{و} \quad a \text{ و } b \text{ لهما نفس الإشارة}$$

(3) متطابقات هامة

$$(a) \quad (a+b)^2 = a^2 + 2ab + b^2$$

$$(b) \quad (a-b)^2 = a^2 - 2ab + b^2$$

$$(c) \quad a^2 - b^2 = (a-b)(a+b)$$

$$(d) \quad (a+b)^3 = a^3 + 3a^2b + 3ab^2 + b^3$$

$$(e) \quad (a-b)^3 = a^3 - 3a^2b + 3ab^2 - b^3$$

$$(f) \quad a^3 - b^3 = (a-b)(a^2 + ab + b^2)$$

$$(g) \quad a^3 + b^3 = (a+b)(a^2 - ab + b^2)$$

3) المجالات

$$[a, b] = \{x \in \mathbb{R} / a \leq x \leq b\} \quad (a)$$

$$[a, b[= \{x \in \mathbb{R} / a \leq x < b\} \quad (a)$$

$$]a, b] = \{x \in \mathbb{R} / a < x \leq b\} \quad (a)$$

$$]a, b[= \{x \in \mathbb{R} / a < x < b\} \quad (a)$$

$$[a, +\infty[= \{x \in \mathbb{R} / x \geq a\} \quad (a)$$

$$]a, +\infty[= \{x \in \mathbb{R} / x > a\} \quad (a)$$

$$]-\infty, a] = \{x \in \mathbb{R} / x \leq a\} \quad (a)$$

$$]-\infty, a[= \{x \in \mathbb{R} / x < a\} \quad (a)$$

4) التأيير

تعريف: كل متفاوتة من المتفاوتات: $a < x < b$ و $a \leq x < b$ و $a < x \leq b$ و $a \leq x \leq b$ تسمى تأييرا للعدد x سعته $b - a$.

5) القيمة المقربة

(i) إذا أردنا أن نبين أن x_0 قيمة مقربة بتقريب للعدد x بالدقة r ، نقوم

$$\text{بتأيير } x - x_0 \text{ و سنجد } 0 \leq x - x_0 \leq r$$

(ii) إذا أردنا أن نبين أن x_0 قيمة مقربة بإفراط للعدد x بالدقة r ، نقوم

$$\text{بتأيير } x - x_0 \text{ و سنجد } -r \leq x - x_0 \leq 0$$

(iii) إذا أردنا أن نبين أن x_0 قيمة مقربة للعدد x بالدقة r ، نقوم

$$\text{بتأيير } x - x_0 \text{ و سنجد } -r \leq x - x_0 \leq r$$

$$\text{يعني } |x - x_0| \leq r$$

(b) إذا أردنا أن نحدد قيمة مقربة للعدد x نقوم بتأيير العدد x و سنجد

$$a \leq x \leq b : \text{ ومن هنا نستنتج أن ما يلي:}$$

(i) a هي القيمة المقربة بتقريب للعدد x بالدقة $b - a$

(ii) b هي القيمة المقربة بإفراط للعدد x بالدقة $b - a$

(iii) $\frac{a+b}{2}$ هي القيمة المقربة للعدد x بالدقة $\frac{b-a}{2}$

(c) ملاحظة

يمكن تحديد قيمة مقربة للعدد x مباشرة إذا كانت لدينا إحدى التأييرات التالية:

(i) $0 \leq x - x_0 \leq r$ و سنكون x_0 قيمة مقربة بتقريب للعدد x بالدقة r

(ii) $-r \leq x - x_0 \leq 0$ و سنكون x_0 قيمة مقربة بإفراط للعدد x بالدقة r

(iii) $-r \leq x - x_0 \leq r$ أو $|x - x_0| \leq r$ و سنكون x_0 قيمة مقربة للعدد x بالدقة r

(d) التقريب العشري

ليكن x من \mathbb{R} .

(i) العدد العشري $\frac{E(10^n x)}{10^n}$ يسمى القيمة العشرية المقربة بتقريب للعدد x بالدقة 10^{-n} .

(i) العدد العشري $\frac{E(10^n x)}{10^n} + 1$ يسمى القيمة العشرية المقربة بإفراط للعدد x بالدقة 10^{-n} .

$$(*) \text{ إذا كان } \begin{cases} a \leq b \\ b < c \end{cases} \text{ فإن } a < c$$

$$(*) \text{ (f) إذا كان } \begin{cases} a \leq b \\ c \leq d \end{cases} \text{ فإن } a + c \leq b + d \text{ والعكس غير صحيح.}$$

$$(*) \text{ إذا كان } \begin{cases} a \leq b \\ c < d \end{cases} \text{ فإن } a + c < b + d$$

$$(*) \text{ (g) إذا كان } \begin{cases} a \leq b \\ c \geq 0 \end{cases} \text{ فإن } ac \leq bc$$

$$(*) \text{ إذا كان } \begin{cases} a \leq b \\ c \leq 0 \end{cases} \text{ فإن } ac \geq bc$$

$$(*) \text{ (f) إذا كان } \begin{cases} 0 \leq a \leq b \\ 0 \leq c \leq d \end{cases} \text{ فإن } ac \leq bd \text{ والعكس غير صحيح.}$$

$$(*) \text{ إذا كان } \begin{cases} 0 \leq a \leq b \\ 0 < c < d \end{cases} \text{ فإن } ac < bd$$

$$(i) \text{ ليكن } a > 0 \text{ و } b > 0 \text{ . } (*) \text{ } a \leq b \text{ يكافئ } \frac{1}{a} \geq \frac{1}{b}$$

$$(j) \text{ ليكن } a < 0 \text{ و } b < 0 \text{ . } (*) \text{ } a \leq b \text{ يكافئ } \frac{1}{a} \geq \frac{1}{b}$$

$$(k) \text{ ليكن } a \geq 0 \text{ و } b \geq 0 \text{ . } (*) \text{ } a \leq b \text{ يكافئ } a^2 \leq b^2$$

$$(*) \text{ } a \leq b \text{ يكافئ } \sqrt{a} \leq \sqrt{b}$$

$$(l) \text{ ليكن } a \leq 0 \text{ و } b \leq 0 \text{ . } (*) \text{ } a \leq b \text{ يكافئ } a^2 \geq b^2$$

$$(m) \text{ ليكن } a \text{ و } b \text{ من } \mathbb{R} \text{ . } (*) \text{ } |a| \leq |b| \text{ يكافئ } a^2 \leq b^2$$

(n) إذا كان a و b نفس الإشارة و $a + b = 0$ فإن $a = 0$ و $b = 0$

ملاحظة

إذا كان العددين a و b يحتويان على الجذور المربعة ، لكي نقارن a و b يكفي مثلا أن نقارن a^2 و b^2 ونتحقق من إشارة a و b ثم نستعمل الخاصيتين (k) و (l).

2) القيمة المطلقة

تعريف: ليكن x من \mathbb{R} . القيمة المطلقة للعدد x هي العدد الذي نرمز له

$$|x| = \begin{cases} x & ; x \geq 0 \\ -x & ; x \leq 0 \end{cases}$$

بمعنى: $|x|$ والمعروف بما يلي: $|x| \geq 0$ إذا كان $x \geq 0$ فإن القيمة المطلقة للعدد x هي نفسه .

$|x| \leq 0$ إذا كان $x \leq 0$ فإن القيمة المطلقة للعدد x هي مقابله .

خاصيات

$$(*) \text{ (a) } |x| \geq 0 \quad | -x | = |x|$$

$$(*) \text{ (b) } \left| \frac{x}{y} \right| = \frac{|x|}{|y|} \quad (*) \text{ (c) } |x^n| = |x|^n \quad (*) \text{ (d) } |xy| = |x| |y|$$

$$(*) \text{ (e) } |x| = r \text{ يكافئ } x = r \text{ أو } x = -r$$

$$(*) \text{ (f) } |x| = |y| \text{ يكافئ } x = y \text{ أو } x = -y$$

$$(*) \text{ (g) } |x| \leq r \text{ يكافئ } -r \leq x \leq r$$

$$(*) \text{ (h) } |x| \geq r \text{ يكافئ } x \leq -r \text{ أو } x \geq r$$

(IV) التمثيل الهندسي لعدد عقدي.

نفترض أن المستوى P منسوب إلى معلم متقاعد ممنظم $(o, \vec{e}_1, \vec{e}_2)$

(1) تعريف:

(a) لكل $M(x, y)$ من P العدد $z = a + ib$ يسمى لحق النقطة M ونكتب $aff(M)$.

(b) لكل $\vec{u}(x, y)$ من \vec{v} العدد $z = a + ib$ يسمى لحق المتجهة \vec{u} ونكتب $aff(\vec{u}) = z$.

(c) لكل $z = a + ib$ من \mathbb{C} النقطة $M(x, y)$ تسمى صورة العدد z في P ونكتب $M(z)$.

(d) لكل $z = a + ib$ من \mathbb{C} المتجهة $\vec{u}(x, y)$ تسمى صورة العدد z في v_2 ونكتب $\vec{u}(z)$.

ملاحظة: $aff(o) = 0$. $aff(\vec{e}_1) = 1$. $aff(\vec{e}_2) = i$

$$z \in \mathbb{R} \Leftrightarrow M(z) \in (x'ox)$$

$$z \in \mathbb{R}^+ \Leftrightarrow M(z) \in [ox] \quad (b)$$

$$z \in \mathbb{R}^- \Leftrightarrow M(z) \in (x'o]$$

$$z \in i\mathbb{R} \Leftrightarrow M(z) \in (y'oy)$$

$$z \in i\mathbb{R}^+ \Leftrightarrow M(z) \in [oy] \quad (c)$$

$$z \in i\mathbb{R}^- \Leftrightarrow M(z) \in (y'o]$$

(2) خاصيات:

$$aff(M) = aff(M') \Leftrightarrow M = M' \quad (a)$$

$$aff(\overline{MM'}) = aff(M') - aff(M)$$

$$MM' = |aff(M') - aff(M)|$$

$$aff(\vec{u}) = aff(\vec{v}) \Leftrightarrow \vec{u} = \vec{v}$$

$$aff(\vec{u} + \vec{v}) = aff(\vec{u}) + aff(\vec{v}) \quad (b)$$

$$aff(\alpha \vec{u}) = \alpha aff(\vec{u})$$

$$\|\vec{u}\| = |aff(\vec{u})|$$

(c) ليكن G مرجع $\{(A, \alpha)(B, \beta)\}$ لدينا

$$aff(G) = \frac{1}{\alpha + \beta} (\alpha aff(A) + \beta aff(B))$$

(d) ليكن I منتصف $[AB]$ $aff(I) = \frac{1}{2} (aff(A) + aff(B))$

(e) لتكن A و B و C ثلاث نقط الحاقها على التوالي z_C, z_B, z_A بحيث $A \neq B$ تكون النقط A و B و C مستقيمة إذا فقط إذا كان

$$\frac{z_C - z_A}{z_B - z_A} \in \mathbb{R}$$

(I) عموميات.

$$(1) \mathbb{C} = \{z = a + ib / (a, b) \in \mathbb{R}^2, i^2 = -1\}$$

(b) كل عدد z من \mathbb{C} يكتب بطريقة وحيدة على شكل $z = a + ib$ حيث $a, b \in \mathbb{R}$ و i عنصر من \mathbb{C} يحقق $i^2 = -1$ ($i \notin \mathbb{R}$)

(c) * الكتابة $z = a + ib$ تسمى الكتابة الجبرية أو الشكل الجبري للعدد z .

* العدد a يسمى الجزء الحقيقي للعدد z ونكتب $Re(z) = a$

* العدد b يسمى الجزء التخيلي للعدد z ونكتب $Im(z) = b$

* إذا كان $b = 0$ فإن $z = a \in \mathbb{R}$.

* إذا كان $a = 0$ فإن $z = ib \in \mathbb{R}$ ونقول إن z تخيلي صرف.

(2) ليكن a و b و a' و b' من \mathbb{R} و $\alpha \in \mathbb{R}$

$$a + ib = 0 \Leftrightarrow \begin{cases} a = 0 \\ b = 0 \end{cases}$$

$$a + ib = a' + ib' \Leftrightarrow \begin{cases} a = a' \\ b = b' \end{cases}$$

(II) مرافق عدد عقدي.

(1) تعريف ليكن $z = a + ib$ من \mathbb{C} مع $a, b \in \mathbb{R}$

نسمي مرافق العدد z العدد الذي نرسم له \bar{z} والمعرف بما يلي $\bar{z} = a - ib$.

(2) خاصيات:

$$z = z' \Leftrightarrow \bar{z} = \bar{z}'$$

$$\bar{\bar{z}} = z$$

$$(a) \begin{cases} \bar{z} = z \Leftrightarrow z \in \mathbb{R} \\ \bar{z} = -z \Leftrightarrow z \in i\mathbb{R} \end{cases}$$

$$(b) \begin{cases} z \cdot z' = \bar{z} \cdot \bar{z}' \\ \bar{z}_1 \bar{z}_2 \dots \bar{z}_n = \overline{z_1 z_2 \dots z_n} \\ \bar{z}^n = \overline{z^n} \quad (n \in \mathbb{Z}) \end{cases}$$

$$(c) \frac{z \cdot z' = \bar{z} \cdot \bar{z}'}{z_1 + z_2 + \dots + z_n = \bar{z}_1 + \bar{z}_2 + \dots + \bar{z}_n}$$

$$(e) \left(\frac{z}{z'}\right) = \frac{\bar{z}}{\bar{z}'} \quad \text{و} \quad \left(\frac{1}{z}\right) = \frac{1}{\bar{z}}$$

$$(f) \text{ ليكن } z = x + iy \text{ لدينا } \begin{cases} z + \bar{z} = 2x = 2Re(z) \\ z - \bar{z} = 2iy = 2i Im(z) \\ z\bar{z} = x^2 + y^2 \end{cases}$$

(III) معيار عدد عقدي

(1) تعريف: ليكن $z = a + ib$ من \mathbb{C} مع $a, b \in \mathbb{R}$

نسمي معيار العدد z العدد الحقيقي الموجب الذي نرسم له $|z|$ والمعرف بما

$$|z| = \sqrt{z\bar{z}} = \sqrt{a^2 + b^2}$$

يلي:

(2) خاصيات:

$$(a) \text{ إذا كان } z = a \in \mathbb{R} \text{ فإن } |z| = |a|$$

$$\text{إذا كان } z = ib \in \mathbb{R} \text{ فإن } |z| = |b|$$

$$(b) |z| = |\bar{z}| = |-z| \quad \text{و} \quad |z|^2 = z\bar{z} = a^2 + b^2$$

$$(c) |z + z'| \leq |z| + |z'| \quad \text{و} \quad |z| = 0 \Leftrightarrow z = 0$$

$$(d) |z^n| = |z|^n \quad \text{و} \quad |zz'| = |z||z'|$$

$$|z_1 z_2 \dots z_n| = |z_1| |z_2| \dots |z_n|$$

$$(e) \left|\frac{z}{z'}\right| = \frac{|z|}{|z'|} \quad \text{و} \quad \left|\frac{1}{z}\right| = \frac{1}{|z|}$$

ملاحظة: للحصول على الشكل الجبري لعدد عقدي على شكل كسر نتبع ما يلي:

$$(*) \frac{z}{z'} = \frac{z\bar{z}'}{z\bar{z}'} = \frac{z\bar{z}'}{|z'|^2}$$

$$(*) \frac{a + ib}{c + id} = \frac{(a + ib)(c - id)}{(c + id)(c - id)} = \frac{(a + ib)(c - id)}{c^2 + d^2}$$

ملاحظة:

$$\frac{z_C - z_A}{z_B - z_A} = [1, \theta] \text{ إذا كان}$$

$$\frac{AC}{AB} = \frac{|z_C - z_A|}{|z_B - z_A|} = \frac{|z_C - z_A|}{|z_B - z_A|} = 1 \Rightarrow AC = AB$$

$$\left(\overline{AB}, \overline{AC}\right) \equiv \arg \left(\frac{z_C - z_A}{z_B - z_A} \right) \equiv 0[2\pi]$$

(6) صيغة Moivre

$$(\cos \theta + i \sin \theta)^n = \cos(n\theta) + i \sin(n\theta)$$

(7) صيغة Euler

$$e^{ix} + e^{-ix} = 2 \cos x \quad \cos x = \frac{1}{2}(e^{ix} + e^{-ix})$$

$$e^{ix} - e^{-ix} = 2i \sin x \quad \sin x = \frac{1}{2i}(e^{ix} - e^{-ix})$$

ملاحظة: للحصول على الشكل المثلثي لمجموع عددين لهما نفس المعيار هناك طريقتان

الطريقة 1. نستعمل الصيغ المثلثية .

$$z_2 = e^{i\beta} \quad z_1 = e^{i\alpha} \text{ ليكن}$$

$$z_1 + z_2 = e^{i\alpha} + e^{i\beta} = \cos \alpha + i \sin \alpha + \cos \beta + i \sin \beta$$

$$= \cos \alpha + \cos \beta + i(\sin \alpha + \sin \beta)$$

$$= 2 \cos \frac{\alpha + \beta}{2} \cos \frac{\alpha - \beta}{2} + i 2 \sin \frac{\alpha + \beta}{2} \cos \frac{\alpha - \beta}{2}$$

$$= 2 \cos \frac{\alpha - \beta}{2} \left(\cos \frac{\alpha + \beta}{2} + i \sin \frac{\alpha + \beta}{2} \right)$$

$$z_1 - z_2 = \cos \alpha - \cos \beta + i(\sin \alpha - \sin \beta)$$

$$= -2 \sin \frac{\alpha + \beta}{2} \sin \frac{\alpha - \beta}{2} + i 2 \cos \frac{\alpha + \beta}{2} \sin \frac{\alpha - \beta}{2}$$

$$= 2 \sin \frac{\alpha - \beta}{2} \left(\cos \frac{\alpha + \beta}{2} + i \sin \frac{\alpha + \beta}{2} \right)$$

الطريقة 2. نستعمل الترميز الأسّي .

$$z_1 + z_2 = e^{i\alpha} + e^{i\beta} = e^{i \frac{\alpha + \beta}{2}} \left(e^{i \frac{\alpha - \beta}{2}} + e^{-i \frac{\alpha - \beta}{2}} \right)$$

$$= e^{i \frac{\alpha + \beta}{2}} 2 \cos \frac{\alpha - \beta}{2}$$

$$z_1 - z_2 = e^{i\alpha} - e^{i\beta} = e^{i \frac{\alpha + \beta}{2}} \left(e^{i \frac{\alpha - \beta}{2}} - e^{-i \frac{\alpha - \beta}{2}} \right)$$

$$= e^{i \frac{\alpha + \beta}{2}} 2i \sin \frac{\alpha - \beta}{2}$$

(VI) الجذور النونية لعدد عقدي غير منعدم.

(1) ليكن $z \in \mathbb{C}^*$ و $n \in \mathbb{N}^*$ نسمي جذر نوني للعدد z كل عدد عقدي z يحقق $z^n = z$.

(2) حلول المعادلة $z^n = a$ هي الجذور النونية للعدد a .

(3) ليكن $Z = [r, \theta]$ من \mathbb{C}^* الجذور النونية للعدد Z هي الأعداد

$$z_k = \left[\sqrt[n]{r}, \frac{\theta}{n} + \frac{2k\pi}{n} \right] / k \in \{0, 1, \dots, n-1\}$$

(4) الجذور النونية للعدد 1 هي الأعداد w_k حيث

$$k \in \{0, 1, \dots, n-1\}$$

(V) الشكل المثلثي لعدد عقدي غير منعدم.

(1) * ليكن $z \in \mathbb{C}^*$ و $M(z)$ نسمي عمدة العدد z كل قياس

للزاوية $(\vec{e}_1, \overline{OM})$ ونرمز له $\arg z$

$$\arg z \equiv \left(\vec{e}_1, \overline{OM} \right) [2\pi] \quad (*)$$

ملاحظة:

$$z \in i\mathbb{R}_+^* \Leftrightarrow \arg z \equiv \frac{\pi}{2}[2\pi]$$

$$z \in i\mathbb{R}_-^* \Leftrightarrow \arg z \equiv -\frac{\pi}{2}[2\pi]$$

$$z \in i\mathbb{R}^* \Leftrightarrow \arg z \equiv \frac{\pi}{2} + k\pi$$

$$z \in \mathbb{R}_+^* \Leftrightarrow \arg z \equiv 0[2\pi]$$

$$z \in \mathbb{R}_-^* \Leftrightarrow \arg z \equiv \pi[2\pi]$$

$$z \in \mathbb{R}^* \Leftrightarrow \arg z = k\pi$$

(2) كل عدد z من \mathbb{C}^* يكتب بطريقة وحيدة على شكل $z = r(\cos \theta + i \sin \theta)$ حيث $|z| = r$ و $\arg z \equiv \theta[2\pi]$ وهذه الكتابة

تسمى الشكل المثلثي للعدد z ونكتب $z = [r, \theta]$ أو $z = re^{i\theta}$.

(3) **ملاحظة:** $[r, \theta] = [r', \theta'] \Leftrightarrow r = r'$ و $\theta \equiv \theta'[2\pi]$ (a)

(b) للحصول على الشكل المثلثي للعدد $z = a + ib$ نتبع ما يلي

$$z = a + ib = \sqrt{a^2 + b^2} \left(\frac{a}{\sqrt{a^2 + b^2}} + i \frac{b}{\sqrt{a^2 + b^2}} \right)$$

$$= \sqrt{a^2 + b^2} (\cos \theta + i \sin \theta) = [\sqrt{a^2 + b^2}, \theta]$$

$$\cos \alpha - i \sin \alpha = \cos(-\alpha) + i \sin(-\alpha) \quad (c)$$

$$-\cos \alpha + i \sin \alpha = \cos(\pi - \alpha) + i \sin(\pi - \alpha)$$

$$-\cos \alpha - i \sin \alpha = \cos(\pi + \alpha) + i \sin(\pi + \alpha)$$

$$\sin \alpha + i \cos \alpha = \cos\left(\frac{\pi}{2} - \alpha\right) + i \sin\left(\frac{\pi}{2} - \alpha\right)$$

(4)

$$\arg(zz') \equiv \arg z + \arg z'[2\pi]$$

$$\arg z^n \equiv n \arg z[2\pi]$$

$$\arg\left(\frac{z}{z'}\right) \equiv \arg z - \arg z'[2\pi]$$

$$\arg\left(\frac{1}{z}\right) \equiv -\arg z[2\pi]$$

$$\arg(\bar{z}) \equiv -\arg z[2\pi]$$

$$[r, \theta] \cdot [r', \theta'] = [rr', \theta + \theta']$$

$$[r, \theta]^n = [r^n, n\theta]$$

$$\frac{[r, \theta]}{[r', \theta']} = \left[\frac{r}{r'}, \theta - \theta' \right]$$

$$\frac{1}{[r, \theta]} = \left[\frac{1}{r}, -\theta \right]$$

$$[r, \theta] = [r, -\theta]$$

$$e^{-i\theta} = \overline{e^{i\theta}} \quad (e^{i\theta})^n = e^{in\theta} \quad e^{i\theta} \cdot e^{i\theta'} = e^{i(\theta + \theta')}$$

$$\frac{1}{e^{i\theta}} = e^{-i\theta}$$

$$\frac{e^{i\theta}}{e^{i\theta'}} = e^{i(\theta - \theta')}$$

$$-i = e^{-i\frac{\pi}{2}} \quad i = e^{i\frac{\pi}{2}} \quad -1 = e^{i\pi} \quad \text{ملاحظة}$$

$$\left(\vec{e}_1, \overline{u}\right) \equiv \arg(\text{aff}(\vec{u})) [2\pi]$$

$$\left(\overline{u}, \vec{v}\right) \equiv \arg(\text{aff}(\vec{v})) - \arg(\text{aff}(\vec{u})) [2\pi]$$

(5)

$$\left(\vec{e}_1, \overline{AB}\right) \equiv \arg(z_B - z_A) [2\pi]$$

$$\left(\overline{AB}, \overline{CD}\right) \equiv \arg\left(\frac{z_D - z_C}{z_B - z_A}\right) [2\pi]$$

(VII) المعادلات من الدرجة II: خاصة:

نعتبر المعادلة $az^2 + bz + c = 0$ مع $a \neq 0$
نضع $\Delta = b^2 - 4ac$

1- إذا كان $\Delta = 0$ فإن المعادلة تقبل حلا وحيدا: $z = -\frac{b}{2a}$

2- إذا كان $\Delta \neq 0$ فإن Δ يقبل جذرين مربعين u و $-u$

يكون للمعادلة حلان: $z = \frac{-b+u}{2a}$ و $z = \frac{-b-u}{2a}$

ملاحظات:

(* نعتبر المعادلة $az^2 + bz + c = 0$ مع $a \neq 0$
إذا كان z_1 و z_2 حلي المعادلة فإن:

$$\begin{cases} z_1 + z_2 = -\frac{b}{a} \\ z_1 z_2 = \frac{c}{a} \end{cases}$$

(* نعتبر المعادلة $az^2 + 2b'z + c = 0$ مع $a \neq 0$
من أجل حل المعادلة نستعمل المميز المختصر

$$\Delta' = b'^2 - ac$$

1- إذا كان $\Delta' = 0$ المعادلة لها حل وحيد $z = -\frac{b'}{a}$

2- إذا كان $\Delta' \neq 0$ المعادلة لها حلان:

$z_1 = \frac{-b'+u}{2a}$ و $z_2 = \frac{-b'-u}{2a}$ حيث u جذر مربع Δ' .

(5) الجذور المربعة لعدد من \mathbb{C}^*

(a) الطريقة المثلثية:

ليكن $Z = [r, \theta]$ من \mathbb{C}^*

لنحدد الجذرين المربعين ل Z .
 $Z = [r, \theta] = \left[\sqrt{r}, \frac{\theta}{2} \right]^2$

إن جذري Z هما: $u = \left[\sqrt{r}, \frac{\theta}{2} \right]$ و $-u$

(b) الطريقة الجبرية:

(1) إذا كان $Z = a \in \mathbb{R}_+^*$

لدينا: $Z = a = (\sqrt{a})^2$

إن جذري Z هما $u = \sqrt{a}$ و $-u$

(2) إذا كان $Z = -a (a \in \mathbb{R}_+^*)$

$$Z = -a = i^2 (\sqrt{a})^2 = (i\sqrt{a})^2$$

إن جذري Z هما $u = i\sqrt{a}$ و $-u$

(3) إذا كان $Z = ib (b \in \mathbb{R}_+^*)$

$$Z = ib = 2i \cdot \frac{b}{2} = \left(\sqrt{\frac{b}{2}} \right)^2 (1+i)^2 = \left(\sqrt{\frac{b}{2}} (1+i) \right)^2$$

إن جذري Z هما $u = \sqrt{\frac{b}{2}} (1+i)$ و $-u$

(4) إذا كان $Z = -ib (b \in \mathbb{R}_+^*)$

$$Z = -ib = -2i \cdot \frac{b}{2} = \left(\sqrt{\frac{b}{2}} \right)^2 (1-i)^2 = \left(\sqrt{\frac{b}{2}} (1-i) \right)^2$$

إن جذري Z هما $u = \sqrt{\frac{b}{2}} (1-i)$ و $-u$

(5) إذا كان $Z = a + ib$ مع $(a \neq 0 \text{ و } b \neq 0)$

مثال:

لنحدد الجذرين المربعين للعدد:

$$Z = -3 + 4i$$

نضع $z = x + iy$ لدينا $z^2 = x^2 - y^2 + 2ixy$

$$|z|^2 = x^2 + y^2 \text{ و } |Z| = 5$$

$$z^2 = Z \Leftrightarrow \begin{cases} z^2 = Z \\ |z|^2 = |Z| \end{cases} \Leftrightarrow \begin{cases} x^2 - y^2 = -3 & (1) \\ 2xy = 4 & (2) \\ x^2 + y^2 = 5 & (3) \end{cases}$$

من (1) + (3) نستنتج أن $2x^2 = 2$ يعني $x = 1$ أو $x = -1$

ومن (1) - (3) نستنتج أن $2y^2 = 8$

$$y^2 = 4 \text{ يعني}$$

$$y = 2 \text{ أي } y = -2 \text{ أو } y = 2$$

ومن خلال (2) لدينا $xy = 2$ إذن x و y لهما نفس الإشارة

$$\begin{cases} x = -1 \\ y = -2 \end{cases} \text{ أو } \begin{cases} x = 1 \\ y = 2 \end{cases} \text{ إذن}$$

إن جذري Z هما $u = 1 + 2i$ و $-u$

(I) العبارة - الدالة العبارية

- (1) نسمي عبارة كل جملة مفيدة ويمكن الحكم على المعنى الذي تحمله بالصحة أو الخطأ.
(2) نسمي دالة عبارية كل نص يحتوي على متغير x من مجموعة E ويصبح عبارة كلما عوضنا x بعنصر محدد من E .

(II) المكملات

لتكن $A(x)$ دالة عبارية معرفة على مجموعة E .

- (1) العبارة: $(\exists x \in E): A(x)$ تقرأ " يوجد على الأقل x من E بحيث $A(x)$ " وتعني يوجد على الأقل عنصر x من E يحقق $A(x)$.
الرمز \exists يسمى المكمل الوجودي.
(2) العبارة $(\forall x \in E): A(x)$ تقرأ " مهما كان x من E لدينا $A(x)$ " وتعني أن جميع عناصر E تحقق $A(x)$.
الرمز \forall يسمى المكمل الكوني.

(III) العمليات المنطقية.**(1) النفي**

(a) نفي العبارة A هي العبارة التي نرسم لها $\neg A$ والتي تكون صحيحة إذا كانت A خاطئة وتكون خاطئة إذا كانت A صحيحة.

ملاحظة: " $\neg A$ هي عكس العبارة A "

(b) نفي العبارة " $(\forall x \in E): A(x)$ " هي العبارة " $(\exists x \in E): \neg A(x)$ " .

(c) نفي العبارة " $(\exists x \in E): A(x)$ " هي العبارة " $(\forall x \in E): \neg A(x)$ " .

(2) العطف

عطف العبارتين A و B هي العبارة التي نرسم لها $A \wedge B$ والتي تكون صحيحة فقط إذا كانت A صحيحة و B صحيحة .

(3) الفصل

فصل العبارتين A و B هي العبارة التي نرسم لها $A \vee B$ والتي تكون صحيحة فقط إذا كانت إحدى العبارتين على الأقل صحيحة.

(4) الاستلزام

استلزام العبارتين A و B هي العبارة التي نرسم لها $A \Rightarrow B$ والتي تكون خاطئة فقط إذا كانت A صحيحة و B خاطئة.
(وتقرأ A تستلزم B).

(5) التكافؤ

تكافؤ العبارتين A و B هي العبارة التي نرسم لها $A \Leftrightarrow B$ والتي تكون صحيحة فقط إذا كانت A و B نفس قيمة الحقيقة.
(وتقرأ A تكافؤ B).

(IV) القوانين المنطقية.**(1) تعريف:**

نسمي قانونا منطقيا كل عبارة مكونة من عدة عبارات مرتبطة بالروابط المنطقية وتكون صحيحة مهما كانت قيمة حقيقة هذه العبارات.

(2) جرد لأهم القوانين المنطقية.

$$(1) \quad \neg(\neg A) \Leftrightarrow A \quad (2) \quad (A \Rightarrow B) \Leftrightarrow (\neg B \Rightarrow \neg A)$$

$$(3) \quad (A \Leftrightarrow B) \Leftrightarrow (\neg A \Leftrightarrow \neg B)$$

$$(4) \quad (A \Leftrightarrow B) \Leftrightarrow (A \Rightarrow B \text{ et } B \Rightarrow A)$$

$$(5) \quad (A \text{ et } B) \Leftrightarrow (B \text{ et } A)$$

$$(6) \quad (A \text{ ou } B) \Leftrightarrow (B \text{ ou } A)$$

$$(7) \quad [(A \text{ et } B) \text{ et } C] \Leftrightarrow [A \text{ et } (B \text{ et } C)]$$

$$(8) \quad [A \text{ ou } (B \text{ ou } C)] \Leftrightarrow [(A \text{ ou } B) \text{ ou } C]$$

$$(9) \quad [A \Rightarrow B \text{ et } B \Rightarrow C] \Rightarrow (A \Rightarrow C)$$

$$(10) \quad \text{قانون التاكافؤات المتتالية}$$

$$(A \Leftrightarrow B \text{ et } B \Leftrightarrow C) \Rightarrow A \Leftrightarrow C$$

$$(11) \quad [A \text{ et } (B \text{ ou } C)] \Leftrightarrow [(A \text{ et } B) \text{ ou } (A \text{ et } C)]$$

$$(12) \quad [A \text{ ou } (B \text{ et } C)] \Leftrightarrow [(A \text{ ou } B) \text{ et } (A \text{ ou } C)]$$

$$(13) \quad \text{قانون موركان.}$$

$$7(A \text{ et } B) \Leftrightarrow (7A \text{ ou } 7B) (*)$$

$$7(A \text{ ou } B) \Leftrightarrow (7A \text{ et } 7B) (*)$$

$$(15) \quad \text{قانون الاستلزام المضاد للعكس}$$

$$(A \Rightarrow B) \Leftrightarrow (7B \Rightarrow 7A)$$

$$(16) \quad 7(A \Rightarrow B) \Leftrightarrow (7A \text{ et } 7B)$$

$$(17) \quad \text{قانون الخلف}$$

$$((7A \Rightarrow 7B) \text{ et } B) \Rightarrow A$$

$$(18) \quad \text{قانون فصل الحالات}$$

$$(A \Rightarrow C \text{ et } B \Rightarrow C) \Rightarrow [(A \text{ ou } B) \Rightarrow C]$$

(V) بعض الاستدلالات.**(1) الاستدلال بالتكافؤات المتتالية:**

لكي نبين أن العبارة A صحيحة يكفي أن نبين أن $A \Leftrightarrow B$ و B صحيحة.

(2) الاستدلال بالاستلزام المضاد للعكس:

لكي نبين أن $A \Rightarrow B$ يكفي أن نبين $7B \Rightarrow 7A$.

(3) الاستدلال بالخلف:

لكي نبين أن العبارة A صحيحة نفترض العكس ونصل إلى تناقض مع المعطيات.

(4) الاستدلال بفصل الحالات:

لتكن $E = E_1 \cup E_2$ لكي نبين أن $(\forall x \in E): A(x)$ يكفي أن نبين ما يلي: (*) إذا كان $x \in E_1$ فإن $A(x)$ صحيحة.
(*) إذا كان $x \in E_2$ فإن $A(x)$ صحيحة.

(5) الاستدلال بالترجع:

لكي نبين أن العبارة $P(n)$ صحيحة لكل عدد طبيعي $n \geq n_0$ نبين ما يلي:

(*) نبين أن العبارة صحيحة من أجل $n = n_0$

(*) نفترض العبارة P صحيحة من أجل n .

(*) نبين أن العبارة P صحيحة من أجل $n+1$.

(I) الحدوديات

1) تعريف

ليكن x من \mathbb{R} نعتبر التعبير

$$P(x) = a_n x^n + a_{n-1} x^{n-1} + \dots + a_1 x + a_0$$

حيث a_n, \dots, a_1, a_0 أعداد حقيقية و $a_n \neq 0$

(* $P(x)$ أو P تسمى حدودية من الدرجة n ونكتب $\deg P = n$.

(* الأعداد a_n, \dots, a_1, a_0 تسمى معاملات الحدودية P .

(b) تكون حدودية منعقدة إذا فقط إذا كانت جميع معاملات منعقدة.

(c) الحدودية المنعقدة ليست لها درجة.

(d) تكون حدوديتان متساويتان إذا فقط إذا كانت معاملات الحدود من نفس الدرجة متساوية.

(e) كل حدودية من الدرجة 1: $P(x) = ax + b$ تسمى حدانية.

(f) كل حدودية من الدرجة 2: $P(x) = ax^2 + bx + c$ تسمى ثلاثية الحدود.

(a) $\deg(P+Q) \leq \sup(\deg P, \deg Q)$ (2)

(b) $\deg(P-Q) \leq \sup(\deg P, \deg Q)$

(c) $\deg(P \cdot Q) = \deg P + \deg Q$

3) القسمة على $x - \alpha$

(a) لتكن $P(x)$ حدودية. نقول إن العدد α جذر للحدودية P أو صفر

للحدودية P إذا فقط إذا كان $P(\alpha) = 0$

(b) لتكن $P(x)$ حدودية.

$P(x)$ تقبل القسمة على $x - \alpha$ إذا فقط إذا كان $P(\alpha) = 0$.

ملاحظة:

(a) إذا أردنا أن نتحقق هل $P(x)$ تقبل القسمة على $x - \alpha$ نقوم بحساب $P(\alpha)$.

(* إذا كان $P(\alpha) = 0$ فإن $P(x)$ تقبل القسمة على $x - \alpha$.

(* إذا كان $P(\alpha) \neq 0$ فإن $P(x)$ لا تقبل القسمة على $x - \alpha$.

(b) إذا أردنا أن نتحقق هل $P(x)$ تقبل القسمة على $x + \alpha$ نقوم بحساب $P(-\alpha)$.

(II) المعادلات والمتراجحات من الدرجة II.

1) حل المعادلة $ax^2 + bx + c = 0$

نعتبر المعادلة $ax^2 + bx + c = 0$ (E) حيث $a \neq 0$

من أجل حل المعادلة (E) نقوم بحساب العدد $\Delta = b^2 - 4ac$

(* العدد Δ يسمى مميزا للمعادلة (E).

(* إذا كان $\Delta > 0$ فإن المعادلة (E) تقبل حلين مختلفين هما.

$$x_2 = \frac{-b + \sqrt{\Delta}}{2a} \quad x_1 = \frac{-b - \sqrt{\Delta}}{2a}$$

(* إذا كان $\Delta = 0$ فإن المعادلة (E) تقبل حلا وحيدا $x = \frac{-b}{2a}$

(* إذا كان $\Delta < 0$ فإن المعادلة (E) لا تقبل أي حل.

ملاحظة:

(a) نعتبر المعادلة $ax^2 + 2bx + c = 0$ (E) (يعني $b = 2b'$)

نستعمل المميز المختصر Δ' عوض المميز Δ . ولدنا $\Delta' = b'^2 - ac$ (* إذا كان $\Delta' > 0$ فإن المعادلة (E) تقبل حلين مختلفين هما.

$$x_2 = \frac{-b' + \sqrt{\Delta'}}{a} \quad x_1 = \frac{-b' - \sqrt{\Delta'}}{a}$$

(* إذا كان $\Delta' = 0$ فإن المعادلة (E) تقبل حلا وحيدا $x = \frac{-b'}{a}$

(* إذا كان $\Delta' < 0$ فإن المعادلة (E) لا تقبل أي حل.

(b) إذا كان $\Delta = \alpha^2$ فإن المعادلة تقبل حلين

$$x_2 = \frac{-b + \alpha}{2a} \quad x_1 = \frac{-b - \alpha}{2a}$$

2) تعميل ثلاثية الحدود

نعتبر ثلاثية الحدود $P(x) = ax^2 + bx + c$ مع $a \neq 0$

من أجل تعميل $P(x)$ نقوم بحل المعادلة $ax^2 + bx + c = 0$ (E)

(* إذا كان $\Delta > 0$ فإن المعادلة E تقبل حلين x_1 و x_2 ويكون تعميل

$$P(x) = a(x - x_1)(x - x_2)$$

(* إذا كان $\Delta = 0$ فإن المعادلة (E) تقبل حلا وحيدا x_0 ويكون

$$P(x) = a(x - x_0)^2$$

(* إذا كان $\Delta < 0$ فإن المعادلة (E) ليس لها حل والحدودية $P(x)$

ليس لها تعميل.

ملاحظة:

إذا كان $\Delta = 0$ فإن الحدودية $P(x)$ عبارة عن متطابقة هامة.

3) إشارة ثلاثية الحدود.

نعتبر الحدودية $P(x) = ax^2 + bx + c$ ($a \neq 0$)

من أجل دراسة إشارة $P(x)$ نقوم بحل

$$ax^2 + bx + c = 0$$
 (E)

(* إذا كان $\Delta > 0$ فإن المعادلة (E) تقبل حلين مختلفين x_1 و x_2

وتكون إشارة $P(x)$ هي

x	x_1	x_2
$ax^2 + bx + c$	إشارة a	عكس إشارة a

(* إذا كان $\Delta = 0$ فإن المعادلة (E) تقبل حلا وحيدا x_0 وتكون إشارة $P(x)$ هي:

x	x_0
$ax^2 + bx + c$	إشارة a

(* إذا كان $\Delta < 0$ فإن المعادلة (E) ليس لها حل وتكون إشارة $P(x)$ هي:

x	$-\infty$	$+\infty$
$ax^2 + bx + c$	إشارة a	

2) نظمة معادلتين من الدرجة الأولى بمجهولين.

نعتبر النظمة $(S) \begin{cases} ax+by=c \\ a'x+b'y=c' \end{cases}$ حيث الأعداد a و b و a' و b' ليست كلها منعدمة.

من أجل حل النظمة (S) نقوم بحساب المحددات التالية.

$$\Delta_x = \begin{vmatrix} c & b \\ c' & b' \end{vmatrix} = cb' - c'b \quad \Delta = \begin{vmatrix} a & b \\ a' & b' \end{vmatrix} = ab' - a'b$$

$$\Delta_y = \begin{vmatrix} a & c \\ a' & c' \end{vmatrix} = ac' - a'c$$

(a) إذا كان $\Delta \neq 0$: فإن النظمة تقبل حلا وحيدا.

$$S = \{(x, y)\} \quad y = \frac{\Delta_y}{\Delta} \quad x = \frac{\Delta_x}{\Delta}$$

(b) إذا كان $\Delta = 0$:

(* إذا كان $\Delta_x \neq 0$ أو $\Delta_y \neq 0$ فإن النظمة (S) ليس لها حل $s = \emptyset$

(* إذا كان $\Delta_x = 0$ و $\Delta_y = 0$ فإن النظمة (S) تكافئ إحدى المعادلتين.

3) إشارة $ax+by+c$

من أجل دراسة إشارة $ax+by+c$ نقوم بإنشاء

$$(D): ax+by+c=0$$

المستقيم (D) يقسم المستوى (P) إلى نصفي مستوى (P_1) و (P_2) . إذا عوضنا x و y بإحداثيات أي نقطة من (P_1) فإننا نحصل على إشارة ثابتة.

وإذا عوضنا x و y بإحداثيات أي نقطة من (P_2) فإننا نحصل على إشارة عكس الإشارة السابقة. ولمعرفة هذه الإشارة نعوض x و y بإحداثيات نقطة من (P_1) أو (P_2) نأخذ عادة إحداثيات θ هي $x=0$ و $y=0$.

4) مجموع وجداء جذري معادلة من الدرجة II.

(a) نعتبر المعادلة $(E): ax^2+bx+c=0$

(* إذا أردنا أن نبين أن المعادلة (E) تقبل حلين نقوم بحساب Δ ونجد $\Delta \geq 0$.

(* يمكن حساب مجموع وجداء هاذين الحلين بدون حل المعادلة

$$\begin{cases} x_1+x_2 = -\frac{b}{a} \\ x_1 \cdot x_2 = \frac{c}{a} \end{cases}$$

باستعمال الصيغ التالية

(b) إذا أردنا تحديد معادلة من الدرجة II يكون α و β حلين لها.

نقوم بحساب $\alpha+\beta$ و $\alpha\beta$ نجد $\alpha+\beta=S$ و $\alpha\beta=P$

وتكون هذه المعادلة هي $x^2-Sx+P=0$

(c) إذا أردنا حل النظمة $\begin{cases} x+y=S \\ x \cdot y=P \end{cases}$ نقوم بحل

$$t^2-St+P=0$$

إذا كان x_1 و x_2 هما الحلين فإن $\begin{cases} x \equiv x_1 \\ y = x_2 \end{cases}$ أو $\begin{cases} x = x_2 \\ y = x_1 \end{cases}$

$$S = \{(x_1, x_2), (x_2, x_1)\}$$

ملاحظة:

(1) ليكن α و β حلي المعادلة $ax^2+bx+c=0$.

$$\begin{cases} \alpha+\beta = -\frac{b}{a} \\ \alpha\beta = \frac{c}{a} \end{cases}$$

نعلم أن

إذا أردنا حساب حد يحتوي على α و β

نحاول إظهار $\alpha+\beta$ و $\alpha\beta$.

$$\alpha^2 + \beta^2 = (\alpha+\beta)^2 - 2\alpha\beta \quad (*)$$

$$\alpha^3 + \beta^3 = (\alpha+\beta)(\alpha^2 + \beta^2 + \alpha\beta)$$

$$= (\alpha+\beta)[(\alpha+\beta)^2 - 2\alpha\beta + \alpha\beta] \quad (*)$$

$$= (\alpha+\beta)[(\alpha+\beta)^2 - \alpha\beta]$$

$$\frac{1}{\alpha^2} + \frac{1}{\beta^2} = \frac{\alpha^2 + \beta^2}{\alpha^2\beta^2} = \frac{(\alpha+\beta)^2 - 2\alpha\beta}{(\alpha\beta)^2} \quad (*)$$

(2) ليكن x_1 و x_2 حلي معادلة من الدرجة الثانية. من أجل دراسة

إشارة x_1 و x_2 نقوم بحساب x_1+x_2 و $x_1 \cdot x_2$.

(* إذا كان $x_1 x_2 < 0$ فإن أحد العدد x_1 و x_2 موجب والآخر سالب.

(* إذا كان $x_1 x_2 > 0$ فإن x_1 و x_2 لهما نفس الإشارة وهي إشارة x_1+x_2 .

III) النظمت الخطية

1) المعادلات من الدرجة I بمجهولين:

نعتبر المعادلة $(1) ax+by+c=0$ حيث أحد العددين a أو b غير منعدم. من أجل حل المعادلة (1) نحسب x بدلالة y إذا كان $a \neq 0$ أو نحسب y بدلالة x إذا كان $b \neq 0$. مثلا إذا كان $a \neq 0$

$$S = \left\{ \left(\frac{-by-c}{a}, y \right) / y \in \mathbb{R} \right\} \quad \text{إذن } x = \frac{-by-c}{a}$$

I - الأساس

① نسمي أساسا كل زوج (\vec{i}, \vec{j}) مكون من متجهتين غير مستقيمتين \vec{i} و \vec{j} .

② ليكن $B = (\vec{i}, \vec{j})$ أساس. كل متجهة \vec{u} تكتب بطريقة وحيدة على شكل $\vec{u} = x\vec{i} + y\vec{j}$ الزوج (x, y) يسمى زوج إحداثياتي المتجهة \vec{u} بالنسبة للأساس B ونكتب $\vec{u}(x, y)$ أو $\vec{u} \begin{pmatrix} x \\ y \end{pmatrix}$.

ملاحظة: إذا أردنا تحديد إحداثيات المتجهة \vec{u} بالنسبة للأساس $B = (\vec{i}, \vec{j})$ نقوم بحساب المتجهة \vec{u} بدلالة \vec{i} و \vec{j} . وإذا وجدنا $\vec{u} = x\vec{i} + y\vec{j}$ فإن زوج إحداثياتي \vec{u} هو (x, y) ونكتب $\vec{u}(x, y)$.

③ ليكن $B = (\vec{i}, \vec{j})$ أساسا.

(a) لدينا $\vec{i}(1, 0)$ و $\vec{j}(0, 1)$

(b) نعتبر المتجهتين $\vec{u}(x, y)$ و $\vec{v}(x', y')$

لدينا $\vec{u} + \vec{v}(x+x', y+y')$ و $\vec{u} - \vec{v}(x-x', y-y')$ و $a\vec{u}(ax, ay)$

(c) نعتبر المتجهتين $\vec{u}(x, y)$ و $\vec{v}(x', y')$

(* نسمي محددة المتجهتين \vec{u} و \vec{v} بالنسبة للأساس B . العدد الذي نرمز له ب $\det(\vec{u}, \vec{v})$ والمعرف بما يلي:

$$\det(\vec{u}, \vec{v}) = \begin{vmatrix} x & x' \\ y & y' \end{vmatrix} = xy' - yx'$$

(* تكون المتجهتين \vec{u} و \vec{v} مستقيمتين إذا وفقط إذا كان $\det(\vec{u}, \vec{v}) \neq 0$

ملاحظة: ① لنكن \vec{i} و \vec{j} متجهتين غير مستقيمتين.

(* إذا كان $\alpha\vec{i} + \beta\vec{j} = \vec{0}$ فإن $\alpha = \beta = 0$

(* إذا كان $\alpha\vec{i} + \beta\vec{j} = \alpha'\vec{i} + \beta'\vec{j}$ فإن $\alpha = \alpha'$ و $\beta = \beta'$

② إذا كانت A و B و C ثلاث نقط غير مستقيمة فإن المتجهتين \vec{AB} و \vec{AC} غير مستقيمتين. وبالتالي تكون أساسا.

II - المعلم

① نسمي معلما كل مثلث (o, \vec{i}, \vec{j}) حيث o نقطة و \vec{i} و \vec{j} متجهتين غير مستقيمتين.

② نعتبر المعلم $R = (o, \vec{i}, \vec{j})$

لكل نقطة M من المستوى المتجهة \vec{OM} تكتب بطريقة وحيدة على شكل $\vec{OM} = x\vec{i} + y\vec{j}$ الزوج (x, y) يسمى زوج إحداثياتي النقطة

M بالنسبة للمعلم R ونكتب $M(x, y)$ أو $M \begin{pmatrix} x \\ y \end{pmatrix}$

ملاحظة: إذا أردنا تحديد إحداثيات M بالنسبة للمعلم (o, \vec{i}, \vec{j}) نقوم بحساب \vec{OM} بدلالة \vec{i} و \vec{j} . إذا وجدنا $\vec{OM} = x\vec{i} + y\vec{j}$ فإن $M(x, y)$

③ نعتبر المعلم $R = (o, \vec{i}, \vec{j})$

ونعتبر النقطتين $A(x_A, y_A)$ و $B(x_B, y_B)$

(* لدينا $\vec{AB}(x_B - x_A, y_B - y_A)$

(* إذا كان I منتصف $[AB]$ فإن إحداثيات النقطة I هي:

$$x_I = \frac{x_A + x_B}{2}, \quad y_I = \frac{y_A + y_B}{2}$$

ملاحظة: إذا كانت النقط A و B و C غير مستقيمة فإن المثلث (A, \vec{AB}, \vec{AC}) معلم.

III - المستقيم في المستوى

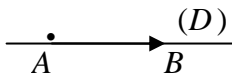
① **تعريف:** لنكن A نقطة و \vec{u} متجهة غير معدومة المستقيم المار من A والموجه بالمتجهة \vec{u} هو مجموعة النقط M التي يكون من أجلها \vec{AM} و \vec{u} مستقيمين ونرمز له ب $D(A, \vec{u})$ أو (D) .

ملاحظة:

(a) $M \in D(A, \vec{u})$ يعني \vec{AM} و \vec{u} مستقيمين.

(b) ليكن (D) مستقيم. كل متجهة موازية ل (Δ) تكون موجهة ل (D) .

(c) المستقيم (AB) مار من A وموجه بالمتجهة \vec{AB} .



② **تمثيل بارامترى لمستقيم.**

تعريف:

ليكن (D) المستقيم المار من $A(x_0, y_0)$ والموجه بالمتجهة $\vec{u}(a, b)$

تمثيل بارامترى للمستقيم (D) هو $(D) : \begin{cases} x = x_0 + at \\ y = y_0 + bt \end{cases} (t \in \mathbb{R})$

هذا التمثيل البارامترى يعني أن (D) هو مجموعة النقط التي تكون إحداثياتها على شكل $(1+3t, 2-4t)$ حيث $t \in \mathbb{R}$.
يعني كلما عوضنا t بقبمة من \mathbb{R} نحصل على إحداثيات نقطة من (D) .

مثلا من أجل $t=1$ نجد $x=4$ و $y=-2$ إذن $M(4, -2) \in (D)$.

③ **معادلة ديكارتية لمستقيم.**

(a) ليكن (D) المستقيم المار من $A(x_0, y_0)$ والموجه بالمتجهة $\vec{u}(a, b)$ للحصول على معادلة ديكارتية ل (D) نتبع ما يلي:

$$\det(\vec{AM}, \vec{u}) = 0 \quad \text{يعني} \quad M(x, y) \in (D)$$

$$\begin{vmatrix} x-x_0 & a \\ y-y_0 & b \end{vmatrix} = 0 \quad \text{يعني}$$

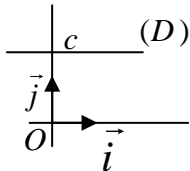
$$b(x-x_0) - a(y-y_0) \quad \text{يعني}$$

نقوم بالنشر ونحصل على معادلة على شكل $Ax + By + C = 0$ مع $(A, B) \neq (0, 0)$ وهي معادلة ديكارتية ل (D) ونكتب $(D): Ax + By + C = 0$.

(b) نعتبر المجموعة $(D): ax + by + c = 0$

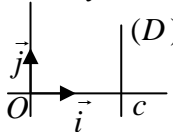
(D) مستقيما موجه بالمتجهة $\vec{u}(-b, a)$

(c) (*) إذا كان (D) مستقيما موازيا لمحور الأفاصل فإن المتجهة $\vec{i}(1, 0)$ موجهة له وتكون معادلته على شكل $y = c$.



(*) إذا كان (D) مستقيما موازيا

لمحور الأرتاب فإن المتجهة $\vec{j}(0, 1)$ موجهة له وتكون معادلته على شكل $x = c$.



(*) محور الأفاصل هو المستقيم المار من $o(0, 0)$ والموجه ب $\vec{i}(1, 0)$ معادلته $y = 0$.

* محور الأرتيب هو المستقيم المار من $(0,0)$ والموجه ب $\vec{j}(0,1)$ معادلته $x=0$.

4) المرور من معادلة ديكارتية إلى تمثيل بارامترى والعكس. أمثلة:

(a) نعتبر المستقيم $(\Delta): x+2y-1=0$ للحصول على تمثيل بارامترى ل (Δ) نستخرج نقطة ومتجهة ل (Δ) أو: $y=t$ أو $x=t$ ونحسب الآخر.

مثلا: نضع $y=t$ إذن $x+2t-1=0$ يعني $x=1-2t$ إذن $(\Delta) \begin{cases} x=1-2t \\ y=t \end{cases}$

(b) نعتبر المستقيم $(\Delta): \begin{cases} x=1+2t(1) \\ y=3+t(2) \end{cases}$ للحصول على معادلة ديكارتية ل (Δ) نستخرج نقطة ومتجهة موجهة أو نحسب t في (1) أو (2) ونعوض في الأخرى.

مثلا: من (2) لدينا $t=-y-3$ وبالتعويض في (1) نجد $x=1-2y-6$ إذن $(\Delta): x+2y+5=0$.

5) الأوضاع النسبية لمستقيمين:

(a) من أجل دراسة تقاطع المستقيمين (Δ) و (Δ') يمكن اتباع ما يلي:

(i) إذا كان $(\Delta): \begin{cases} x=x_0+at \\ y=y_0+bt \end{cases}$ ، $(\Delta'): \begin{cases} x=x_1+a't' \\ y=y_1+b't' \end{cases}$

نقوم بحل النظام $(S) \begin{cases} x_0+at=x_1+a't' \\ y_0+bt=y_1+b't' \end{cases}$

* إذا كان ل (S) حلا وحيدا $t=.$ و $t'=.$ فإن (Δ) و (Δ') يتقاطعان في نقطة ونحصل على إحداثياتهما بتعويض t في تمثيل (Δ) .

* إذا كان للنظمة (S) مالا نهاية له من الحلول فإن $(\Delta)=(\Delta')$.

(ii) إذا كان $(\Delta): \begin{cases} x=1+t \\ y=-1+2t \end{cases}$ و $(\Delta'): 2x-3y+1=0$

نقوم بحل النظام $(S) \begin{cases} x=1+t(1) \\ y=-1+2t(2) \\ 2x-3y+1=0(3) \end{cases}$

بتعويض x و y في (3) نحصل على معادلة من الدرجة * إذا كان لهذه المعادلة حل في (Δ) و (Δ') يتقاطعان في نقطة. نعوض t في (1) و (2) ونحصل عليها.

* إذا كانت المعادلة لا تقبل حل فإن (Δ) و (Δ') متوزيان قطعا.

* إذا كانت المعادلة تقبل ما لا نهاية له من الحلول فإن $(\Delta)=(\Delta')$.

(iii) إذا كان $(\Delta): x+2y-1=0$ و $(\Delta'): 2x-y+1=0$ نقوم بحل النظام $(S) \begin{cases} 2x-y+1=0 \\ x+2y-1=0 \end{cases}$ نفس حالات (i).

(b) نعتبر المستقيمين $(\Delta): ax+by+c=0$ و $(\Delta'): a'x+b'y+c'=0$

(i) إذا كان $\begin{vmatrix} a & b \\ a' & b' \end{vmatrix} \neq 0$ فإن (Δ) و (Δ') متقاطعان ونحل النظام للحصول على نقطة التقاطع.

(ii) إذا كان $\begin{vmatrix} a & b \\ a' & b' \end{vmatrix} = 0$ فإن $(\Delta) // (\Delta')$

* إذا كان $\begin{vmatrix} a & c \\ a' & c' \end{vmatrix} \neq 0$ أو $\begin{vmatrix} b & c \\ b' & c' \end{vmatrix} \neq 0$ فإن $(\Delta) // (\Delta')$ قطعا.

* إذا كان $\begin{vmatrix} a & c \\ a' & c' \end{vmatrix} = 0$ أو $\begin{vmatrix} b & c \\ b' & c' \end{vmatrix} = 0$ فإن $(\Delta)=(\Delta')$.

(c) إذا أردنا أن نبين أن (Δ) و (Δ') متوزيان أو غير متوازيين نختار متجهة \vec{u} موجهة ل (Δ) و \vec{v} موجهة ل (Δ') ونحسب

$$\det(\vec{u}, \vec{v})$$

(i) إذا كان $\det(\vec{u}, \vec{v})=0$ فإن $(\Delta) // (\Delta')$

(ii) إذا كان $\det(\vec{u}, \vec{v}) \neq 0$ فإن (Δ) و (Δ') متقاطعان.

(d) إذا كان $(\Delta) // (\Delta')$ فإن أي متجهة موجهة لأحدهما موجهة للآخر.

6) المعادلة المختصرة لمستقيم

(a) إذا كان (Δ) مستقيما غير موازي لمحور الأرتيب فإن معادلته تكتب على شكل $y=mx+p$ هذه المعادلة تسمى المعادلة المختصرة.

العدد يسمى المعامل الموجه أو ميل المستقيم (Δ) .

(b) ليكن (Δ) مستقيم موجه بالمتجهة $\vec{u}(a,b)$ مع $a \neq 0$ (يعني

$(\Delta) // (y'ox)$) المعامل الموجه ل (Δ) هو $m = \frac{b}{a}$.

(c) نعتبر المستقيمين $(\Delta): y=mx+p$ و $(\Delta'): y=m'x+p'$ يكون $(\Delta) // (\Delta')$

إذا فقط كان $m=m'$

(I) التحاكي

(A) تعريف

لتكن Ω نقطة و k عدد حقيقي غير منعدم .
التحاكي الذي مركزه Ω ونسبته k هو التطبيق
الذي نرمز له بـ $h(\Omega, k)$ والذي يربط
كل نقطة M من M' بالنقطة M بحيث
 $\overrightarrow{\Omega M'} = k \overrightarrow{\Omega M}$

(B) الخاصية المميزة

تكون النقطتان M' و N' صورتي النقطتين M و N على التوالي
بتحاكي h إذا وفقط إذا وجد عدد حقيقي $k \neq 1$ بحيث
 $\overrightarrow{M'N'} = k \overrightarrow{MN}$

(C) خاصيات

ليكن h تحاكي مركزه Ω ونسبته k .
(1) $h(M) = M'$ تكافئ $\overrightarrow{\Omega M'} = k \overrightarrow{\Omega M}$
(2) إذا كان $h(N) = N'$ و $h(M) = M'$ فإن
 $\overrightarrow{M'N'} = k \overrightarrow{MN}$

(3a) $h(\Omega) = \Omega$ (نقول إن Ω صامدة بالتحاكي h)

(b) $h(M) = M$ تكافئ $M = \Omega$

(هذا يعني أن Ω هي النقطة الوحيدة الصامدة بالتحاكي h)

(4) إذا كان $h(M) = M'$ فإن Ω و M و M' مستقيمة .

(5a) التحاكي يحافظ على المرجح يعني :

إذا كان G مرجح $\{(A, \alpha), (B, \beta)\}$ فإن G' مرجح

$$\{(A', \alpha), (B', \beta)\}$$

(b) التحاكي يحافظ على المنتصف يعني :

إذا كان I منتصف $[AB]$ فإن I' منتصف $[A'B']$

(c) التحاكي يحافظ على معامل استقامية متجهتين يعني :

إذا كان $\overrightarrow{AB} = \alpha \overrightarrow{CD}$ فإن $\overrightarrow{A'B'} = \alpha \overrightarrow{C'D'}$

(d) التحاكي يحافظ على استقامية 3 نقط يعني :

إذا كانت النقط A و B و C مستقيمة فإن صورها A' و B' و C' مستقيمة .

(6) التحاكي لا يحافظ على المسافة لكن لدينا .

إذا كان $h(A) = A'$ و $h(B) = B'$ فإن $h(B) = B'$ فإن $A'B' = |k| AB$

(7) التحاكي يحافظ على قياس الزوايا الهندسية يعني $\widehat{BAC} = \widehat{B'A'C'}$

(8a) صورة القطعة $[AB]$ بالتحاكي h هي القطعة $[A'B']$

(b) صورة المستقيم (AB) بالتحاكي h هي المستقيم $(A'B')$.

(c) صورة مستقيم (D) هو مستقيم (D') يوازي (D) .

(d) من أجل تحديد صورة مستقيم (D) بـ h يكفي تحديد صورة نقطتين
 A و B من (D) وسيكون $h(D) = (A'B')$ أو تحديد صورة نقطة
واحدة A وسيكون $h(D)$ هو المستقيم المار من A' والموازي للمستقيم
 (D) . $(h(A) = A')$

(e) إذا كان (D) مستقيماً ماراً من Ω فإن $h(D) = (D)$.

(نقول إن (D) صامد إجمالياً) .

(9) صورة الدائرة $C(O, r)$ بالتحاكي h هي الدائرة $C'(O', |k|r)$.

مع $O' = h(O)$.

(10a) ليكن E و F جزئين من المستوى .

$$h(E \cap F) = h(E) \cap h(F)$$

(b) إذا كانت $M \in E \cap F$ فإن $h(M) \in h(E) \cap h(F)$

(11) التحاكي يحافظ على التعامد والتوازي يعني :

صورة مستقيمين متعامدين هما مستقيمان متعامدان
و صورة مستقيمين متوازيين هما مستقيمان متوازيان .

(12) الصيغة التحليلية لتحاكي .

نفترض أن المستوى منسوب إلى معلم متعامد (O, \vec{i}, \vec{j}) .

(a) مثال 1: ليكن h تحاكي مركزه $\Omega(1, 2)$ ونسبته $k = 2$.

من أجل تحديد الصيغة التحليلية للتحاكي h نتبع مايلي :

ليكن $M(x, y)$ و $M'(x', y')$ بحيث $h(M) = M'$ ونقوم
بحساب x' و y' بدلالة x و y .

لدينا $h(M) = M'$ يعني $\overrightarrow{\Omega M'} = 2\overrightarrow{\Omega M}$

ولدينا $\overrightarrow{\Omega M'}(x'-1, y'-2)$ و $2\overrightarrow{\Omega M}(2x-2, 2y-4)$

$$\begin{cases} x'-1 = 2x-2 \\ y'-2 = 2y-4 \end{cases} \text{ يعني } \begin{cases} x' = 2x-1 \\ y' = 2y-2 \end{cases}$$

إذن الصيغة التحليلية لـ h هي :

$$h : \begin{cases} x' = 2x - 1 \\ y' = 2y - 2 \end{cases}$$

ملاحظة: إذا أردنا تحديد صورة نقطة A بـ h نعوض x و y بإحداثيات

A ونحصل على إحداثيات $h(A)$.

(b) مثال 2 .

نعتبر التطبيق f الذي صيغته التحليلية هي :

$$f : \begin{cases} x' = 3x + 2 \\ y' = 3y - 4 \end{cases}$$

من أجل تحديد طبيعة f نبحث عن النقط الصامدة بحل النظمة

$$\begin{cases} x' = x \\ y' = y \end{cases}$$

يعني $\begin{cases} 3x + 2 = x \\ 3y - 4 = y \end{cases}$ يعني $\begin{cases} x = -1 \\ y = 2 \end{cases}$ إذن f تقبل نقطة صامدة وحيدة

هي $\Omega(-1, 2)$.

ثم نأخذ $M(x, y)$ و $M'(x', y')$ بحيث $h(M) = M'$

لدينا إذن $\begin{cases} x' = 3x + 2 \\ y' = 3y - 4 \end{cases}$. ولدينا $\overrightarrow{\Omega M'}(x+1, y-2)$ يعني

$$\overrightarrow{\Omega M'}(3x+3, 3y-6) \text{ يعني } \overrightarrow{\Omega M'}(3x+2+1, 3y-4-2)$$

ولدينا $3\overrightarrow{\Omega M}(3x+3, 3y-6)$ إذن $\overrightarrow{\Omega M'} = 3\overrightarrow{\Omega M}$

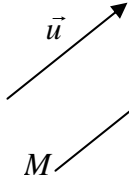
وبالتالي f تحاكي مركزه $\Omega(-1, 2)$ ونسبته $k = 3$.

(13) بعض التقنيات .

(a) لكي نحدد مركز تحاكي h . نسميه Ω نبحث عن نقطتين A و B
وصورتاهما A' و B' . لدينا $h(A) = A'$ و $h(B) = B'$ و Ω إذن A و A' مستقيمية
ومنه $\Omega \in (AA')$. ولدينا $h(B) = B'$ و Ω و B و B' مستقيمية
ونه $\Omega \in (BB')$ وبالتالي Ω هي نقطة تقاطع (AA') و (BB')

(III) الإزاحة

(A) تعريف



لتكن \vec{u} متجهة . الإزاحة التي متجهتها \vec{u} هي التطبيق الذي نرمز له بـ $t_{\vec{u}}$ والذي يربط كل نقطة M من (P) بالنقطة M' بحيث $\overrightarrow{MM'} = \vec{u}$

(B) الخاصية المميزة

تكون النقطتان M' و N' صورتين للنقطتين M و N على التوالي بالإزاحة $t_{\vec{u}}$ إذا وفقط إذا كان $\overrightarrow{M'N'} = \overrightarrow{MN}$

(C) خاصيات

جميع الخاصيات المتعلقة بالتحاكي تبقى صحيحة بالنسبة للإزاحة ، ماعدا (1) و (2) و (3) و (4) و (6) و (8cde) و (9) و (12) و (13abd) ولدينا :

(6) الإزاحة تحافظ على المسافة .

(8e) إذا كان (D) يوازي حامل \vec{u} (يعني \vec{u} موجهة لـ (D)) فإن $t_{\vec{u}}(D) = (D)$

(9) صورة الدائرة $C(O, r)$ بالإزاحة $t_{\vec{u}}$ هي الدائرة $C'(O', r)$ مع $O' = t_{\vec{u}}(O)$

ملاحظة

(a) $t_{\vec{u}}(M) = M'$ تكافئ $\overrightarrow{MM'} = \vec{u}$

(b) إذا كان $t_{\vec{u}}(M) = M'$ و $t_{\vec{u}}(N) = N'$ فإن $\overrightarrow{M'N'} = \overrightarrow{MN}$

(III) التماثل المحوري

(A) تعريف

لتكن (Δ) مستقيما التماثل المحوري الذي محوره (Δ) هو التطبيق الذي نرمز له بـ $S_{(\Delta)}$ والذي يربط كل نقطة M من (P) بالنقطة M' بحيث (Δ) يكون واسط القطعة $[MM']$

(B) خاصيات

جميع الخاصيات المتعلقة بالتحاكي تبقى صحيحة بالنسبة للتماثل المحوري ، ماعدا (1) و (2) و (3) و (4) و (5) و (6) و (8e) و (9) و (13abd) ولدينا :

(6) التماثل المحوري يحافظ على المسافة .

(8e) * إذا كان $(D) \perp (\Delta)$ فإن $t_{(\Delta)}(D) = (D)$

(* إذا كان $(D) // (\Delta)$ فإن $t_{(\Delta)}(D) // (D)$

(9) صورة الدائرة $C(O, r)$ بالتماثل المحوري $S_{(\Delta)}$ هي الدائرة $C'(O', r)$ مع $O' = S_{(\Delta)}(O)$

ملاحظة

(a) $S_{(\Delta)}(M) = M'$ تكافئ (Δ) واسط القطعة $[MM']$

(b) إذا كان $S_{(\Delta)}(M) = M$ تكافئ $M \in (\Delta)$ المستقيم (Δ) صامد نقطة بنقطة .

(b) من أجل تحديد نسبة تحاكي h نسميه k وهناك إكمانيتان :

(* نبحت عن المركز Ω ونقطة A وصورتها A' .

لدينا $h(A) = A'$ إذن $\overrightarrow{\Omega A'} = k \overrightarrow{\Omega A}$ ، ونقوم بحساب $\overrightarrow{\Omega A'}$ بدلالة $\overrightarrow{\Omega A}$ نجد مثلا $\overrightarrow{\Omega A'} = \alpha \overrightarrow{\Omega A}$ ونستنتج أن $k = \alpha$ أو نمر إلى القياس الجبري $\overrightarrow{\Omega A'} = k \overrightarrow{\Omega M}$ يعني $k = \frac{\overrightarrow{\Omega A'}}{\overrightarrow{\Omega M}}$

(* نبحت عن نقطتين A و B وصورتاهما A' و B' . لدينا $\overrightarrow{A'B'} = k \overrightarrow{AB}$ وتتبع نفس الطريقة السابقة .

(c) إذا أردنا أن نبين أن I' منتصف $[A'B']$ نبحت عن I و A و B بحيث $h(A) = A'$ و $h(B) = B'$ و $h(I) = I'$ ونستعمل الخاصية (5b) . لدينا I منتصف $[AB]$ إذن I' منتصف $[A'B']$.

(d) لكي نبين أن Ω و I و J مستقيمة يكفي أن نبين أن $h_{(\Omega, k)}(I) = J$

(e) لكي نحدد صورة نقطة M هناك عدة طرق من بينها :
* نستعمل التعريف $\overrightarrow{\Omega M'} = k \overrightarrow{\Omega M}$
* إذا كان M منتصف قطعة $[AB]$ نستعمل (5b) .
* إذا كانت $\overrightarrow{AM} = \alpha \overrightarrow{AB}$ نستعمل (5c) .
* إذا كانت M تقاطع جزئين نستعمل (10) .
لدينا $M \in E \cap F$ إذن $h(M) \in h(E) \cap h(F)$ (لدينا إذا كانت لدينا الصيغة التحليلية نستعملها .

(II) التماثل المركزي

(A) تعريف

لتكن Ω نقطة التماثل المركزي الذي مركزه Ω هو التطبيق الذي نرمز له بـ S_{Ω} والذي يربط كل نقطة M من (P) بالنقطة M' بحيث $\overrightarrow{\Omega M'} = -\overrightarrow{\Omega M}$.

(B) الخاصية المميزة

تكون النقطتان M' و N' صورتين للنقطتين M و N على التوالي بتماثل مركزي S_{Ω} إذا وفقط إذا كان $\overrightarrow{M'N'} = -\overrightarrow{MN}$

(C) خاصيات

جميع الخاصيات المتعلقة بالتحاكي تبقى صحيحة بالنسبة للتماثل المركزي مع تعويض k بـ -1 ، ماعدا (6) و (9) حيث تصبح .

(6) التماثل المركزي يحافظ على المسافة يعني .

إذا كان $h(A) = A'$ و $h(B) = B'$ فإن $\overrightarrow{A'B'} = \overrightarrow{AB}$

(9) صورة الدائرة $C(O, r)$ بالتماثل المركزي S_{Ω} هي الدائرة $C'(O', r)$ مع $O' = S_{\Omega}(O)$

ملاحظة

(a) $S_{\Omega}(M) = M'$ تكافئ Ω منتصف $[MM']$

(b) إذا كان $S_{\Omega}(M) = M$ و $S_{\Omega}(N) = N'$ فإن $\overrightarrow{M'N'} = -\overrightarrow{MN}$

(e) إذا كانت التجهتان \vec{u} و \vec{v} مستقيمتين ولهما منحيان متعاكسان فإن :

$$\vec{u} \cdot \vec{v} = -\|\vec{u}\| \cdot \|\vec{v}\|$$

(f) $\vec{u} \cdot \vec{v} = 0$ تكافئ $\vec{u} \perp \vec{v}$

$$\vec{u} \cdot \vec{v} = \vec{v} \cdot \vec{u} \quad (*) \text{ (g)}$$

$$\vec{u} \cdot (\vec{v} + \vec{w}) = \vec{u} \cdot \vec{v} + \vec{u} \cdot \vec{w} \quad (*)$$

$$\vec{u} \cdot (\vec{v} - \vec{w}) = \vec{u} \cdot \vec{v} - \vec{u} \cdot \vec{w} \quad (*)$$

$$(\alpha \vec{u}) \cdot \vec{v} = \vec{u} \cdot (\alpha \vec{v}) = \alpha (\vec{u} \cdot \vec{v}) \quad (*)$$

$$(\vec{u} + \vec{v})^2 = \vec{u}^2 + \vec{v}^2 + 2\vec{u} \cdot \vec{v} \quad (*)$$

$$(\vec{u} - \vec{v})^2 = \vec{u}^2 + \vec{v}^2 - 2\vec{u} \cdot \vec{v} \quad (*)$$

$$(\vec{u} + \vec{v}) \cdot (\vec{u} - \vec{v}) = \vec{u}^2 - \vec{v}^2 \quad (*)$$

(III) تطبيقات الجداء السلمي

(1) علاقة الكاشي .

ليكن (ABC) مثلثا لدينا :

$$BC^2 = AB^2 + AC^2 - 2AB \cdot AC \cdot \cos \hat{A}$$

$$AC^2 = BA^2 + BC^2 - 2BA \cdot BC \cdot \cos \hat{B}$$

$$AB^2 = CA^2 + CB^2 - 2CA \cdot CB \cdot \cos \hat{C}$$

(2) مبرهنة المتوسط

ليكن (ABC) مثلثا و I منتصف القطعة $[AB]$

$$\text{لدينا : } AB^2 + AC^2 = 2AI^2 + \frac{BC^2}{2}$$

$$\text{أو } AI^2 = \frac{1}{2} \left(AB^2 + AC^2 - \frac{BC^2}{2} \right)$$

(3) العلاقات المترية في مثلث قائم الزاوية .

(a) ليكن (ABC) مثلثا قائم الزاوية في A و A' منتصف $[BC]$ و H

المسقط العمودي لـ A على (BC) . لدينا :

$$AB^2 + AC^2 = BC^2 \quad (*) \text{ (علاقة فيثاغورس)}$$

$$BA^2 = \overline{BH} \cdot \overline{BC} = BH \cdot BC \quad (*)$$

$$CA^2 = \overline{CH} \cdot \overline{CB} = CH \cdot CB \quad (*)$$

$$AH^2 = \overline{HB} \cdot \overline{HC} = HB \cdot HC \quad (*)$$

$$AA' = \frac{1}{2} BC \quad (*)$$

(b) ليكن (ABC) مثلثا قائم الزاوية في A . لدينا :

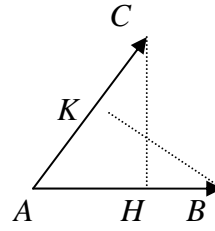
$$\cos \hat{B} = \frac{AC}{BC} \quad \cos \hat{B} = \frac{BA}{BC}$$

$$\tan \hat{B} = \frac{AC}{AB}$$

(c) ليكن (ABC) مثلثا . لدينا :

$$\frac{\sin \hat{A}}{BC} = \frac{\sin \hat{B}}{AC} = \frac{\sin \hat{C}}{AB}$$

(I) تعريف



(1) ليكن \overline{AB} و \overline{AC} متجهتين غير متعامدتين .

ليكن H المسقط العمودي لـ C على (AB)

و K المسقط العمودي لـ B على (AC)

نسمي الجداء السلمي للمتجهتين \overline{AC} و \overline{AB}

العدد الحقيقي الذي نرمز له بـ $\overline{AB} \cdot \overline{AC}$ والمعرف بما يلي :

$$\overline{AB} \cdot \overline{AC} = \overline{AB} \cdot \overline{AH}$$

$$= \overline{AC} \cdot \overline{AK}$$

$$= AB \cdot AC \cdot \cos(\hat{BAC})$$

(2) إذا كانت إحدى المتجهتين \overline{AB} أو \overline{AC} فإن $\overline{AB} \cdot \overline{AC} = 0$

(II) خاصيات

(1) ليكن \overline{AB} و \overline{CD} متجهتين غير متعامدتين .

ليكن C' المسقط العمودي لـ C على (AB)

ليكن D' المسقط العمودي لـ D على (AB)

$$\text{لدينا } \overline{AB} \cdot \overline{CD} = \overline{AB} \cdot \overline{C'D'}$$

ملاحظة :

من اجل حساب $\overline{AB} \cdot \overline{CD}$ نسقط إحدى المتجهتين على الأخرى ونمر من التجهتين إلى القياس الجبري ، مع الإحتفاظ بالنقط التي أسقطنا عليها ، ونعرض النقط التي أسقطناها بمساقطها .

(2a) نرمز لـ $\overline{AB} \cdot \overline{AB}$ بالرمز \overline{AB}^2 ويسمى المربع السلمي .

$$\text{(b) لدينا } \overline{AB}^2 = AB^2$$

(3a) إذا كانت التجهتان \overline{AB} و \overline{CD} مستقيمتين ولهما نفس المتحى فإن :

$$\overline{AB} \cdot \overline{CD} = AB \cdot CD$$

(b) إذا كانت التجهتان \overline{AB} و \overline{CD} مستقيمتين ولهما منحيان متعاكسان فإن :

$$\overline{AB} \cdot \overline{CD} = -AB \cdot CD$$

(4a) نقول إن التجهتين \overline{AB} و \overline{CD} متعامدتان إذا فقط إذا كان كـ المستقيمان

(AB) و (CD) متعامدين . ونكتب $\overline{AB} \perp \overline{CD}$

(b) لدينا $\overline{AB} \perp \overline{CD}$ تكافئ $\overline{AB} \cdot \overline{CD} = 0$

(5) إذا كانت النقط A و B و C و D مستقيمية فإن

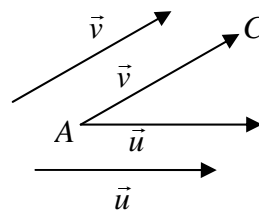
$$\overline{AB} \cdot \overline{CD} = \overline{AB} \cdot \overline{CD}$$

(6a) ليكن \vec{u} و \vec{v} متجهتين وليكن A و B و C 3 نقط بحيث

$$\overline{AC} = \vec{v} \quad \overline{AB} = \vec{u}$$

$$\text{لدينا : } \vec{u} \cdot \vec{v} = \overline{AB} \cdot \overline{AC}$$

(b) ليكن \vec{u} و \vec{v} متجهتين غير متعامدتين :



لدينا $\vec{u} \cdot \vec{v} = \|\vec{u}\| \cdot \|\vec{v}\| \cos(\hat{u}, \vec{v})$

$$\text{(c) } \vec{u}^2 = \|\vec{u}\|^2$$

(d) إذا كانت \vec{u} و \vec{v} مستقيمتين ولهما نفس المتحى فإن : $\vec{u} \cdot \vec{v} = \|\vec{u}\| \cdot \|\vec{v}\|$

5) المستقيم في المستوى

(a) ليكن (D) مستقيم و \vec{n} متجهة. نقول إن المتجهة \vec{n} منظمية على (D) إذا كان حامل \vec{n} عمودي على (D) (يعني $\vec{n} \perp (D)$).

(b) نعتبر المستقيم: $(D): ax+by+c=0$

لدينا $\vec{u}(-b, a)$ موجهة ل (D) و $\vec{n}(a, b)$ منظمية على (D) .

(c) معادلة مستقيم معرف بنقطة و متجهة منظمية عليه.

مثال: حدد المعادلة ديكرتية للمستقيم (D) المار من $A(1,2)$ والمتجهة $\vec{n}(-3,4)$ منظمية عليه.

طريقة 1.

$$M(x, y) \in (D) \Leftrightarrow \overline{AM} \cdot \vec{n} = 0$$

$$\Leftrightarrow \begin{pmatrix} x-1 \\ y-2 \end{pmatrix} \cdot \begin{pmatrix} -3 \\ 4 \end{pmatrix} = 0$$

$$\Leftrightarrow -3(x-1) + 4(y-2) = 0$$

$$(D): -3x + 4y - 5 = 0 \quad \text{إن}$$

طريقة 2. لدينا $\vec{n}(-3,4)$ منظمية على (D) إذن معادلة (D) على شكل

$(D): -3x + 4y - 5 = 0$ ولدينا $A(1,2)$ إذن $-3 \cdot 1 + 4 \cdot 2 + c = 0$ يعني $c = -5$ إذن $(D): -3x + 4y - 5 = 0$

(d) ليكن (D) مستقيم مار من A و \vec{n} منظمية عليه.

و (D') مستقيم مار من A' و \vec{n}' منظمية عليه.

(* يكون $(D) \perp (D')$ إذا وفقط إذا كان $\vec{n} \perp \vec{n}'$ يعني $\vec{n} \cdot \vec{n}' = 0$

(* يكون $(D) \parallel (D')$ إذا وفقط إذا كان $\vec{n} \parallel \vec{n}'$ يعني $\det(\vec{n}, \vec{n}') = 0$

(e) نعتبر المستقيمين: $(D): ax + by + c = 0$ و $(D'): a'x + b'y + c' = 0$

(* يكون $(D) \perp (D')$ إذا وفقط إذا كان $aa' + bb' = 0$

(* يكون $(D) \parallel (D')$ إذا وفقط إذا كان $\begin{vmatrix} a & b \\ a' & b' \end{vmatrix} = 0$

f) مسافة نقطة عن مستقيم.

(i) ليكن (D) مستقيم و A نقطة من المستوى.

نسمي مسافة A عن (D) العدد الذي نرمز له ب $d(A, (D))$ والمعروف

بما يلي $d(A, (D)) = AH$ حيث H هي المسقط العمودي ل A على (D) .

(ii) نعتبر المستقيم $(D): ax + by + c = 0$ والنقطة $A(x_0, y_0)$

$$d(A, (D)) = \frac{|ax_0 + by_0 + c|}{\sqrt{a^2 + b^2}} \quad \text{لدينا}$$

ملاحظة: مسافة النقطة A عن المستقيم (D) هي أصغر مسافة

بين A ونقط المستقيم (D) .

(g) واسط القطعة $[AB]$ هو المستقيم المار من I منتصف $[AB]$ و \overline{AB} منظمية عليه.

(h) (* مركز ثقل المثلث (ABC) هو تقاطع المتوسطات.

(* مركز تعامد المثلث (ABC) هو تقاطع الارتفاعات.

(* مركز الدائرة المحيطة بالمثلث (ABC) هو تقاطع الواسطات.

(* مركز الدائرة المحاطة بالمثلث (ABC) هو تقاطع المنصفات.

نفترض في كل ما يلي أن المستوى منسوب إلى معلم متعامد منظم (o, \vec{i}, \vec{j}) .

I) تحليلية الجداء السلمي

1) نعتبر المتجهتين $\vec{u}(x; y)$ و $\vec{v}(x'; y')$

لدينا $\vec{u} \cdot \vec{v} = xx' + yy'$ و $\|\vec{u}\| = \sqrt{x^2 + y^2}$

2) نعتبر النقطتين $A(x_A, y_A)$ و $B(x_B, y_B)$

لدينا $\overline{AB}(x_B - x_A, y_B - y_A)$ و $AB = \sqrt{(x_B - x_A)^2 + (y_B - y_A)^2}$

$$\vec{u} \perp \vec{v} \Leftrightarrow \vec{u} \cdot \vec{v} = 0 \quad 3$$

4

$$\vec{u} \cdot \vec{v} = \|\vec{u}\| \cdot \|\vec{v}\| \cos(\vec{u}, \vec{v}) \quad (a)$$

$$\cos(\vec{u}, \vec{v}) = \frac{\vec{u} \cdot \vec{v}}{\|\vec{u}\| \cdot \|\vec{v}\|} \quad \sin(\vec{u}, \vec{v}) = \frac{\det(\vec{u}, \vec{v})}{\|\vec{u}\| \cdot \|\vec{v}\|} \quad (b)$$

$$\cos(\widehat{BAC}) = \cos(\overline{AB}, \overline{AC}) = \frac{\overline{AB} \cdot \overline{AC}}{\|\overline{AB}\| \cdot \|\overline{AC}\|} = \frac{\overline{AB} \cdot \overline{AC}}{AB \cdot AC} \quad (c)$$

$$\sin(\widehat{BAC}) = \left| \sin(\overline{AB}, \overline{AC}) \right| = \left| \frac{\det(\overline{AB}, \overline{AC})}{AB \cdot AC} \right| \quad (d)$$

ملاحظة:

(a) إذا أردنا تحديد قياسا للزاوية الهندسية \widehat{BAC} يكفي حساب $\cos(\widehat{BAC})$

نجد مثلا: $\cos(\widehat{BAC}) = -\frac{1}{2}$

يعني $\cos(\widehat{BAC}) = \cos \frac{2\pi}{3}$

إذن $\widehat{BAC} = \frac{2\pi}{3}$

(b) إذا أردنا تحديد قياس الزاوية الموجهة $(\overline{AB}, \overline{AC})$ نقوم بحساب

$$\cos(\overline{AB}, \overline{AC}) \quad \text{و} \quad \sin(\overline{AB}, \overline{AC})$$

نجد مثلا: $\cos(\overline{AB}, \overline{AC}) = \frac{-\sqrt{2}}{2}$ و $\sin(\overline{AB}, \overline{AC}) = \frac{-\sqrt{2}}{2}$

ومن أجل تحديد قياس الزاوية نتبع ما يلي:

$$\cos(\overline{AB}, \overline{AC}) = \cos \frac{3\pi}{4} \quad \text{يعني} \quad \cos(\overline{AB}, \overline{AC}) = \frac{-\sqrt{2}}{2}$$

$$\text{يعني} \quad (\overline{AB}, \overline{AC}) = \frac{3\pi}{4} + 2k\pi \quad \text{أو} \quad (\overline{AB}, \overline{AC}) = \frac{-3\pi}{4} + 2k\pi$$

ولدينا $\sin(\overline{AB}, \overline{AC}) < 0$

$$\text{إذن} \quad (\overline{AB}, \overline{AC}) = \frac{-3\pi}{4} + 2k\pi$$

$$\text{يعني} \quad (\overline{AB}, \overline{AC}) \equiv \frac{-3\pi}{4} + 2k\pi$$

(II) دراسة تحليلية للدائرة.

1) الدائرة التي مركزها Ω وشعاعها r هي مجموعة M التي تحقق $\Omega M = r$.

2) معادلة الدائرة (C) التي مركزها $\Omega(a,b)$ وشعاعها r هي $(x-a)^2 + (y-b)^2 = r^2$ نقوم بالنشر ونحصل على معادلة على شكل $x^2 + y^2 + \alpha x + \beta y + \gamma = 0$.

3) نعتبر المجموعة (Γ) التي معادلتها $x^2 + y^2 + \alpha x + \beta y + \gamma = 0$ من أجل دراسة طبيعة المجموعة (Γ) هناك طريقتان:

ط1: نضع $a = -\frac{\alpha}{2}$ $b = -\frac{\beta}{2}$ $c = \gamma$ ونقوم بحساب $a^2 + b^2 - c$

(* إذا كان $a^2 + b^2 - c < 0$ فإن $\Gamma = \emptyset$

(* إذا كان $a^2 + b^2 - c = 0$ فإن $\Gamma = \{\Omega(a,b)\}$

(* إذا كان $a^2 + b^2 - c > 0$ فإن (Γ) دائرة مركزها $\Omega(a,b)$ وشعاعها $r = \sqrt{a^2 + b^2 - c}$.

ط2: نقوم بتحويل المعادلة لنعرجها على شكل $(x-a)^2 + (y-b)^2 = k$

باستعمال بداية متطابقة هامة $X^2 + \alpha X = \left(X + \frac{\alpha}{2}\right)^2 - \left(\frac{\alpha}{2}\right)^2$.

(* إذا كان $k < 0$ فإن $(\Gamma) = \emptyset$.

(* إذا كان $k = 0$ فإن $\Gamma = \{\Omega(a,b)\}$.

(* إذا كان $k > 0$ فإن (Γ) دائرة مركزها $\Omega(a,b)$ وشعاعها $r = \sqrt{k}$.

4) معادلة دائرة معرفة بأحد أقطارها.

لتكن (ℓ) دائرة أحد أقطارها $[AB]$ للحصول على معادلة (ℓ) هناك طريقتان:

ط1: نستعمل الصيغة: $(x-x_A)(x-x_B) + (y-y_A)(y-y_B) = 0$

$M(x,y) \in (\ell) \Leftrightarrow \overline{AM} \cdot \overline{BM} = 0$

ط2: نتبع ما يلي: $\Leftrightarrow \begin{pmatrix} x-x_A \\ y-y_A \end{pmatrix} \cdot \begin{pmatrix} x-x_B \\ y-y_B \end{pmatrix} = 0$

ملاحظة: إذا كان (ABC) قائم الزاوية في A فإن الدائرة المحيطة بالمثلث (ABC) هي الدائرة التي قطرها $[BC]$. مركزها هو منتصف $[BC]$ شعاعها هو $\frac{BC}{2}$.

5) تمثيل باراميتري للدائرة.

تمثيل باراميتري للدائرة (ℓ) التي مركزها $\Omega(a,b)$ وشعاعها r هو

$(C): \begin{cases} x = a + r \cos \theta \\ y = b + r \sin \theta \end{cases} (\theta \in \mathbb{R})$.

6) داخل خارج دائرة:

لتكن (C) دائرة مركزها $\Omega(a,b)$ وشعاعها r معادلتها

$x^2 + y^2 + \alpha x + \beta y + c = 0$ ونعتبر النقطة $M(\alpha, \beta)$

(* تكون M خارج الدائرة (ℓ) إذا وفقط إذا كان:

$\Omega M > 0$ أو $\alpha^2 + \beta^2 + \alpha\alpha + \beta\beta + c > 0$

(* تكون M داخل الدائرة (ℓ) إذا وفقط إذا كان:

$\Omega M < 0$ أو $\alpha^2 + \beta^2 + \alpha\alpha + \beta\beta + c < 0$

(* $M \in (C)$ إذا وفقط إذا كان $\Omega M = r$ أو

$\alpha^2 + \beta^2 + \alpha\alpha + \beta\beta + c = 0$

7) تقاطع مستقيم ودائرة.

لتكن (C) دائرة مركزها Ω وشعاعها r ومعادلتها

$$x^2 + y^2 + ax + by + c = 0$$

ونعتبر المستقيم $(\Delta): \alpha x + \beta y + \gamma = 0$.

من أجل دراسة تقاطع (C) و (Δ) نقوم بحساب $d(\Omega, (\Delta))$.

(a) إذا كانت $d(\Omega, (\Delta)) > r$ فإن (Δ) يوجد خارج (C) وبالتالي لا يقطع (C) .

(b) إذا كانت $d(\Omega, (\Delta)) = r$ فإن (Δ) يقطع (C) في نقطة واحدة A ونقول في هذه الحالة إن (Δ) مماس ل (C) في النقطة A و A تسمى نقطة التماس.

وللحصول على نقطة التماس نقوم بحل

$$\begin{cases} x^2 + y^2 + ax + by = 0 \\ \alpha x + \beta y + \gamma = 0 \end{cases} \text{النظمة}$$

(c) إذا كانت $d(\Omega, (\Delta)) < r$ فإن (Δ) يقطع (C) في نقطتين A

و B ، وللحصول على إحداثيات النقطتين A و B نقوم بحل

$$\begin{cases} x^2 + y^2 + ax + by = 0 \\ \alpha x + \beta y + \gamma = 0 \end{cases} \text{النظمة}$$

8) معادلة مماس لدائرة.

لتكن (C) دائرة مركزها Ω وشعاعها r

ومعادلتها $x^2 + y^2 + ax + by + c = 0$ وليكن (T) المماس ل (C) في

النقطة $A(x_0, y_0)$.

للحصول على معادلة (T) هناك طريقتان:

ط1: نستعمل الصيغة $(T): x_0 x + y_0 y + \frac{a}{2}(x_0 + x) + \frac{b}{2}(y_0 + y) + c = 0$

ط2: (T) هو المستقيم المار من Ω والمتجه $\overline{\Omega A}$ منظمية عليه.

ملاحظة: يكون (T) مماسا ل (C) في A إذا وفقط إذا كان (T)

عموديا على (ΩA) في A .

(c) تكون \vec{u} و \vec{v} و \vec{w} مستوائية إذا فقط إذا كانت إحداها تكتب بدلالة الأخرى مثلا: $\vec{w} = \alpha\vec{u} + \beta\vec{v}$.

(d) إذا كانت \vec{u} و \vec{v} و \vec{w} غير مستوائية و $\alpha\vec{u} + \beta\vec{v} + \gamma\vec{w} = \vec{0}$ فإن $\alpha = \beta = \gamma = 0$.

(II) المعلم في الفضاء

(1) نسمي معلما في الفضاء كل رباعي $(O, \vec{i}, \vec{j}, \vec{k})$ حيث O نقطة من الفضاء و \vec{i} و \vec{j} و \vec{k} 3 متجهات غير مستوائية يعني أساس.

(2) ليكن $R(O, \vec{i}, \vec{j}, \vec{k})$ معلما في الفضاء.

(a) لكل نقطة M من الفضاء المتجهة \vec{OM} نكتب بطريقة وحيدة على شكل المتلوث $\vec{OM} = x\vec{i} + y\vec{j} + z\vec{k}$. المتلوث (x, y, z) يسمى متلوث

إحداثيات النقطة M بالنسبة للمعلم R ونكتب $M(x, y, z)$ أو $M \begin{pmatrix} x \\ y \\ z \end{pmatrix}$

$$M(x, y, z) \Leftrightarrow \vec{OM} = x\vec{i} + y\vec{j} + z\vec{k} \quad \text{ملاحظة}$$

(b) نعتبر النقطتين $A(x, y, z)$ و $B(x', y', z')$

$$*\vec{AB} = (x' - x, y' - y, z' - z)$$

(*) إذا كان I منتصف القطعة $[AB]$ فإن

$$I \left(\frac{x+x'}{2}, \frac{y+y'}{2}, \frac{z+z'}{2} \right)$$

(III) المستقيم في الفضاء

(1) تعريف

لتكن A نقطة و \vec{u} متجهة. المستقيم المار من A والموجه ب \vec{u} هو المجموعة التي نرسم لها ب $D(A, \vec{u})$ والمعرفة ب

$$D(A, \vec{u}) = \{M \in E \mid \vec{AM} = \alpha\vec{u}\} \quad (D)$$

ملاحظة $M \in D(A, \vec{u}) \Leftrightarrow \vec{AM}$ و \vec{u} مستقيمتين

(2) تمثيل باراميتري لمستقيم

تمثيل باراميتري للمستقيم (D) المار من $A(x_0, y_0, z_0)$ والموجه

$$(D): \begin{cases} x = x_0 + at \\ y = y_0 + bt \\ z = z_0 + ct \end{cases} \quad \text{بالمتجهة } \vec{u}(a, b, c) \text{ هو: } (t \in \mathbb{R})$$

(3) معادلتان ديكارتيتان لمستقيم.

ليكن (D) المستقيم المار من $A(x_0, y_0, z_0)$ والموجه ب $\vec{u}(a, b, c)$ (* إذا كانت الأعداد a و b و c غير منعدمة فإن معادلتنا (D) هما:

$$\frac{x - x_0}{a} = \frac{y - y_0}{b} = \frac{z - z_0}{c}$$

(*) إذا كان عدد واحد منعدم و عددان غير منعدمين مثلا $a \neq 0, b = 0$ و

$$\begin{cases} \frac{x - x_0}{a} = \frac{z - z_0}{c} \\ y - y_0 = 0 \end{cases} \quad \text{فإن معادلتنا } (D) \text{ هما:}$$

(I) الأساس في الفضاء التجهي V_3

(1) لتكن \vec{u} و \vec{v} و \vec{w} 3 متجهات من V_3 و A و B و C و D 4 نقط بحيث $\vec{AB} = \vec{u}$ و $\vec{AC} = \vec{v}$ و $\vec{AD} = \vec{w}$.

نقول إن المتجهات \vec{u} و \vec{v} و \vec{w} مستوائية إذا فقط إذا كانت النقطة A و B و C و D مستوائية.

نقول إن المتجهات \vec{u} و \vec{v} و \vec{w} غير مستوائية إذا فقط إذا كانت النقطة A و B و C و D غير مستوائية.

(2) لتكن \vec{i} و \vec{j} و \vec{k} 3 متجهات غير مستوائية من V_3 .

(*) كل متجهة من V_3 تكتب بطريقة وحيدة على شكل

$$\vec{u} = x\vec{i} + y\vec{j} + z\vec{k}$$

(*) نقول إن المتلوث $B = (\vec{i}, \vec{j}, \vec{k})$ أساس في الفضاء V_3 .

(*) إذا كانت $\vec{u} = x\vec{i} + y\vec{j} + z\vec{k}$ فإن المتلوث (x, y, z) يسمى

متلوث إحداثيات المتجهة \vec{u} بالنسبة للأساس $B = (\vec{i}, \vec{j}, \vec{k})$ ونكتب

$$\vec{u} : (x, y, z) \text{ أو } \vec{u} \begin{pmatrix} x \\ y \\ z \end{pmatrix}$$

(3) ليكن $B = (\vec{i}, \vec{j}, \vec{k})$ أساس في الفضاء V_3 .

(a) نعتبر المتجهتين $\vec{u} : (x, y, z)$ و $\vec{v} : (x', y', z')$

لدينا $\alpha\vec{u} : (\alpha x, \alpha y, \alpha z)$ و $\vec{u} + \vec{v} : (x + x', y + y', z + z')$

(b) نعتبر المتجهتين $\vec{u} : (x, y, z)$ و $\vec{v} : (x', y', z')$

من أجل دراسة استقامة المتجهتين \vec{u} و \vec{v} نقوم بحساب المحددات الثلاثة

المستخرجة من جدول إحداثيات \vec{u} و \vec{v} وهي:

$$\begin{vmatrix} x & x' \\ y & y' \\ z & z' \end{vmatrix} \text{ و } \begin{vmatrix} x & x' \\ x & x' \\ y & y' \end{vmatrix} \text{ و } \begin{vmatrix} x & x' \\ x & x' \\ z & z' \end{vmatrix}$$

(*) إذا كانت هذه المحددات الثلاثة منعدمة فإن \vec{u} و \vec{v} مستقيمتين.

(*) إذا كانت إحدى هذه المحددات غير منعدمة فإن \vec{u} و \vec{v} غير مستقيمتين.

(c) نعتبر المتجهات $\vec{u} : (x, y, z)$ و $\vec{v} : (x', y', z')$ و

$$\vec{w} : (x'', y'', z'')$$

(*) نسمي محددات المتجهات \vec{u} و \vec{v} و \vec{w} العدد الذي نرسم له بالرمز

$$\det(\vec{u}, \vec{v}, \vec{w}) \text{ والمعرف بما يلي:}$$

$$\det(\vec{u}, \vec{v}, \vec{w}) = \begin{vmatrix} x & x' & x'' \\ y & y' & y'' \\ z & z' & z'' \end{vmatrix} = x \begin{vmatrix} y' & y'' \\ z' & z'' \end{vmatrix} - y \begin{vmatrix} x' & x'' \\ z' & z'' \end{vmatrix} + z \begin{vmatrix} x' & x'' \\ y' & y'' \end{vmatrix}$$

(*) تكون \vec{u} و \vec{v} و \vec{w} مستوائية إذا فقط إذا كان $\det(\vec{u}, \vec{v}, \vec{w}) = 0$

ملاحظة

(a) تكون \vec{u} و \vec{v} مستقيمتين إذا فقط إذا كان $\vec{v} = \alpha\vec{u}$ أو $\vec{u} = \alpha\vec{v}$

(b) إذا كانت \vec{u} و \vec{v} غير مستقيمتين و $\alpha\vec{u} + \beta\vec{v} = \vec{0}$ فإن $\alpha = \beta = 0$

$$M(x, y, z) \in (P) \Leftrightarrow \det(\overrightarrow{AM}, \vec{u}, \vec{v}) = 0$$

$$\Leftrightarrow \begin{vmatrix} x - x_0 & a & a' \\ y - y_0 & b & b' \\ z - z_0 & c & c' \end{vmatrix} = 0$$

نقوم بالنشر ونحصل على معادلة على شكل $Ax + By + Cz + D = 0$ حيث $(A, B, C) \neq (0, 0, 0)$.

(4) تقاطع مستويين

ملاحظة من أجل دراسة تقاطع مستويين يستحسن استعمال معادلتين ديكارتيتين $(P): ax + by + cz + d = 0$

$$(Q): a'x + b'y + c'z + d' = 0$$

من أجل دراسة تقاطع (P) و (Q) نقوم بحساب المحددات

$$\begin{vmatrix} b & c \\ b' & c' \end{vmatrix} \text{ و } \begin{vmatrix} a & c \\ a' & c' \end{vmatrix} \text{ و } \begin{vmatrix} a & b \\ a' & b' \end{vmatrix}$$

(a) إذا كانت هذه المحددات الثلاثة منعدمة فإن $(P) \parallel (Q)$.

(b) إذا كانت إحدى هذه المحددات غير منعدمة فإن (P) و (Q) يتقاطعان وفق المستقيم (D) الذي معادلته الديكارتية هما :

$$(D): \begin{cases} ax + by + cz + d = 0 \\ a'x + b'y + c'z + d' = 0 \end{cases}$$

(5) تقاطع مستوى ومستقيم

ملاحظة من أجل دراسة تقاطع مستوى ومستقيم يستحسن استعمال معادلة ديكارتية بالنسبة للمستوى وتمثيل باراميتري بالنسبة للمستقيم.

نعتبر المستوى $(P): \alpha x + \beta y + \gamma z + \delta = 0$ والمستقيم

$$(\Delta): \begin{cases} x = x_0 + at \\ y = y_0 + bt \\ z = z_0 + ct \end{cases}$$

من أجل دراسة تقاطع (P) و (Δ) نقوم بحل النظام :

$$\begin{cases} x = x_0 + at & (1) \\ y = y_0 + bt & (2) \\ z = z_0 + ct & (3) \\ \alpha x + \beta y + \gamma z + \delta = 0 & (4) \end{cases}$$

ولهذا نعوض x و y و z في (4) نحصل على معادلة من الدرجة (I) بمجهول واحد t .

(a) إذا كان لهذه المعادلة حلا $t = t_0$ فإن (Δ) يقطع (P) في نقطة (نحصل على إحداثياتها بتعويض t في (1) و (2) و (3)).

(b) إذا كان لهذه المعادلة مالا نهاية له من الحلول $(0 = 0)$ فإن $(\Delta) \subset (P)$.

(c) إذا كانت هذه المعادلة لا تقبل حلا " $4 = 0$ " مثلا " فإن (Δ) و (P) متوازيان قطعاً.

ملاحظة

(*) $D(A, \vec{u}) \parallel D(B, \vec{v})$ تكافئ \vec{u} و \vec{v} مستقيمتين

(*) $D(A, \vec{u}) \parallel P(B, \vec{v}, \vec{w})$ تكافئ \vec{u} و \vec{v} و \vec{w} مستوائية

(*) $P(A, \vec{u}, \vec{v}) \parallel P'(B, \vec{x}, \vec{y})$ تكافئ \vec{u} و \vec{x} و \vec{y} مستوائية

و \vec{v} و \vec{x} و \vec{y} مستوائية.

(* إذا كان عددين منعدمين وعدد واحد غير منعدمين مثلا $a = 0$ ، $b = 0$

$$\begin{cases} x - x_0 = 0 \\ y - y_0 = 0 \end{cases} \text{ و } c \neq 0 \text{ فإن معادلتا } (D) \text{ هما :}$$

(4) الأوضاع النسبية لمستقيمين

ملاحظة من أجل دراسة الأوضاع النسبية لمستقيمين يستحسن استعمال تمثيلين باراميتريين .
نعتبر المستقيمين

$$(\Delta): \begin{cases} x = x_0 + at \\ y = y_0 + bt \\ z = z_0 + ct \end{cases} \text{ و } (\Delta'): \begin{cases} x = x_1 + a't' \\ y = y_1 + b't' \\ z = z_1 + c't' \end{cases}$$

لدينا (Δ) مار من $A(x_0, y_0, z_0)$ وموجه ب $\vec{u}(a, b, c)$

و (Δ') مار من $B(x_1, y_1, z_1)$ وموجه ب $\vec{u}'(a', b', c')$

من أجل دراسة تقاطع (Δ) و (Δ') نفور بدراسة استقامية \vec{u} و \vec{u}'

(a) إذا كانت \vec{u} و \vec{u}' مستقيمتين فإن $(\Delta) \parallel (\Delta')$. ولمعرفة هل (Δ) و (Δ') منطبقان أم متوازيان قطعاً . نتحقق هل $A \in (\Delta')$ ؟

(* إذا كان $A \in (\Delta')$ فإن $(\Delta) = (\Delta')$.

(* إذا كان $A \notin (\Delta')$ فإن (Δ) و (Δ') متوازيان قطعاً .

(b) إذا كانت \vec{u} و \vec{u}' غير مستقيمتين فإن (Δ) و (Δ') متقطعان أو غير مستوائيين ، ولمعرفة أي حالة لدينا نقوم بحل النظام :

$$(S) \begin{cases} x_0 + at = x_1 + a't' \\ y_0 + bt = y_1 + b't' \\ z_0 + ct = z_1 + c't' \end{cases}$$

في الثالثة .

(i) إذا كان للنظمة (S) حلا فإن (Δ) و (Δ') متقطعان وللحصول على

إحداثيات نقطة التقاطع نعوض t في تمثيل (Δ) أو t' في تمثيل (Δ') .

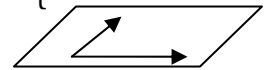
(ii) إذا كانت للنظمة (S) لا تقبل حلا فإن (Δ) و (Δ') غير مستوائيين.

(IV) المستوى في الفضاء

(1) تعريف

لنكن A نقطة و \vec{u} و \vec{v} متجهتين . المستوى المار من A والموجه ب \vec{u} و \vec{v} هو المجموعة التي نرمز لها ب $P(A, \vec{u}, \vec{v})$ والمعرفة ب

$$P(A, \vec{u}, \vec{v}) = \{M \in E / \overrightarrow{AM} = \alpha \vec{u} + \beta \vec{v}\}$$



ملاحظة $(AM \text{ و } \vec{u} \text{ و } \vec{v} \text{ مستوائية}) \Leftrightarrow M \in P(A, \vec{u}, \vec{v})$

(2) تمثيل باراميتري لمستوى

ليكن (P) المستوى المار من $A(x_0, y_0, z_0)$ والموجه بالمتجهتين

$\vec{u}(a, b, c)$ و $\vec{v}(a', b', c')$ تمثيل باراميتري للمستوى (P) هو :

$$(P): \begin{cases} x = x_0 + at + a't' \\ y = y_0 + bt + b't' \\ z = z_0 + ct + c't' \end{cases} (t, t' \in \mathbb{R})$$

(3) معادلة ديكارتية لمستوى

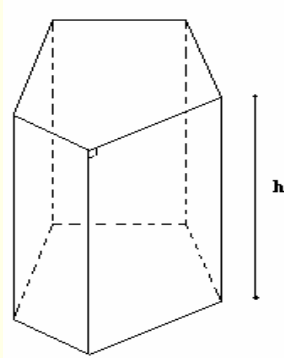
ليكن (P) المستوى المار من $A(x_0, y_0, z_0)$ والموجه بالمتجهتين

$\vec{u}(a, b, c)$ و $\vec{v}(a', b', c')$

للحصول على معادلة ديكارتية لـ (P) نتبع ما يلي :

حساب الحجم و المسافات

1- الموشور القائم



أ- ليكن h ارتفاع موشور قائم و l و B محيط و مساحة قاعدته على التوالي.

* المساحة الجانبية $S = l \times h$

* المساحة الكلية $S_T = l \times h + 2B$

* الحجم $V = B \times h$

ب- حالات خاصة

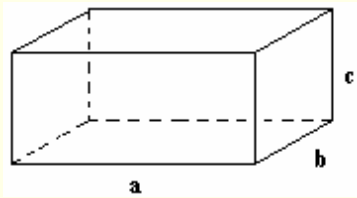
- متوازي المستطيلات

ليكن a و b و c طول و عرض و ارتفاع متوازي المستطيلات

* المساحة الجانبية $S = 2(a+b)c$

* المساحة الكلية $S_T = 2(a+b)c + 2ab$

* الحجم $V = abc$



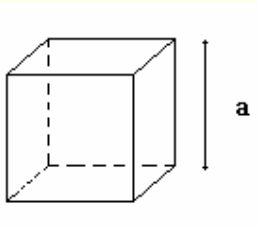
- المكعب

ليكن a طول حرف المكعب

* المساحة الجانبية $S = 4a^2$

* المساحة الكلية $S_T = 6a^2$

* الحجم $V = a^3$



2- الهرم

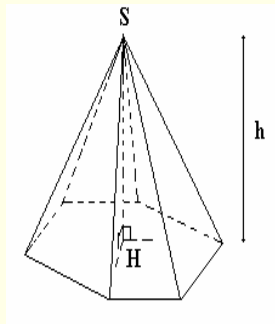
أ- ليكن h ارتفاع هرما رأسه S

حيث $h = SH$ حيث H المسقط العمودي لـ S على المستوى المتضمن للقاعدة.

ليكن B مساحة قاعدة الهرم.

المساحة الجانبية هي مساحة جميع الأوجه الجانبية للهرم

* الحجم $V = \frac{1}{3} B \cdot h$



ب- الهرم المنتظم

إذا كانت قاعدة هرم على شكل مضلع منتظم و كان المسقط للرأس هو مركز المضلع فان الهرم يسمى هرما منتظما.

في جميع المثلثات وجوه الهرم المنتظم يكون للارتفاعات المارة من رأس الهرم نفس الطول و يسمى عماد الهرم.

المساحة الجانبية لهرم منتظم هي $S_L = \frac{1}{2}lc$ حيث l محيط القاعدة و c عامد الهرم ($c = CH$)

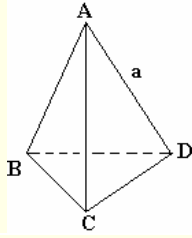
الحجم $V = \frac{1}{3}B \times OS$ حيث O مركز القاعدة و S رأس الهرم و B مساحة قاعدته

ج- رباعي الأوجه المنتظم

ليكن a طول حرف رباعي الأوجه منتظم

$$S = \frac{3\sqrt{3}}{4}a^3 \text{ المساحة الجانبية}$$

$$V = \frac{\sqrt{2}}{12}a^3 \text{ الحجم}$$



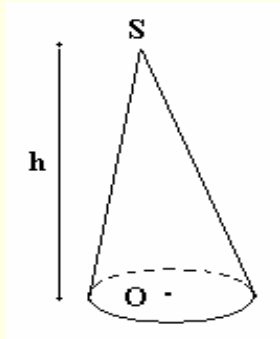
3- المخروط

أ- رأس مخروط و الدائرة (C) قاعدته شعاعها R

h ارتفاع المخروط (مسافة بين رأس المخروط و المستوى

المحدد بالقاعدة)

$$V = \frac{1}{3}\pi R^2 h \text{ حجم المخروط}$$



ب- المخروطي الدوراني

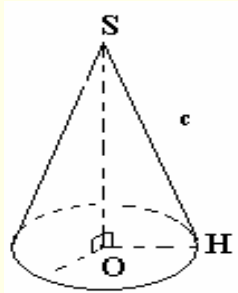
إذا كان المسقط العمودي لرأس مخروط هو مركز القاعدة فان

المخروط يسمى مخروطاً دورانياً.

المساحة الجانبية هي $S_L = \pi Rc$

حيث c المسافة بين S ونقطة من الدائرة

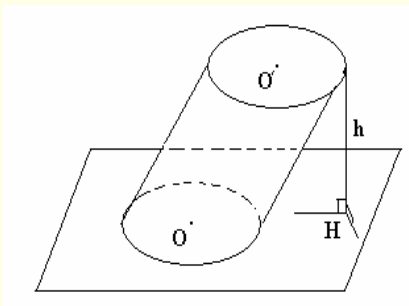
$$c = SH$$



4- الأسطوانة

أ- حجم أسطوانة ارتفاعها h و قاعدتها قرص شعاعها R

$$V = \pi R^2 h \text{ هو}$$

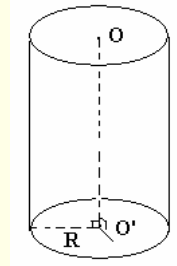
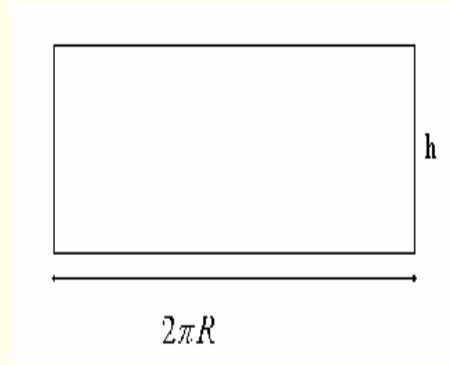


ب- الأسطوانة القائمة

إذا كان المستقيم المار من مركز الدائرتين قاعدتي أسطوانة عموديا على المستويين المحددين بهاتين القاعدتين فإن الأسطوانة

تسمى أسطوانة قائمة

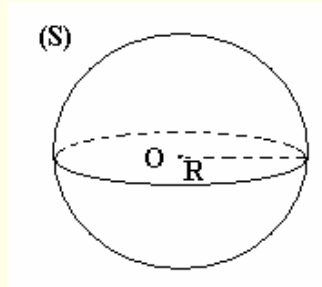
المساحة الجانبية هي $S_L = 2\pi R h$



5- الفلكة

مساحة الفلكة التي شعاعها R هي $S = 4\pi R^2$

حجم الفلكة التي شعاعها R هي $V = \frac{4}{3}\pi R^3$



تمرين

ليكن $ABCD$ معيناً ضمن مستوى (P) حيث $BD = 3cm$ و $AC = 3cm$

لتكن S نقطة من المستقيم العمودي على (P) في A حيث $SA = 8cm$

أحسب حجم الهرم $SABCD$

تمرين

أحسب حجم فلكة مساحتها تساوي $1m^2$

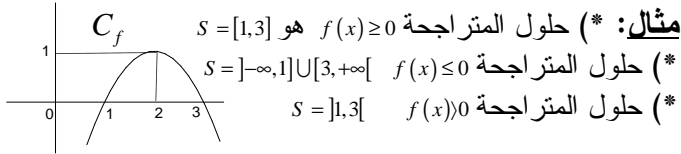
تمرين

ليكن $ABCDEFGH$ متوازي المستطيلات حيث $AB = 3cm$ و $AD = 5cm$ و $AE = 4cm$

1- أحسب حجم رباعي الأوجه $ADGH$

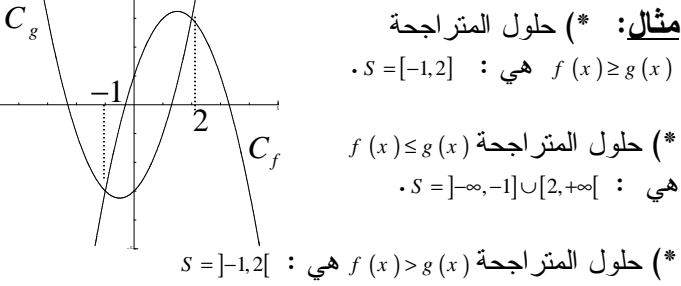
2- استنتج المسافة بين النقطة D و المستوى (AGH)

(* حلول المتراجحة $f(x) \leq 0$ هي اتحاد المجالات التي يكون فيها C_f تحت محور الأفاصيل.



2 نقول إن $f \leq g$ على D إذا وفقط إذا كان $f(x) \leq g(x)$ لكل $x \in D$.
ملاحظات: (التأويل الهندسي)

(* تكون $f \leq g$ إذا وفقط إذا كان C_f تحت C_g .
 (* حلول المتراجحة $f(x) \leq g(x)$ هي المجالات التي يكون فيها C_f تحت C_g .



3 (a) تقاطع C_f مع محور الأرتيب هي النقطة $(0, f(0))$.

(b) من أجل تحديد تقاطع C_f مع محور الأفاصيل نحل المعادلة $f(x) = 0$ إذا كانت $x_2, x_1 \dots$ هي الحلول فإن نقط تقاطع هي $\dots B(x_2, 0); A(x_1, 0)$

(* حلول المعادلة $f(x) = 0$ هي أفاصيل نقط تقاطع C_f مع محور الأفاصيل.

(c) لكي نحدد تقاطع C_f و C_g نحل المعادلة $f(x) = g(x)$ وإذا كانت $x_2, x_1 \dots$ هي الحلول فإن نقط تقاطع C_f و C_g هي $\dots B(x_2, f(x_2)), A(x_1, f(x_1))$

(* حلول المعادلة $f(x) = g(x)$ هي أفاصيل نقط تقاطع C_f و C_g .

IV - دالة مكبورة - دالة مصغورة

1 نقول إن f مكبورة على D إذا وُجد عدد M بحيث $f(x) \leq M$ لكل $x \in D$.

2 نقول إن f مصغورة على D إذا وُجد عدد m بحيث $f(x) \geq m$ لكل $x \in D$.

3 نقول إن f محدودة على D إذا وُجد عدد M و m بحيث $m \leq f(x) \leq M$ لكل $x \in D$.

ملاحظة: تكون f محدودة على D إذا وُجد عدد موجب M بحيث $|f(x)| \leq M$ لكل $x \in D$.

V - مطارف دالة

1 لكي نبين أن f تقبل قيمة قصوية مطلقة في x_0 نبين أن $f(x) \leq f(x_0)$ لكل x من D_f . وتكون هذه القيمة القصوية هي $f(x_0)$.

2 لكي نبين أن f تقبل قيمة دنوية مطلقة في x_0 نبين أن $f(x) \geq f(x_0)$ لكل x من D_f . وتكون هذه القيمة الدنوية هي $f(x_0)$.

I - دالة زوجية - دالة فردية

1 من أجل دراسة زوجية دالة، نقوم بتحديد D_f ونتحقق أن لكل $x \in D_f$ لدينا $-x \in D_f$ ثم نحسب $f(-x)$.

(* إذا وجدنا $f(-x) = f(x)$ فإن f زوجية.

(* إذا وجدنا $f(-x) = -f(x)$ فإن f فردية.

2 (* يمكن لدالة أن لا تكون لا زوجية ولا فردية.

$$|-x| = |x| \quad (-x)^n = \begin{cases} x^n & ; \text{زوجي } n \\ -x^n & ; \text{فردى } n \end{cases}$$

3 تكون f زوجية إذا وفقط إذا كان C_f متماثلاً بالنسبة لمحور الأرتيب.

4 تكون f فردية إذا وفقط إذا كان C_f متماثلاً بالنسبة لأصل المعلم.

II - رتابة دالة

1 من أجل دراسة رتابة دالة f على مجال I : نعتبر x و y من I بحيث $x < y$ ونقارن $f(x)$ و $f(y)$.

(* إذا وجدنا $f(x) \leq f(y)$ فإن f تزايدية (قطعا) على I .

(* إذا وجدنا $f(x) \geq f(y)$ فإن f تناقصية (قطعا) على I .

(* إذا وجدنا $f(x) = f(y)$ فإن f ثابتة على I .

2 من أجل دراسة رتابة f على مجال I : نعتبر $x, y \in I$ بحيث $x \neq y$ ونقوم بحساب معدل التغيير $T(x, y) = \frac{f(x) - f(y)}{x - y}$

ونقوم بدراسة إشارة $T(x, y)$ (بتأويله مثلاً).

(* إذا وجدنا $T(x, y) \geq 0$ فإن f تزايدية (قطعا) على I .

(* إذا وجدنا $T(x, y) \leq 0$ فإن f تناقصية (قطعا) على I .

(* إذا وجدنا $T(x, y) = 0$ فإن f ثابتة على I .

3 نقول إن f رتبية على I إذا كانت تزايدية أو تناقصية على I .

4 (a) لتكن f دالة زوجية.

(* إذا كانت f تزايدية على I فإن f تناقصية على $-I$.

(* إذا كانت f تناقصية على I فإن f تزايدية على $-I$.

(b) لتكن f دالة فردية.

(* إذا كانت f تزايدية على I فإن f تزايدية على $-I$.

(* إذا كانت f تناقصية على I فإن f تناقصية على $-I$.

(c) إذا كان $f = [a, b]$ فإن $-f = [-b, -a]$.

III - مقارنة دالتين

1 (a) نقول إن f موجبة على D وتكتب $f \geq 0$ إذا كان $f(x) \geq 0$ لكل $x \in D$.

(b) نقول إن f سالبة على D وتكتب $f \leq 0$ إذا كان $f(x) \leq 0$ لكل $x \in D$.

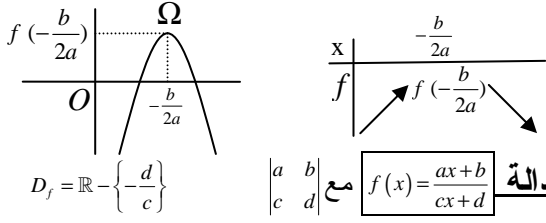
ملاحظات: (التأويل الهندسي)

(* تكون $f \geq 0$ على D إذا وفقط إذا كان C_f فوق محور الأفاصيل.

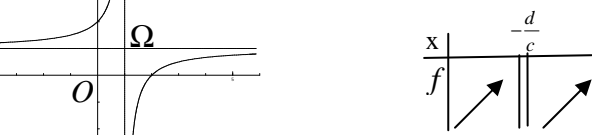
(* تكون $f \leq 0$ على D إذا وفقط إذا كان C_f تحت محور الأفاصيل.

(* حلول المتراجحة $f(x) \geq 0$ هي اتحاد المجالات التي يكون فيها C_f فوق محور الأفاصيل.

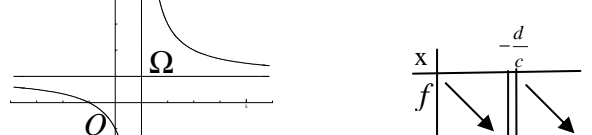
(b) إذا كان $a < 0$ فإن جدول تغيرات f هو كما يلي : و C_f شلجم رأسه $\Omega\left(\frac{-b}{2a}, f\left(\frac{-b}{2a}\right)\right)$ تقعره موجه نحو الأسفل.



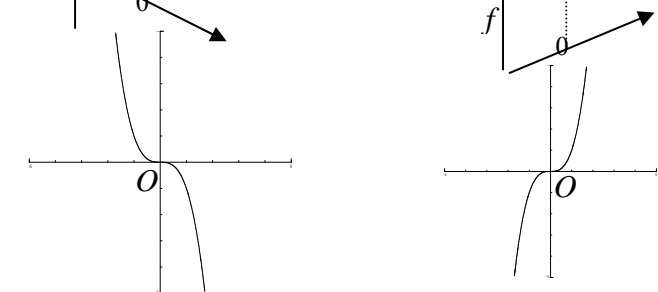
(a) إذا كان $\begin{vmatrix} a & b \\ c & d \end{vmatrix} > 0$ فإن جدول تغيرات f هو كما يلي : و C_f هذلول مركزه $\Omega\left(\frac{-d}{c}, \frac{a}{c}\right)$ متارباة $x = \frac{-d}{c}$ $y = \frac{a}{c}$



(b) إذا كان $\begin{vmatrix} a & b \\ c & d \end{vmatrix} < 0$ فإن جدول تغيرات f هو كما يلي : و C_f هذلول مركزه $\Omega\left(\frac{-d}{c}, \frac{a}{c}\right)$ متارباة $x = \frac{-d}{c}$ $y = \frac{a}{c}$



(3) الدالة $f(x) = ax^3$ إذا كان $a < 0$



ملاحظة: بالنسبة ل $f(x) = ax^3 + b$ نفس الشيء تصبح فقط $f(0) = b$

(4) الدالة $f(x) = \sqrt{x+a}$ $D_f = [-a, +\infty[$

ملاحظة: بالنسبة ل $f(x) = \sqrt{x+a} + b$ نفس الشيء تصبح فقط $f(-a) = b$

(5) (a) نعتبر الدالة $g(x) = |f(x)|$. C_g مكون من جزء C_f الموجود فوق محور الأفاصيل. ومماثل جزء C_f الموجود تحت محور الأفاصيل بالنسبة لمحور الأفاصيل.

(b) نعتبر الدالة $g(x) = f(|x|)$. C_g مكون من جزء C_f الموجود في $[0, +\infty[$ ومماثله بالنسبة لمحور الأرتاب.

(6) حلول المعادلة $f(x) = m$ هي أفاصيل نقط تقاطع C_f والمستقيم $(\Delta): y = m$

(3) لكي نبين أن α قيمة قصوية مطلقة ل f نبين أن $f(x) \leq \alpha$ ونبحث عن x_0 بحيث $f(x_0) = \alpha$

(4) لكي نبين أن α قيمة دنوية مطلقة ل f نبين أن $f(x) \geq \alpha$ ونبحث عن x_0 بحيث $f(x_0) = \alpha$

(5) لكي نبين f تقبل قيمة قصوية نسبية عند x_0 نبين أنه يوجد مجال I يحتوي على x_0 بحيث $f(x) \leq f(x_0)$ لكل $x \in I$. وتكون هذه القيمة القصوية هي $f(x_0)$. (تعريف مماثل بالنسبة لقيمة دنوية نسبية)

ملاحظة: **(a)** إذا كان جدول تغيرات f هو α فإن α هي القيمة الدنوية المطلقة

(b) إذا كان جدول تغيرات f هو α فإن α هي القيمة القصوية المطلقة

(c) إذا كان جدول تغيرات f هو α فإن α هي قيمة قصوية نسبية و β قيمة دنوية نسبية.

VI - صور جزء من IR بدالة عديدة

(1) $f(D) = \{f(x) / x \in D\}$ يعني $f(D)$ هي المجموعة المكونة من صور جميع عناصر D .

(2) $y \in f(D)$ يعني يوجد $x \in D$ بحيث $f(x) = y$.

(3) لكي نبين أن $f(I) = J$ جبريا نبين ما يلي:
(a) $f(I) \subset J$ ولهذا نأخذ $x \in I$ ونبين أن $f(x) \in J$
(b) $J \subset f(I)$ ولهذا نأخذ $y \in J$ ونبين أن $y \in f(I)$ ولهذا نبحث عن $x \in I$ بحيث $f(x) = y$

VII - مركب دالتين

(1) لتكن $g \circ f$ دالتين بحيث $f(D_f) \subset D_g$ الدالة $g \circ f$ هي الدالة المعرفة على D_f بما يلي $(\forall x \in D_f) g \circ f(x) = g(f(x))$.

(2) من أجل تحديد حيز تعريف $g \circ f$ نتبع ما يلي:
 $x \in D_{g \circ f} \Leftrightarrow \begin{cases} x \in D_f \\ f(x) \in D_g \end{cases}$

(b) لكي نبين أن $g \circ f$ معرفة على I نبين ما يلي:
(3) إذا كانت $g \circ f$ تحققان ما يلي:

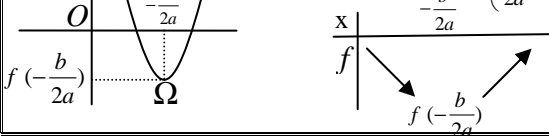
- (* f رتيبة على I)
 - (* $f(I) \subset J$)
 - (* g رتيبة على J)
- فإن $g \circ f$ رتيبة على I

تكون $g \circ f$ تزايدية إذا كانت f و g نفس الرتابة.
وتكون تناقصية إذا كانت f و g رتابتين مختلفتين

VIII - الدوال الاعتيادية

(1) الدالة $f(x) = ax^2 + bx + c$ ($a \neq 0$)

(a) إذا كان $a > 0$ فإن جدول تغيرات f هو كما يلي : و C_f شلجم رأسه $\Omega\left(\frac{-b}{2a}, f\left(\frac{-b}{2a}\right)\right)$ تقعره موجه نحو الأعلى.



(I) مجموعة التعريف

(1) تعريف مجموعة تعريف الدالة f هي مجموعة الأعداد التي لها صورة ونرمز لها بـ D_f

(2) مجموعة تعريف الدالة: $f(x) = \frac{p(x)}{Q(x)}$

تكون $f(x)$ معرفة إذا وفقط إذا كان $Q(x) \neq 0$. نقوم بحل المعادلة

$$D_f = \mathbb{R} - \{ \text{حلول المعادلة} \}$$

(3) مجموعة تعريف الدالة: $f(x) = \sqrt{P(x)}$

تكون $f(x)$ معرفة إذا وفقط إذا كان $P(x) \geq 0$ نقوم بدراسة إشارة

$$D_f = \{x \mid P(x) \geq 0\}$$

(II) دالة زوجية دالة فردية .

(1) من أجل دراسة زوجية دالة f نقوم بتحديد D_f ونتحقق أن لكل

x من D_f لدينا $-x \in D_f$ ثم نقوم بحساب $f(-x)$.

(* إذا وجدنا $f(-x) = f(x)$ فإن f زوجية .

(* إذا وجدنا $f(-x) = -f(x)$ فإن f فردية .

ملاحظة (a) يمكن لدالة أن لا تكون لا زوجية ولا فردية .

$$|-x| = |x| \quad (-x)^n = \begin{cases} x^n & \text{زوجي } n \\ -x^n & \text{فردية } n \end{cases} \quad (b)$$

(2) تكون f زوجية إذا وفقط إذا كان المنحنى C_f متماثل بالنسبة لمحور

الأرتاب .

(3) تكون f فردية إذا وفقط إذا كان المنحنى C_f متماثل بالنسبة لأصل

المعلم .

(III) تغيرات دالة أو رتابة دالة .

(1) من أجل دراسة رتابة دالة f على مجال I نعتبر x و y من I بحيث

$x < y$ ونقارن $f(x)$ و $f(y)$.

(* إذا وجدنا $f(x) \leq f(y)$ فإن f تزايدية على I .

(* إذا وجدنا $f(x) < f(y)$ فإن f تزايدية قطعاً على I .

(* إذا وجدنا $f(x) \geq f(y)$ فإن f تناقصية على I .

(* إذا وجدنا $f(x) > f(y)$ فإن f تناقصية قطعاً على I .

(* إذا وجدنا $f(x) = f(y)$ فإن f ثابتة على I .

(2) من أجل دراسة رتابة دالة f على مجال I نعتبر x و y من I

$$T(x, y) = \frac{f(x) - f(y)}{x - y} \quad \text{بحيث } x \neq y \text{ ونقوم بحساب معدل التغير}$$

وندرس إشارته .

(* إذا وجدنا $T(x, y) \geq 0$ فإن f تزايدية على I .

(* إذا وجدنا $T(x, y) > 0$ فإن f تزايدية قطعاً على I .

(* إذا وجدنا $T(x, y) \leq 0$ فإن f تناقصية على I .

(* إذا وجدنا $T(x, y) < 0$ فإن f تناقصية قطعاً على I .

(* إذا وجدنا $T(x, y) = 0$ فإن f ثابتة على I .

(3) نقول إن f رتيبة على المجال I إذا كانت تزايدية أو تناقصية على I .

ملاحظة

(a) f تزايدية على I يعني C_f تصاعدي في I عندما نتحرك من

اليسار نحو اليمين

(b) f تناقصية على I يعني C_f تنازلي في المجال I عندما نتحرك

من اليسار نحو اليمين

(c) f ثابتة على I يعني C_f عبارة عن مستقيم موازي لمحور

الأفصائل في المجال I .

مثال لدينا f تزايدية على كل من $[1, 3]$ و $[5, 9]$ وتناقصية على

$[3, 5]$ ونلخص هذا في جدول يسمى جدول التغيرات .

(4) رتابة الدالة $f(x) = ax + b$

(a) إذا كان $a > 0$ فإن f تزايدية على \mathbb{R}

(b) إذا كان $a < 0$ فإن f تناقصية على \mathbb{R}

(c) إذا كان $a = 0$ فإن f ثابتة على \mathbb{R}

(d) منحنى الدالة f يكون مستقيماً .

(5) رتابة دالة زوجية ودالة فردية

(a) لتكن f دالة زوجية .

(* إذا كانت f تزايدية على I فإن f تناقصية على $-I$.

(* إذا كانت f تناقصية على I فإن f تزايدية على $-I$.

(b) لتكن f دالة فردية .

(* إذا كانت f تزايدية على I فإن f تزايدية على $-I$.

(* إذا كانت f تناقصية على I فإن f تناقصية على $-I$.

(c) إذا كان $I = [a, b]$ فإن $-I = [-b, -a]$.

(IV) مطارف دالة .

(1) إذا أردنا أن نبين أن الدالة f تقبل قيمة قصوية في x_0 ، نبين أن

$f(x) \leq f(x_0)$ في مجال I يحتوي على x_0 وتكون هذه القيمة القصوية هي

$f(x_0)$.

$$Y = \frac{\gamma}{X} \quad \text{إذن المعادلة تصبح} \quad \begin{cases} X = x - \alpha \\ Y = y - \beta \end{cases} \quad \text{ثم نضع} \quad y - \beta = \frac{\gamma}{x - \alpha}$$

في العلم $(\Omega, \vec{i}, \vec{j})$ مع $\Omega(\alpha, \beta)$.

(5) تقاطع منحنى مع محور ي المعلم .

(a) تقاطع C_f مع محور الأرتيب هي النقطة $A(0, f(0))$.

(b) (*) لكي نحدد تقاطع المنحنى C_f مع محور الأفصائل نقوم بحل المعادلة $f(x) = 0$ وإذا كانت هذه الحلول هي x_1, x_2, \dots فإن نقط التقاطع هي $A(x_1, 0), B(x_2, 0), \dots$

(*) حلول المعادلة $f(x) = 0$ هي أفصائل نقط تقاطع C_f مع محور الأفصائل.

(6) تقاطع منحنين .

(*) لكي نحدد تقاطع المنحنى C_f و C_g نقوم بحل المعادلة $f(x) = g(x)$ وإذا كانت هذه الحلول هي x_1, x_2, \dots فإن نقط التقاطع هي $A(x_1, f(x_1)), B(x_2, f(x_2)), \dots$

(*) حلول المعادلة $f(x) = g(x)$ هي أفصائل نقط تقاطع C_f مع C_g .

(7) دراسة الوضع النسبي لمنحنين .

(a) لكي ندرس الوضع النسبي للمنحنين C_f و C_g نقوم بدراسة إشارة $f(x) - g(x)$

(*) إذا كان $f(x) - g(x) \geq 0$ فإن C_f يوجد فوق C_g .

(*) إذا كان $f(x) - g(x) \leq 0$ فإن C_f يوجد تحت C_g .

(b) حلول المتراجحة $f(x) \leq g(x)$ هي اتحاد المجالات التي يكون فيها C_f تحت C_g .

(8) حل المعادلة $(E) : f(x) = m$

حلول المعادلة (E) هي أفصائل نقط تقاطع C_f والمستقيم $y = m$ (Δ).

(9) إنشاء منحنى الدالة $g(x) = |f(x)|$ انطلاقاً من C_f .

إذا كان $f(x) \geq 0$ يعني C_f فوق محور الأفصائل فإن $g(x) = f(x)$ إذن C_g منطبق مع C_f .

وإذا كان $f(x) \leq 0$ يعني C_f تحت محور الأفصائل فإن

$g(x) = -f(x)$ إذن C_g مماثل C_f بالنسبة لمحور الأفصائل.

وبالتالي C_g مكون من جزء C_f الموجود فوق محور الأفصائل ومماثل جزء C_f الموجود تحت محور الأفصائل بالنسبة لمحور الأفصائل.

(10) إنشاء منحنى الدالة $g(x) = f(|x|)$ انطلاقاً من C_f .

لدينا $g(-x) = f(|-x|) = f(|x|) = g(x)$ إذن g دالة زوجية

وبالتالي منحنائها متماثل بالنسبة لمحور الأرتيب. ولدينا لكل $x \in [0, +\infty[$

$$|x| = x$$

إذن $g(x) = f(x)$ ومنه C_g منطبق مع C_f .

وبالتالي C_g مكون من جزء C_f الموجود في $[0, +\infty[$ ومماثله بالنسبة لمحور الأرتيب.

(2) إذا أردنا أن نبين أن الدالة f تقبل قيمة دنوية في x_0 ، نبين أن $f(x) \geq f(x_0)$ في مجال I يحتوي على x_0 وتكون هذه القيمة الدنوية هي $f(x_0)$.

(3a) لكي نبين أن α قيمة قصوية للدالة f ، نبين أن $f(x) \leq \alpha$ في مجال I ونبحث عن x_0 من I بحيث $f(x_0) = \alpha$.

(3b) لكي نبين أن α قيمة دنوية للدالة f ، نبين أن $f(x) \geq \alpha$ في مجال I ونبحث عن x_0 من I بحيث $f(x_0) = \alpha$.

(4) إذا كان جدول تغيرات f على شكل

فإن α قيمة قصوية للدالة f في x_0

و β قيمة دنوية للدالة f في x_1 .

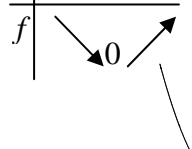
(5) إذا كان منحنى الدالة f على شكل


فإن α قيمة قصوية للدالة f في x_0

و β قيمة دنوية للدالة f في x_1 .

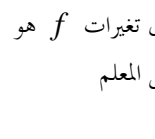
(V) الدوال المرجعية .

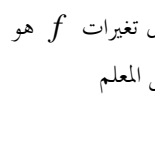
(1) دراسة الدالة $f(x) = ax^2$ ($a \neq 0$)

(a) إذا كان $a > 0$ فإن جدول تغيرات f هو  ويكون C_f شلجماً رأسه أصل المعلم ومحوره محور الأرتيب تقعره موجه نحو الأعلى.

(b) إذا كان $a < 0$ فإن جدول تغيرات f هو  ويكون C_f شلجماً رأسه أصل المعلم ومحوره محور الأرتيب تقعره موجه نحو الأسفل.

(2) دراسة الدالة $f(x) = \frac{a}{x}$ ($a \neq 0$)

(a) إذا كان $a > 0$ فإن جدول تغيرات f هو  ويكون C_f هذلولوا مركزه أصل المعلم مقارباة محوري المعلم.

(b) إذا كان $a < 0$ فإن جدول تغيرات f هو  ويكون C_f هذلولوا مركزه أصل المعلم مقارباة محوري المعلم.

(3) دراسة الدالة $f(x) = ax^2 + bx + c$ ($a \neq 0$)

من أجل إنشاء C_f نحدد معادلة مختصرة ل C_f . ولهذا نكتب $f(x)$ على شكل $f(x) = a(x - \alpha)^2 + \beta$ ثم نطلق من $y = f(x)$ يعني

$$\begin{cases} X = x - \alpha \\ Y = y - \beta \end{cases} \quad \text{يعني} \quad y - \beta = a(x - \alpha)^2$$

إذن المعادلة تصبح $Y = aX^2$ في العلم $(\Omega, \vec{i}, \vec{j})$ مع $\Omega(\alpha, \beta)$

(4) دراسة الدالة $f(x) = \frac{ax+b}{cx+d}$

من أجل إنشاء C_f نحدد معادلة مختصرة ل C_f . ولهذا نكتب $f(x)$ على شكل $f(x) = \beta + \frac{\gamma}{x - \alpha}$ ثم نطلق من $y = f(x)$ يعني

(5) نهايات اعتيادية.

$$\lim_{x \rightarrow 0} \frac{1 - \cos(ax)}{(ax)^2} = \frac{1}{2} \quad \lim_{x \rightarrow 0} \frac{\tan(ax)}{ax} = 1 \quad \lim_{x \rightarrow 0} \frac{\sin(ax)}{ax} = 1$$

(6) النهايات والترتيب.

(a) إذا كان $|f(x) - l| \leq g(x)$ بجوار x_0 فإن $\lim_{x_0} f(x) = l$ و $\lim_{x_0} g(x) = 0$

(b) إذا كان $f(x) \leq g(x)$ بجوار x_0 فإن $\lim_{x_0} g(x) = +\infty$ و $\lim_{x_0} f(x) = +\infty$

(c) إذا كان $f(x) \leq g(x)$ بجوار x_0 فإن $\lim_{x_0} f(x) = -\infty$ و $\lim_{x_0} g(x) = -\infty$

(d) إذا كانت $g(x) \leq f(x) \leq h(x)$ بجوار x_0 فإن $\lim_{x_0} f(x) = l$ و $\lim_{x_0} g(x) = \lim_{x_0} h(x) = l$

(II) الإتصال**(1) تعريف**

لكي نبين أن f متصلة في x_0 نقوم بحساب $\lim_{x_0} f(x)$

(* تكون f متصلة في x_0 إذا فقط إذا كانت $\lim_{x_0} f(x) = f(x_0)$

(* تكون f متصلة على يمين x_0 إذا فقط إذا كانت $\lim_{x_0} f(x) = f(x_0)$

$$\lim_{x_0} f(x) = f(x_0)$$

(* تكون f متصلة على يسار x_0 إذا فقط إذا كانت $\lim_{x_0} f(x) = f(x_0)$

$$\lim_{x_0} f(x) = f(x_0)$$

(* تكون f متصلة في x_0 إذا فقط إذا كانت متصلة على يمين و على يسار x_0 .

(2) خاصيات

(a) كل دالة حدودية متصلة على IR .

(b) كل دالة جذرية متصلة على حيز تعريفها.

(c) (* الدوال $x \rightarrow \cos x$ و $x \rightarrow \sin x$ متصلة على IR .

(* الدال $x \rightarrow \tan x$ متصلة على حيز تعريفها.

(d) إذا كانت f و g دالتين متصلتين على مجال I فإن الدوال $f + g$ و $f \cdot g$ و αf متصلة على I .

وإذا كانت g لاتتعدم على I فإن $\frac{f}{g}$ متصلة على I .

ملاحظة

إذا كانت f دالة لا تحتوي على الجزء الصحيح وغير معرفة بأجزاء فإنها متصلة على حيز تعريفها لأنها مجموع وجداء دوال متصلة في غالب الأحيان.

(3) التمديد بالإتصال

لتكن f دالة غير معرفة في x_0 ، لكي نبين أن f تقبل تمديدا

بالإتصال في x_0 نقوم بحساب $\lim_{x_0} f(x)$ إذا وجدنا $\lim_{x_0} f(x) = l \in \mathbb{R}$

فإن f تقبل تمديدا g بالإتصال في x_0 معرف بما يلي:

$$\begin{cases} g(x) = f(x), x \neq x_0 \\ g(x_0) = l \end{cases}$$

(I) النهايات**(1) الأشكال الغير محددة:**

$+\infty - \infty$	$\infty \times 0$	$\frac{\infty}{\infty}$	$\frac{0}{0}$
--------------------	-------------------	-------------------------	---------------

(2) العمليات على النهايات الغير منتهية:

$$a \times \infty = \infty \quad (a \neq 0)$$

$$\infty \times \infty = \infty$$

$$0 \times \infty \text{ ش غ محدد}$$

$$+\infty + a = +\infty$$

$$-\infty + a = -\infty$$

$$+\infty + \infty = +\infty \quad (a \in \mathbb{R})$$

$$-\infty - \infty = -\infty$$

$$+\infty - \infty \text{ ش غ محدد}$$

$$\frac{\infty}{a} = \infty \quad \frac{a}{\infty} = 0 \quad \frac{a \neq 0}{0} = \infty$$

$$\frac{\infty}{\infty} \quad \frac{0}{0} \text{ ش غ محدد}$$

$$(-\infty)^n = \begin{cases} +\infty & \text{si } n \text{ est paire} \\ -\infty & \text{si } n \text{ est impaire} \end{cases}$$

$$\sqrt{+\infty} = +\infty$$

(3) خاصيات

(a) إذا كانت للدالتين f و g نهاية منتهية في x_0 فإن الدوال $f + g$ و $f \cdot g$ و αf تقبل نهاية منتهية في x_0

$$\lim_{x \rightarrow x_0} (f(x) + g(x)) = \lim_{x \rightarrow x_0} f(x) + \lim_{x \rightarrow x_0} g(x) \quad \text{و}$$

$$\lim_{x \rightarrow x_0} (f(x) \cdot g(x)) = \lim_{x \rightarrow x_0} f(x) \cdot \lim_{x \rightarrow x_0} g(x)$$

$$\lim_{x \rightarrow x_0} (\alpha f(x)) = \alpha \cdot \lim_{x \rightarrow x_0} f(x)$$

وإذا كانت $\lim_{x \rightarrow x_0} (g(x)) \neq 0$ فإن $\lim_{x \rightarrow x_0} \left(\frac{f(x)}{g(x)} \right) = \frac{\lim_{x \rightarrow x_0} f(x)}{\lim_{x \rightarrow x_0} g(x)}$

(b) نهاية دالة حدودية في ∞ هي نهاية الحد الأكبر درجة.

(c) نهاية دالة جذرية في ∞ هي نهاية خارج الحدين الأكبر درجة

(4) بعض التقنيات لحساب نهاية دالة لا جذرية:

$$(a) \lim_{x \rightarrow \infty} \frac{f(x)}{g(x)} = \frac{\infty}{\infty} \leftarrow \text{التعميل.}$$

$$(b) \lim_{x \rightarrow \infty} (f(x) + g(x)) = +\infty - \infty$$

(* إذا كان الحدين الأكبر درجة في كل من $f(x)$ و $g(x)$ متقابلين \leftarrow المرافق.

(* إذا كان الحدين الأكبر درجة في كل من $f(x)$ و $g(x)$ غير متقابلين \leftarrow التعميل.

$$(c) \lim_{x_0} \frac{f(x)}{g(x)} = \frac{a-a}{0} = \frac{0}{0} \leftarrow \text{المرافق.} \quad (a \neq 0)$$

$$(d) \lim_{x_0} \frac{f(x)}{g(x)} = \frac{0+0}{0} = \frac{0}{0} \leftarrow \text{التفكيك ثم ربما المرافق.} \quad (a \neq 0)$$

$$(e) \text{ ملاحظة: } \begin{cases} x = \sqrt{x^2}; x \geq 0 \\ x = -\sqrt{x^2}; x \leq 0 \end{cases} \quad ; \quad \sqrt{x^2} = |x|$$

4) اشتقاق دالة على مجال - الدالة المشتقة

(a) نقول إن f قابلة للإشتقاق على مجال مفتوح I إذا كانت قابلة للإشتقاق في كل نقطة من I

(b) نقول إن f قابلة للإشتقاق على المجال $[a, b]$ إذا كانت قابلة للإشتقاق على المجال $]a, b[$ وعلى يمين a وعلى يسار b .

(c) إذا كانت f قابلة للإشتقاق على I فإن الدالة $f'(x) : x \rightarrow f'(x)$ تسمى الدالة المشتقة

(d) إذا كانت f' قابلة للإشتقاق على مجال I فإن الدالة المشتقة للدالة f' تسمى المشتقة الثانية للدالة f ونرمز لها بـ f'' .

(e) الدوال المشتقة لبعض الدوال الاعتيادية .

$$\left(\frac{f}{g}\right)' = \frac{f'g - g'f}{g^2} \quad (1) \quad (a)' = 0$$

$$\left(\frac{1}{f}\right)' = \frac{-f'}{f^2} \quad (2) \quad (x)' = 1$$

$$(ax)' = a \quad (3)$$

$$(f(ax+b))' = af'(ax+b) \quad (12)$$

$$(\sin x)' = \cos x \quad (13) \quad (x^n)' = nx^{n-1} \quad (4)$$

$$\left(\frac{1}{x}\right)' = \frac{-1}{x^2} \quad (5)$$

$$(\sin(ax+b))' = a \cos(ax+b) \quad (14)$$

$$(\cos x)' = -\sin x \quad (15) \quad (\sqrt{x})' = \frac{1}{2\sqrt{x}} \quad (6)$$

$$(f+g)' = f' + g' \quad (7)$$

$$(\cos(ax+b))' = -a \sin(ax+b) \quad (16)$$

$$(\tan x)' = 1 + \tan^2 x \quad (17) \quad (fg)' = f'g + g'f \quad (8)$$

$$(f^n)' = nf'f^{n-1} \quad (18) \quad (af)' = af' \quad (9)$$

$$(\tan(ax+b))' = a(1 + \tan^2(ax+b)) \quad (19)$$

ملاحظة (a) لتكن f دالة معرفة على مجال I ولا تحتوي على $\sqrt{\quad}$.

لكي ندرس اشتقاق f في x_0 نتحقق هل تغير صيغتها في x_0 أم لا ؟

(* إذا كنت f لا تغير صيغتها في x_0 نقوم بحساب $f'(x)$ ونعوض $x \rightarrow x_0$.

(* إذا كنت f تغير صيغتها في x_0 ندرس الإشتقاق باستعمال معدل التغير .

(b) إذا كانت f' تتعدم في x_0 ($f'(x_0) = 0$) فإن C_f يقبل مماسا (T) عند النقطة $M(x_0, f(x_0))$ موازيا لمحور الأفاصيل .

5) تغيرات دالة

لتكن f دالة قابلة للإشتقاق على مجال I .

(a) تكون f تزايدية على I إذا فقط إذا كان $(\forall x \in I) : f'(x) \geq 0$

(b) تكون f تزايدية قطعاً على I إذا فقط إذا كان $(\forall x \in I) : f'(x) \geq 0$ والأعداد التي تتعدم فيها f' معدودة .

(c) تكون f تناقصية على I إذا فقط إذا كان $(\forall x \in I) : f'(x) \leq 0$

(d) تكون f تناقصية قطعاً على I إذا فقط إذا كان $(\forall x \in I) : f'(x) \leq 0$ والأعداد التي تتعدم فيها f' معدودة .

I) الإشتقاق**1) تعاريف**

(a) تكون f قابلة للإشتقاق في x_0 إذا كان $\lim_{x \rightarrow x_0} \frac{f(x) - f(x_0)}{x - x_0} = l \in IR$

العدد l يسمى العدد المشتق للدالة f في x_0 ونكتب $f'(x_0) = l$.

(b) تكون f قابلة للإشتقاق على يمين x_0 إذا فقط إذا كان :

$$\lim_{x \rightarrow x_0^+} \frac{f(x) - f(x_0)}{x - x_0} = l \in IR \quad \text{ونكتب } f'_d(x_0) = l$$

(c) تكون f قابلة للإشتقاق على يسار x_0 إذا فقط إذا كان :

$$\lim_{x \rightarrow x_0^-} \frac{f(x) - f(x_0)}{x - x_0} = l \in IR \quad \text{ونكتب } f'_g(x_0) = l$$

(d) تكون f قابلة للإشتقاق في x_0 إذا فقط إذا كانت قابلة للإشتقاق على يمين x_0

و على يسار x_0 و $f'_d(x_0) = f'_g(x_0)$

(e) (* f متصلة في x_0) \Rightarrow (f قابلة للإشتقاق في x_0)

(* (f غير قابلة للإشتقاق في x_0) \Rightarrow (f غير متصلة في x_0))

2) التاويل الهندسي :

(a) إذا كانت f قابلة للإشتقاق في x_0 فإن C_f يقبل مماسا (T) عند النقطة $M(x_0, f(x_0))$ معمله الموجه $f'(x_0)$ معادلته $y = f'(x_0)(x - x_0) + f(x_0)$ وسيكون C_f على أحد الأشكال التالية :

(b) إذا كانت f قابلة للإشتقاق على يمين x_0 فإن C_f يقبل نصف مماس (T_1) عند النقطة $M(x_0, f(x_0))$ معمله الموجه $f'_d(x_0)$ معادلته $y = f'_d(x_0)(x - x_0) + f(x_0)$ وسيكون C_f على أحد الشكلين التاليين :

(c) لدينا نتيجة مماثلة بالنسبة للإشتقاق على اليسار .

ملاحظة (*) إذا كانت f قابلة للإشتقاق على بين x_0 وعلى يسار x_0

و $f'_d(x_0) \neq f'_g(x_0)$ فإن f غير قابلة للإشتقاق في x_0 إذن C_f لا يقبل مماسا في M لكنه يقبل نصفي مماس غير منطبقين وسيكون C_f على أحد الأشكال :

(* إذا كانت f قابلة للإشتقاق في x_0 فإن C_f "لاينكسر" في M وإذا كانت f غير قابلة للإشتقاق في x_0 فإن C_f "ينكسر" في M ويكون زاوية . ونقول إن M نقطة مزوات .

3) الدالة التاليفية المماسية لدالة .

(a) إذا كانت f قابلة للإشتقاق في x_0 فإن الدالة التاليفية المماسية للدالة f في x_0 تسمى الدالة التاليفية المماسية للدالة $u(x) = f'(x_0)(x - x_0) + f(x_0)$

(b) وإذا كان a جد قريب من x_0 فإن $u(a)$ قيمة مقربة ل $f(a)$ ($f(a) = u(a)$)

(6) مطراف دالة .

لتكن f دالة قابلة للإشتقاق على مجال I و $x_0 \in I$. يكون للدالة f مطرافا نسبيا في x_0 إذا وفقط إذا كانت f' تتقدم وتغير الإشارة في x_0 .

(II) التمثيل المبياني لدالة

(1) التفرع

لتكن f دالة قابلة للإشتقاق مرتين على مجال I .

(a) يكون C_f محدبا () إذا وفقط إذا كان $(\forall x \in I) : f''(x) \geq 0$

(b) يكون C_f مقعرا () إذا وفقط إذا كان $(\forall x \in I) : f''(x) \leq 0$

(2) نقط انعطاف

(a) لتكن f دالة قابلة للإشتقاق في x_0 و (T) المماس لـ C_f في

$M(x_0, f(x_0))$ نقول إن M نقطة انعطاف إذا كان C_f يغير التفرع في

M (C_f يخترق (T)) :

(b) لتكن f دالة قابلة للإشتقاق مرتين على مجال I و $x_0 \in I$ تكون

النقطة $M(x_0, f(x_0))$ نقطة انعطاف إذا وفقط إذا كان f'' تتقدم وتغير

إشارة في x_0 .

ملاحظة إذا كانت f' تتقدم ولا تتغير الإشارة في x_0 فإن $M(x_0, f(x_0))$ نقطة انعطاف ويكون المماس فيها موازيا لمحور الأفاصيل .

(b) إذا أردنا تحديد جميع نقط انعطاف او دراسة التفرع نحسب $f''(x)$ وندرس إشارتها .

(3) الفروع اللانهائية .

(a) تعريف

نقول إن C_f يقبل فرعا لانهايا إذا كانت لدينا إحدى الحالات التالية :

$\lim_{x \rightarrow a} f(x) = \infty$ أو $\lim_{x \rightarrow \infty} f(x) = b$ أو $\lim_{x \rightarrow \infty} f(x) = \infty$.

(b) تصنيف الفروع اللانهائية :

(1) إذا كان $\lim_{x \rightarrow a} f(x) = \infty$

فإن المستقيم $x=a$: Δ) مقارب لـ C_f بجوار a .

(2) إذا كان $\lim_{x \rightarrow \infty} f(x) = b$

فإن المستقيم $y=a$: Δ) مقارب لـ C_f بجوار ∞ .

(3) إذا كان $\lim_{x \rightarrow \infty} f(x) = \infty$ نقوم بحساب $\lim_{x \rightarrow \infty} \frac{f(x)}{x}$.

(a) إذا كان $\lim_{x \rightarrow \infty} \frac{f(x)}{x} = \infty$

فإن C_f يقبل فرعا شلجيميا اتجاهه محور الأرتيب بجوار ∞ .

(b) إذا كان $\lim_{x \rightarrow \infty} \frac{f(x)}{x} = 0$

فإن C_f يقبل فرعا شلجيميا اتجاهه محور الأفاصيل بجوار ∞ .

(c) إذا كان $\lim_{x \rightarrow \infty} \frac{f(x)}{x} = a \neq 0$ نقوم بحساب $\lim_{x \rightarrow \infty} (f(x) - ax)$.

(i) إذا كان $\lim_{x \rightarrow \infty} (f(x) - ax) = b$

فإن المستقيم $y = ax + b$: Δ) مقارب لـ C_f بجوار ∞ .

(ii) إذا كان $\lim_{x \rightarrow \infty} (f(x) - ax) = \infty$

فإن C_f يقبل فرعا شلجيميا اتجاهه $y = ax$ بجوار ∞ .

ملاحظة

يكون المستقيم $y = ax + b$: Δ) مقاربا لـ C_f بجوار

∞ إذا وفقط إذا كان $\lim_{x \rightarrow \infty} (f(x) - (ax + b)) = 0$ ونستعمل

هذه الخاصية إذا كان السؤال هو بين أن $y = ax + b$: Δ) مقاربا لـ

C_f أو إذا كانت $f(x)$ على شكل $f(x) = ax + b + h(x)$ مع

$$\lim_{x \rightarrow \infty} h(x) = 0$$

(4) محور تماثل - مركز تماثل

(a) يكون المستقيم $x = a$: Δ) محور تماثل C_f إذا وفقط إذا كان :

(* لكل x من D_f لدينا $2a - x \in D_f$

(* $(\forall x \in D_f) : f(2a - x) = f(x)$

(b) تكون النقطة $\Omega(a, b)$ مركز تماثل C_f إذا وفقط إذا كان :

(* لكل x من D_f لدينا $2a - x \in D_f$

(* $(\forall x \in D_f) : f(2a - x) = 2b - f(x)$

(III) الدوال الدورية

(1) تعريف

(a) نقول إن الدالة f دورية إذا وفقط إذا وجد عدد حقيقي غير منعدم T

بحيث $(\forall x \in D_f) : f(x + T) = f(x)$ وكل عدد T يحقق هذا الشرط

يسمى دور f

(b) إذا كان T دورا للدالة f فإن كل عدد kT دور لـ f ($k \in \mathbb{Z}$)

(c) نختار عادة أصغر دور موجب قطعاً .

ملاحظة (a) لكي نبين أن f دورية يجب أولاً ملاحظة الدور ثم نتحقق منه

(b) $\cos(x + 2k\pi) = \cos x$ (*) $\cos(x + \pi) = -\cos x$ (*)

(*) $\sin(x + k\pi) = \sin x$ (*) $\sin(x + \pi) = -\sin x$ (*)

(*) $\tan(x + k\pi) = \tan x$ (*)

(2) ادوار بعض الدوال الإعتيادية .

(a) $f(x) = \sin(ax + b)$ أو $f(x) = \cos(ax + b)$ $T = \frac{2\pi}{|a|}$

(b) $f(x) = \sin^2(ax + b)$ أو $f(x) = \cos^2(ax + b)$ $T = \frac{\pi}{|a|}$

(c) $f(x) = \tan(ax + b)$ $T = \frac{\pi}{|a|}$

(d) لكي نحدد دور $f + g$ نحدد أدوار كل من f و g و نأخذ أصغر دور مشترك .

(3) رتبة دالة دورية .

لتكن f دالة دورية دورها T . إذا كانت f رتيبة على $[a, b]$ فإن

f رتيبة على $[a + T, b + T]$ ولها نفس الرتبة .

(4) منحنى دالة دورية

(a) إذا كانت f دالة دورية دورها T فيكفي إنشاء C_f على مجال سعته T

(عادت نأخذ $[0, T] \cap D_f$) ثم إزاحته بإلزاحة التي متجهتها $T\vec{i}$

ومن أجل إزاحة هذا الجزئ نبحث عن النقط المهمة التي تكونه ونزيحها

بإضافة T إلى أفصولها والإحتفاظ بالرتوب إذا أردنا الإزاحة نحو اليمين

ونطرح T من الأفصول إذا أردنا الإزاحة نحو اليسار .

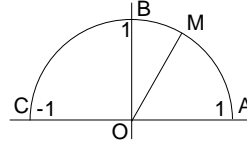
(b) إذا كانت f دالة دورية دورها T وزوجية (أو فردية) فيكفي إنشاء

C_f على $[0, \frac{T}{2}] \cap D_f$ ثم إنشاء المماثل بالنسبة لمحور الأرتيب (او أصل

المعلم) ثم الإزاحة .

(I) - وحدات قياس الزوايا

(1) الرديان



ليكن (o, \vec{i}, \vec{j}) معلما متعامدا ممنظما ونعتبر النصف دائرة U التي مركزها o وشعاعها 1 .

ونعتبر النقط $A(1,0), B(0,1), C(-1,0)$

(a) لتكن M نقطة من U . وليكن α طول القوس $[AM]$

(* نقول إن قياس الزاوية $[AOM]$ هو α rad (α رديان)

(* ونقول أيضا إن α هو قياس أي قوس يحصر هذه الزاوية.

(b) مثال:

لنحدد قياس الزوايا AOB و AOC

نعلم أن محيط الدائرة هو $2\pi R = 2\pi \cdot 1 = 2\pi$

إذن محيط النصف دائرة هو $\frac{2\pi}{2} = \pi$

إذن طول القوس $[AC]$ هو π ومنه قياس الزاوية $[AOC]$ هو π

وطول القوس $[AB]$ هو $\frac{\pi}{2}$ إذن قياس الزاوية $[AOB]$ هو

π rad وطول القوس $[AB]$ هو $\frac{\pi}{2}$ إذن قياس الزاوية $[AOB]$ هو

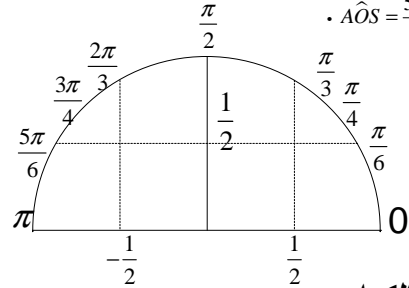
$\frac{\pi}{2}$

(c) تمرين

أنشئ على النصف دائرة u النقط S, R, Q, P, N, M بحيث:

$$A\hat{O}Q = \frac{2\pi}{3}, \quad A\hat{O}P = \frac{\pi}{3}, \quad A\hat{O}N = \frac{\pi}{4}, \quad A\hat{O}M = \frac{\pi}{6}$$

$$A\hat{O}S = \frac{5\pi}{6}, \quad A\hat{O}R = \frac{3\pi}{4}$$



(2) الدرجة والكراد.

هناك وحدتان أخريين لقياس الزوايا هما الدرجة والكراد والعلاقة

$$\frac{x}{180} = \frac{y}{200} = \frac{z}{\pi}$$

التي تربط بينهما هي:

حيث x هو القياس بالدرجة.

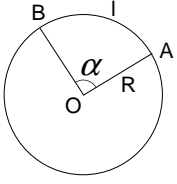
y هو القياس بالكراد.

z هو القياس بالرديان.

ملاحظة:

قياس الزاوية المستقيمة هي $200\text{gr}, 180^\circ, \pi\text{rad}$

(3) مساحة قطاع دائري.



لتكن (C) دائرة مركزها O وشعاعها R

و A, B نقطتين من هذه الدائرة.

(* الجزء المخدش يسمى قطاعا دائريا.

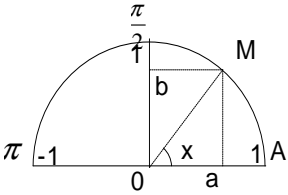
(* ليكن α قياس الزاوية $[A\hat{O}B]$ بالرديان

و l طول القوس $[AB]$ و S مساحة القطاع الدائري

$$l = \alpha R \quad \text{و} \quad S = \frac{1}{2} \alpha R^2$$

(II) - النسب المثلثية لعدد حقيقي محصور بين 0 و π

(1) تعريف:



ليكن x عدد حقيقي بحيث

$0 \leq x \leq \pi$ ولتكن M النقطة

من U بحيث يكون

طول القوس $[AM]$ هو x

يعني $A\hat{O}M = x \text{ rad}$

ليكن a أفصول M و b أرتوبها.

$$\left(x \neq \frac{\pi}{2} \right) \quad \tan x = \frac{\sin x}{\cos x} \quad \sin x = b \quad \cos x = a$$

(2) خاصيات:

(a)

$$\cos^2 x + \sin^2 x = 1 \quad (*)$$

$$\text{لكل } x \neq \frac{\pi}{2} \quad 1 + \tan^2 x = \frac{1}{\cos^2 x} \quad (*)$$

$$\text{لكل } x \neq \frac{\pi}{2} \quad \tan x = \frac{\sin x}{\cos x} \quad (*)$$

$$-1 \leq \cos x \leq 1 \quad \text{و} \quad 0 \leq \sin x \leq 1 \quad (b)$$

$$\sin x \geq 0 \quad \text{لكل } 0 \leq x \leq \pi \quad (*) \quad (c)$$

$$\cos x \geq 0 \quad \text{فإن } 0 \leq x \leq \frac{\pi}{2} \quad \text{إذا كان } (*)$$

$$\cos x \geq 0 \quad \text{فإن } \frac{\pi}{2} \leq x \leq \pi \quad \text{إذا كان } (*)$$

(* إشارة $\tan x$ هي بالضبط إشارة $\cos x$)

(d)

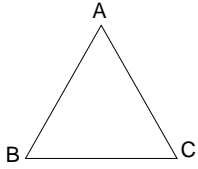
x	0	$\frac{\pi}{2}$	π
sinx	0	+	0

x	0	$\frac{\pi}{2}$	π
cosx	+	0	-

x	0	$\frac{\pi}{2}$	π
tanx	+		-

(b) علاقة Sinus في المثلث

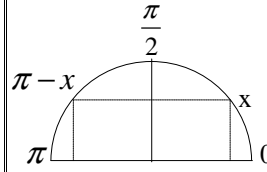
ليكن (ABC) مثلثًا و شعاع الدائرة المحيطة به R



لدينا

$$\frac{AB}{\sin \hat{C}} = \frac{AC}{\sin \hat{B}} = \frac{BC}{\sin \hat{A}} = 2R$$

(3) العلاقة بين النسب المثلثية للعددين x و $\pi - x$

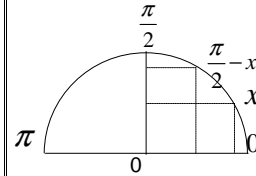


$$\cos(\pi - x) = -\cos x \quad (a)$$

$$\sin(\pi - x) = \sin x \quad (b)$$

$$\tan(\pi - x) = -\tan x \quad (c)$$

(4) العلاقة بين النسب المثلثية للعددين x و $\frac{\pi}{2} - x$



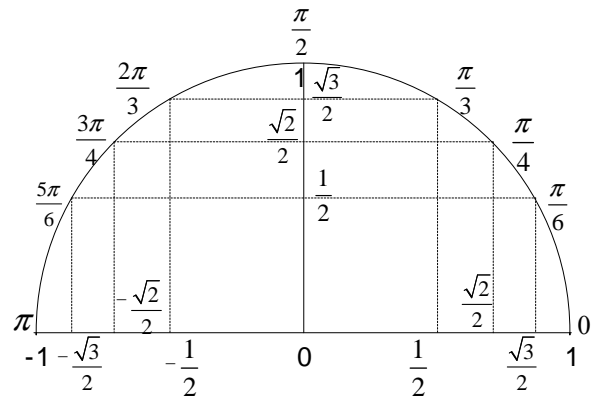
$$\cos\left(\frac{\pi}{2} - x\right) = \sin x \quad (a)$$

$$\sin\left(\frac{\pi}{2} - x\right) = \cos x \quad (b)$$

$$\tan\left(\frac{\pi}{2} - x\right) = \frac{1}{\tan x} \quad (c)$$

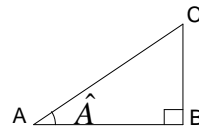
(5) جدول النسب الإعتيادية

x	0	$\frac{\pi}{6}$	$\frac{\pi}{4}$	$\frac{\pi}{3}$	$\frac{\pi}{2}$	$\frac{2\pi}{3}$	$\frac{3\pi}{4}$	$\frac{5\pi}{6}$	π
$\cos x$	1	$\frac{\sqrt{3}}{2}$	$\frac{\sqrt{2}}{2}$	$\frac{1}{2}$	0	$-\frac{1}{2}$	$-\frac{\sqrt{2}}{2}$	$-\frac{\sqrt{3}}{2}$	-1
$\sin x$	0	$\frac{1}{2}$	$\frac{\sqrt{2}}{2}$	$\frac{\sqrt{3}}{2}$	1	$\frac{\sqrt{3}}{2}$	$\frac{\sqrt{2}}{2}$	$\frac{1}{2}$	0
$\tan x$	0	$\frac{1}{\sqrt{3}}$	1	$\sqrt{3}$	\times	$-\sqrt{3}$	-1	$-\frac{1}{\sqrt{3}}$	0



(6) العلاقات المترية في مثلث قائم الزاوية

(a) ليكن (ABC) مثلثًا قائم الزاوية في B



$$\tan \hat{A} = \frac{BC}{AB}$$

$$\cos \hat{A} = \frac{AB}{AC}$$

$$\sin \hat{A} = \frac{BC}{AC}$$

I- الأفاصيل المنحنية

(1) * ليكن (\vec{u}, \vec{v}) م م م. ولتكن U الدائرة التي مركزها o وشعاعها 1
* نختار المنحى المعاكس لعقري الساعة
* الدائرة U تسمى الدائرة المثلثية التي أصلها I .
(2) لتكن M نقطة من U . للحصول على أفضول منحني لـ M .

نختار قوسا تؤدي من I نحو M ونقيس طولها. ليكن α طول هذه القوس.

(*) إذا كان الانتقال من I نحو M يتم حسب المنحى الموجب فإن α أفضول منحني للنقطة M .

(*) إذا كان الانتقال من I نحو M يتم حسب المنحى السالب فإن $-\alpha$ أفضول منحني للنقطة M .

(3) للحصول على جميع الأفاصيل المنحنية لنقطة M يكفي أن نتعرف على أحد هذه الأفاصيل فقط (عادة نختار أقصر قوس تؤدي من I إلى M).

وإذا كان α أحد هذه الأفاصيل فإن الأفاصيل المنحنية للنقطة M هي الأعداد التي تكتب على شكل $\alpha + 2k\pi$ حيث $k \in \mathbb{Z}$.

(4) يكون العددين β, α أفضولين منحنيين لنفس النقطة إذا فقط إذا كان $\alpha - \beta = 2k\pi$ يعني $\alpha = \beta - 2k\pi$ حيث $k \in \mathbb{Z}$ ونكتب $\alpha \equiv \beta [2\pi]$

ملاحظة: (1) $\alpha \equiv \beta [2\pi] \Leftrightarrow \alpha = \beta + 2k\pi$
 $\Leftrightarrow \alpha - \beta = 2k\pi$

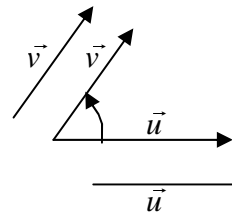
(2) $\alpha \equiv \alpha + 2n\pi [2\pi]$ (*)
 $\alpha \equiv \beta [2\pi] \Leftrightarrow \alpha = \beta + 2n\pi [2\pi]$ (*)

(5) من بين جميع الأفاصيل المنحنية لنقطة M يوجد أفضول منحني وحيد α_0 يحقق $-\pi < \alpha_0 < \pi$. يسمى الأفضول المنحني الرئيسي للنقطة M (ونصل عليه باختيار أقصر قوس تؤدي من I نحو M).

(6) نعتبر الأعداد $\alpha + \frac{2k\pi}{n}$ حيث $k \in \mathbb{Z}$. عدد النقط التي أفاصيلها المنحنية هي هذه الأعداد هو n . ومن أجل إنشائها يكفي تعويض k ب n قيمة متتابة. عادة نعوض k بالقيم $0, 1, 2, \dots, (n-1)$ وهذه النقط تكون مضلعا منتظما محاطا بالدائرة U .

II- قياس الزوايا الموجهة

(1) لتكن \vec{u}, \vec{v} متجهتين غير منعدمتين. من أجل تحديد قياسات الزاوية الموجهة (\vec{u}, \vec{v}) للمتجهتين \vec{u} و \vec{v} نتبع ما يلي:



(*) نزيح المتجهتين \vec{u} و \vec{v} إلى نفس الأصل.

(*) المتجهتان \vec{u} و \vec{v} تحددان زاويتين هندسيتين نختار إحداهما (عادة نختار الزاوية الحادة) ونحدد قياسها الهندسي بالرديان. ليكن α هذا القياس.

← إذا التحرك من \vec{u} نحو \vec{v} داخل هذه الزاوية يتم حسب المنحى الموجب فإن كل عدد على شكل $\alpha + 2k\pi$ هو قياس لهذه الزاوية ونكتب

$(\vec{u}, \vec{v}) = \alpha + 2k\pi$ أو $(\vec{u}, \vec{v}) \equiv \alpha [2\pi]$

← إذا كان التحرك من \vec{u} نحو \vec{v} داخل هذه الزاوية يتم حسب المنحى الموجب فإن كل عدد على شكل $-\alpha + 2k\pi$ ($k \in \mathbb{Z}$) هو قياس لهذه الزاوية. ونكتب $(\vec{u}, \vec{v}) = -\alpha + 2k\pi$ أو $(\vec{u}, \vec{v}) \equiv -\alpha [2\pi]$

ملاحظة: (2) $(\vec{u}, \vec{v}) \equiv \alpha [2\pi]$ أو $(\vec{u}, \vec{v}) \equiv -\alpha [2\pi]$

2) خاصيات

(a) من بين قياسات (\vec{u}, \vec{v}) يوجد قياس وحيد يحقق $-\pi < \alpha_0 \leq \pi$ ويسمى القياس الرئيسي.

(b) $(\vec{u}, \vec{v}) \equiv (\vec{w}, \vec{v}) + (\vec{u}, \vec{w}) [2\pi]$ (علاقة شال).

(c) $(\vec{u}, \vec{v}) \equiv -(\vec{v}, \vec{u}) [2\pi]$

(d) إذا كانت \vec{u} و \vec{v} مستقيمين ولهما نفس المنحى فإن $(\vec{u}, \vec{v}) \equiv 0 [2\pi]$

(e) إذا كانت \vec{u} و \vec{v} مستقيمين ولهما منحنيان متعاكسان فإن $(\vec{u}, \vec{v}) \equiv \pi [2\pi]$

(f) يكون β, α قياسين لنفس الزاوية إذا فقط إذا كان $\alpha - \beta = 2k\pi$ يعني $\alpha \equiv \beta [2\pi]$.

ملاحظة:

(1) تكون \vec{u} و \vec{v} مستقيمين إذا فقط إذا كان حاملهما متوازيين.

(2) المتجهتين \vec{u} و \vec{v} ($\alpha > 0$) مستقيمان ولهما نفس المعنى.

(3) المتجهتين \vec{u} و \vec{v} ($\alpha < 0$) مستقيمان ولهما منحنيان متعاكسان.

III- الدوال المثلثية

1) تعريف

لتكن U الدائرة المثلثية التي أصلها I . وليكن (Δ) المحور المماس ل U في I .

ندرج المحور (Δ) بنفس وحدة معلم وأصله I .

(*) ليكن x من \mathbb{R} و M النقطة التي أفضولها المنحني هو x

ليكن a أفضول ل M و b ارتوب M يعني $M(a, b)$.

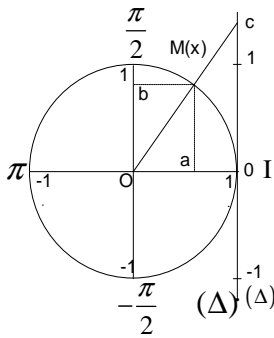
c أفضول تقاطع (OM) مع (Δ) على المحور (Δ)

لدينا

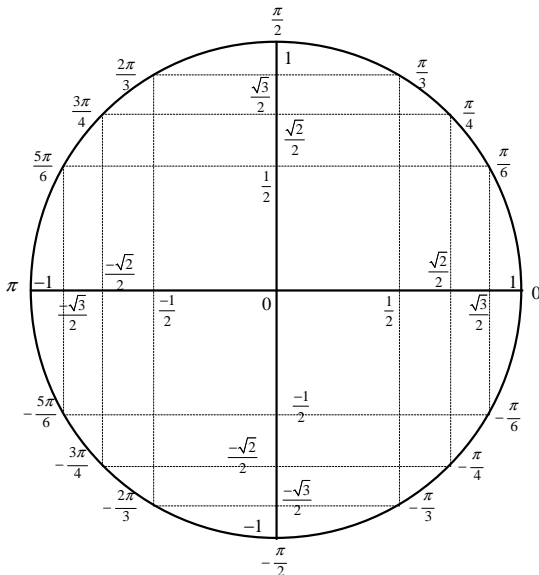
$\cos x = a$ $\sin x = b$ $\tan x = c$

2) خاصيات

(a)



x	0	$\frac{\pi}{6}$	$\frac{\pi}{4}$	$\frac{\pi}{3}$	$\frac{\pi}{2}$	$\frac{2\pi}{3}$	$\frac{3\pi}{4}$	$\frac{5\pi}{6}$	π
cos x	1	$\frac{\sqrt{3}}{2}$	$\frac{\sqrt{2}}{2}$	$\frac{1}{2}$	0	$-\frac{1}{2}$	$-\frac{\sqrt{2}}{2}$	$-\frac{\sqrt{3}}{2}$	-1
sin x	0	$\frac{1}{2}$	$\frac{\sqrt{2}}{2}$	$\frac{\sqrt{3}}{2}$	1	$\frac{\sqrt{3}}{2}$	$\frac{\sqrt{2}}{2}$	$\frac{1}{2}$	0
tan x	0	$\frac{1}{\sqrt{3}}$	1	$\sqrt{3}$	X	$-\sqrt{3}$	-1	$-\frac{1}{\sqrt{3}}$	0



4) المترجمات المثلثية. (انظر التمارين)

ملاحظة

1) نضع $f(x) = a \cos(u(x)) + b$ أو $f(x) = a \sin(u(x)) + b$

(* إذا كان a و b غير متقابلين وغير متساويين فإن $f(x)$ تغير الإشارة في حلول المعادلة $f(x) = 0$)

(* إذا كان a و b متقابلين أو متساويين فإن $f(x)$ لها إشارة ثابتة

2) نضع $f(x) = a \tan(u(x)) + b$ تغير الإشارة في حلول المعادلة $f(x) = 0$ وفي الأعداد التي تكون غير معرفة فيها.

5) صيغ التحويل

(a) $\tan(a+b) = \frac{\tan a + \tan b}{1 - \tan a \cdot \tan b}$ $\tan(a-b) = \frac{\tan a - \tan b}{1 + \tan a \cdot \tan b}$
 $\cos(a+b) = \cos a \cos b - \sin a \sin b$ $\cos(a-b) = \cos a \cos b + \sin a \sin b$
 $\sin(a+b) = \sin a \cos b + \cos a \sin b$ $\sin(a-b) = \sin a \cos b - \cos a \sin b$

(c) $\cos^2 a = \frac{1 + \cos(2a)}{2}$
 $\sin^2 a = \frac{1 - \cos(2a)}{2}$
 $\sin a \cos a = \frac{1}{2} \sin(2a)$

(b) $\cos(2a) = \cos^2 a - \sin^2 a = 2\cos^2 a - 1 = 1 - 2\sin^2 a$
 $\sin(2a) = 2\sin a \cos a$
 $\tan(2a) = \frac{2 \tan a}{1 - \tan^2 a}$

(d) $\cos a \cos b = \frac{1}{2} [\cos(a+b) + \cos(a-b)]$
 $\sin a \sin b = -\frac{1}{2} [\cos(a+b) - \cos(a-b)]$
 $\sin a \cos b = \frac{1}{2} [\sin(a+b) + \sin(a-b)]$

(e) $\cos p + \cos q = 2 \cos \frac{p+q}{2} \cdot \cos \frac{p-q}{2}$
 $\cos p - \cos q = -2 \sin \frac{p+q}{2} \cdot \sin \frac{p-q}{2}$
 $\sin p + \sin q = 2 \sin \frac{p+q}{2} \cdot \cos \frac{p-q}{2}$
 $\sin p - \sin q = 2 \cos \frac{p+q}{2} \cdot \sin \frac{p-q}{2}$

(f) نضع $t = \tan\left(\frac{x}{2}\right)$ لدينا .

$\cos x = \frac{1-t^2}{1+t^2}$ $\sin x = \frac{2t}{1+t^2}$ $\tan x = \frac{2t}{1-t^2}$

(g) من أجل تحويل $f(x) = a \cos x + b \sin x$ نتبع ما يلي:

$f(x) = a \cos x + b \sin x$
 $= \sqrt{a^2 + b^2} \left(\frac{a}{\sqrt{a^2 + b^2}} \cos x + \frac{b}{\sqrt{a^2 + b^2}} \sin x \right)$
 $= \sqrt{a^2 + b^2} (\cos \alpha \cos x + \sin \alpha \sin x)$
 $= \sqrt{a^2 + b^2} (\cos x \cos \alpha + \sin x \sin \alpha)$
 $= \sqrt{a^2 + b^2} \cos(x - \alpha)$

مع $\sin \alpha = \frac{b}{\sqrt{a^2 + b^2}}$ و $\cos \alpha = \frac{a}{\sqrt{a^2 + b^2}}$

(b) تكون $\tan(x)$ معرفة إذا فقط إذا كان $x \neq \frac{\pi}{2} + k\pi$ يعني $\begin{cases} x \neq \frac{\pi}{2} + 2k\pi \\ x \neq -\frac{\pi}{2} + 2k\pi \end{cases}$

(c) $1 + \tan^2 x = \frac{1}{\cos^2 x}$ $\cos^2 x + \sin^2 x = 1$ $\tan x = \frac{\sin x}{\cos x}$

(d) $\tan(x + k\pi) = \tan x$ $\sin(x + 2k\pi) = \sin x$ $\cos(x + 2k\pi) = \cos x$

(e) $\tan(-x) = -\tan x$ $\sin(-x) = -\sin x$ $\cos(-x) = \cos x$

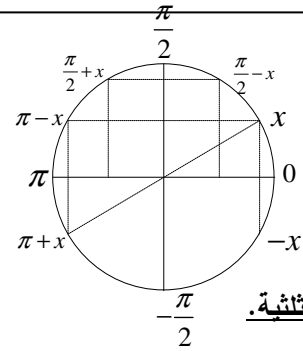
(f) $\cos(\pi + x) = -\cos x$
 $\sin(\pi + x) = -\sin x$
 $\tan(\pi + x) = \tan x$

(f) $\cos(\pi - x) = -\cos x$
 $\sin(\pi - x) = \sin x$
 $\tan(\pi - x) = -\tan x$

(g) $\cos\left(\frac{\pi}{2} + x\right) = -\sin x$
 $\sin\left(\frac{\pi}{2} + x\right) = \cos x$
 $\tan\left(\frac{\pi}{2} + x\right) = -\frac{1}{\tan x}$

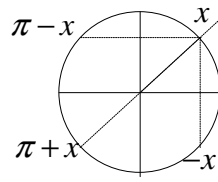
(g) $\cos\left(\frac{\pi}{2} - x\right) = \sin x$
 $\sin\left(\frac{\pi}{2} - x\right) = \cos x$
 $\tan\left(\frac{\pi}{2} - x\right) = \frac{1}{\tan x}$

(h) $(\forall x \in \mathbb{R}) : -1 \leq \cos x \leq 1 ; -1 \leq \sin x \leq 1$



3) المعادلات المثلثية.

(a) $\cos x = 1 \Leftrightarrow x = 2k\pi$
 $\cos x = -1 \Leftrightarrow x = \pi + 2k\pi$ $\cos x = \cos \alpha \Leftrightarrow \begin{cases} x = \alpha + 2k\pi \\ x = -\alpha + 2k\pi \end{cases}$
 $\cos x = 0 \Leftrightarrow x = \frac{\pi}{2} + k\pi$



(b) $\sin x = 1 \Leftrightarrow x = \frac{\pi}{2} + 2k\pi$
 $\sin x = -1 \Leftrightarrow x = -\frac{\pi}{2} + 2k\pi$
 $\sin x = 0 \Leftrightarrow x = k\pi$
 $\sin x = \sin \alpha \Leftrightarrow \begin{cases} x = \alpha + 2k\pi \\ x = \pi - \alpha + 2k\pi \end{cases}$

(c) $\tan x = \tan \alpha \Leftrightarrow x = \alpha + k\pi$

ملاحظات

(1) إذا كان $\alpha \notin [-1, 1]$ فإن المعادلتين $\sin x = a$ و $\cos x = a$ ليس لهما حل.

(2) تكون المعادلة $\tan(u(x)) = a$ معرفة إذا فقط إذا كان $u(x) \neq \frac{\pi}{2} + k\pi$

(3) $-\tan \alpha = \tan(-\alpha)$ $-\sin \alpha = \sin(-\alpha)$ $-\cos \alpha = \cos(\pi - \alpha)$
 $\cos \alpha = \sin\left(\frac{\pi}{2} - \alpha\right)$ $\sin \alpha = \cos\left(\frac{\pi}{2} - \alpha\right)$

ملاحظة:

(a) لكي نبين أن متجهتين \vec{IK} و \vec{IJ} تحققان علاقة ما (مثلا $\vec{IJ} = \alpha \vec{IK}$ أو $\alpha \vec{IJ} + \beta \vec{IK} = \vec{0}$ أو ...).
نقوم بحساب \vec{IK} و \vec{IJ} بدلالة متجهتين غير مستقيمتين مكونتين من النقط الأصلية \vec{AB} و \vec{AC} مثلا.
ونجد مثلا $\vec{IJ} = 2\vec{AB} - \vec{AC}$ و $\vec{IK} = 6\vec{AB} - 3\vec{AC}$ ومنه ننسخ أن $3\vec{IJ} = 6\vec{AB} - 3\vec{AC} = \vec{IK}$ إذن $\vec{IK} = 3\vec{IJ}$.
(b) ليكن (ABC) مثلثا و M نقطة بحيث $\vec{MA} = 3\vec{MB}$ يستحسن تغيير تعريف النقط M وجعلها من جهة واحدة كما يلي:
 $\vec{MA} - 3\vec{MA} = 3\vec{AB}$ يعني $\vec{MA} = 3(\vec{MA} + \vec{AB})$ يعني $\vec{MA} = 3\vec{MB}$
يعني $-2\vec{MA} = 3\vec{AB}$ يعني $2\vec{AM} = 3\vec{AB}$ إذن $\vec{AM} = \frac{3}{2}\vec{AB}$

(B) المرجح

نسمي نقطة متزنة كل زوج (A, α) حيث A نقطة من المستوى و α عدد حقيقي.

(I) مرجح نقطتين:

1) تعريف لنكن (A, α) و (B, β) نقطتين متزنتين. إذا كان $\alpha + \beta \neq 0$ فإنه توجد نقطة وحيدة G تحقق

$$\alpha \vec{GA} + \beta \vec{GB} = \vec{0}$$

النقطة G تسمى مرجح النقطتين المتزنتين (A, α) و (B, β) أو

$$\{(A, \alpha), (B, \beta)\}$$

2) خاصية مميزة:

تكون النقطة G مرجح النظمة $\{(A, \alpha), (B, \beta)\}$ إذا فقط إذا كان

$$\vec{OG} = \frac{1}{\alpha + \beta} (\alpha \vec{OA} + \beta \vec{OB})$$
 لكل θ من المستوى P .

ملاحظة:

(a) إذا أردنا أن نبين أن G مرجح النظمة $\{(A, \alpha), (B, \beta)\}$ يستحسن استعمال التعريف ونبين أن $\alpha \vec{GA} + \beta \vec{GB} = \vec{0}$. ولهذا نتبع ما يلي:

$$\alpha \vec{GA} + \beta \vec{GB} = \alpha \vec{GA} + \beta (\vec{GA} + \vec{AB}) = (\alpha + \beta) \vec{GA} + \beta \vec{AB}$$

نحسب \vec{GA} بدلالة \vec{AB} و \vec{AC} ونعوض.

(b) إذا كان G مرجح النظمة $\{(A, \alpha), (B, \beta)\}$ وأردنا حساب \vec{AG} أو \vec{BG} أو \vec{CG} ... يستحسن استعمال الخاصية المميزة.

$$\vec{OG} = \frac{1}{\alpha + \beta} (\alpha \vec{OA} + \beta \vec{OB})$$
 لكل O من P ثم نعوض O ب A أو B أو C ...

3) إذا كان G مرجح $\{(A, \alpha), (B, \beta)\}$ فإن G مرجح $\{(A, k\alpha), (B, k\beta)\}$ لكل k من \mathbb{R}^* . وهذا يعني أن المرجح لا يتغير إذا ضربنا الأوزان أو قسمناها على عدد غير منعدم.

(A) الحساب المتجهي

1) تكون متجهتان \vec{u} و \vec{v} متساويتين إذا فقط

إذا كان لهما نفس الاتجاه (يعني حاملهما متوازيان) ونفس المنحني ونفس المنظم.

$$\vec{AB} = -\vec{BA}$$

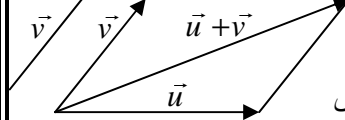
$$\vec{AB} + \vec{BC} = \vec{AC}$$

(علاقة شال.)

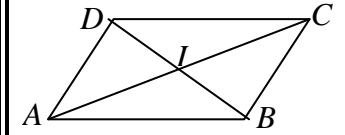
$$\vec{AB} = \vec{0} \iff A = B$$

من أجل تحديد $\vec{u} + \vec{v}$

نريح \vec{u} و \vec{v} إلى نفس الأصل ويكون متوازي أضلاع.



6) يكون الرباعي $(ABCD)$ متوازي أضلاع



إذا فقط إذا تحققت إحدى

الشروط التالية:

$$\vec{AB} = \vec{DC} \quad (a)$$

$$\vec{AD} = \vec{BC} \quad (b)$$

$$\vec{AC} = \vec{AB} + \vec{AD} \quad (c)$$

(d) القطران $[AC]$ و $[BD]$ لهما نفس المنتصف.

7) I منتصف القطعة $[AB]$ يعني

$$\vec{AI} = \frac{1}{2} \vec{AB} \quad (* \quad \vec{IA} = -\vec{IB} \quad (* \quad \vec{AI} = \vec{IB} \quad (*$$

$$\vec{IA} + \vec{IB} = \vec{0} \quad (* \quad \vec{BI} = \frac{1}{2} \vec{BA} \quad (*$$

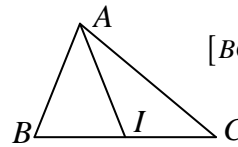
ملاحظة:

(a) إذا كان I منتصف $[AB]$ يستحسن استعمال $\vec{AI} = \frac{1}{2} \vec{AB}$

(b) لكي نبين أن I منتصف $[AB]$ يستحسن أن نبين أن

$$\vec{IA} + \vec{IB} = \vec{0}$$

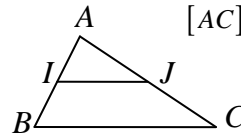
8) ليكن (ABC) مثلثا و I منتصف $[BC]$



$$\vec{AI} = \frac{1}{2} (\vec{AB} + \vec{AC})$$
 لدينا

9) ليكن (ABC) مثلثا.

I منتصف $[AB]$ و J منتصف $[AC]$



$$\vec{IJ} = \frac{1}{2} \vec{BC}$$
 لدينا

10) (a) تكون \vec{u} و \vec{v} مستقيمتين إذا فقط إذا كان حاملهما متوازيين.

(b) تكون \vec{u} و \vec{v} مستقيمتين إذا فقط إذا كان

$$\vec{v} = \alpha \vec{u} \quad \text{أو} \quad \vec{u} = \alpha \vec{v}$$

(c) تكون النقط A و B و C مستقيمية إذا فقط إذا كانت \vec{AB} و \vec{AC} مستقيمتين يعني $\vec{AB} = \alpha \vec{AC}$ أو $\vec{AC} = \alpha \vec{AB}$

(d) يكون (AB) و (CD) متوازيين إذا فقط إذا كانت \vec{AB} و \vec{CD} مستقيمتين.

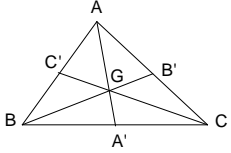
5) إحدائيات المرجح.

ليكن G مرجح $\{(A, \alpha)(B, \beta)(C, \gamma)\}$ إحدائيات G هي

$$\begin{cases} x_G = \frac{1}{\alpha + \beta + \gamma}(\alpha x_A + \beta x_B + \gamma x_C) \\ y_G = \frac{1}{\alpha + \beta + \gamma}(\alpha y_A + \beta y_B + \gamma y_C) \end{cases}$$

6) التجميعية.

إذا كان G مرجح $\{(A, \alpha)(B, \beta)(C, \gamma)\}$ و G_1 مرجح $\{(A, \alpha)(B, \beta)\}$ فإن G مرجح $\{(G_1, \alpha + \beta)(C, \gamma)\}$ وهذا يعني أن مرجح ثلاث نقط لا يتغير إذا عوضنا نقطتين بمرجحهما متزن بمجموع وزني تلك النقطتين.



7) ليكن (ABC) مثلثا مركز ثقله G

G هو مرجح $\{(A, 1)(B, 1)(C, 1)\}$

' و A' و B' و C' منتصفات

$[BC]$ و $[AC]$ و $[AB]$ على التوالي المتوسطات

(AA') و (BB') و (CC') تتلاقى في G .

$$\overline{CG} = \frac{2}{3}\overline{CC'} \quad \overline{BG} = \frac{2}{3}\overline{BB'} \quad \overline{AG} = \frac{2}{3}\overline{AA'}$$

III) مرجح أربع نقط.

نعرف بنفس الطريقة مرجح أربع نقط وسيكون لدينا نفس الخاصيات السابقة. هناك فرق فقط في التجميعية حيث تصبح:

7) مرجح أربع نقط لا يتغير إذا عوضنا نقطتين بمرجحهما متزن بمجموع الوزنين أو عوضنا كل نقطتين بمرجحهما متزن بمجموع الوزنين، أو عوضنا ثلاث نقط بمرجحها متزن بمجموع الأوزان.

4) ليكن G مرجح $\{(A, \alpha)(B, \alpha)\}$ مع $(\alpha \neq 0)$ يسمى G مرجح $\{(A, 1)(B, 1)\}$ ما سبق G مرجح $\{(A, 1)(B, 1)\}$ إذن

$$\overline{OG} = \frac{1}{2}(\overline{OA} + \overline{OB})$$

نجد $\overline{AC} = \frac{1}{2}\overline{AB}$ إذن G منتصف $[AB]$

خاصية: مرجح النظمة $\{(A, 1)(B, 1)\}$ هو مرجح $\{(A, 1)(B, 1)\}$ وهو منتصف $[AB]$.

ملاحظة: إذا أردنا أن نبين أن I منتصف $[AB]$ نبين أن I مرجح $\{(A, 1)(B, 1)\}$ يعني $\overline{IA} + \overline{IB} = \vec{0}$.

5) ليكن G مرجح $\{(A, \alpha)(B, \beta)\}$ لدينا

$$\overline{OG} = \frac{1}{\alpha + \beta}(\alpha \overline{OA} + \beta \overline{OB})$$

نجد $\overline{AG} = \frac{\beta}{\alpha + \beta}\overline{AB}$ إذن $G \in (AB)$

خاصية: إذا كان G مرجح $\{(A, \alpha)(B, \beta)\}$ فإن $G \in (AB)$ ولدينا

$$\overline{AG} = \frac{\beta}{\alpha + \beta}\overline{AB}$$

ملاحظة: إذا أردنا إنشاء المرجح G نقوم بحساب \overline{AG} بدلالة \overline{AB} أو \overline{BG} بدلالة \overline{BA} .

6) إحدائيات المرجح:

ليكن G مرجح $\{(A, \alpha)(B, \beta)\}$ إحدائيات G هي

$$\begin{cases} x_G = \frac{1}{\alpha + \beta}(\alpha x_A + \beta x_B) \\ y_G = \frac{1}{\alpha + \beta}(\alpha y_A + \beta y_B) \end{cases}$$

II) مرجح ثلاث نقط.

1) تعريف: لتكن (A, α) و (B, β) و (C, γ) ثلاث نقط متزنة.

إذا كان $\alpha + \beta + \gamma \neq 0$ فإنه توجد نقطة وحيدة G تحقق:

$$\alpha \overline{GA} + \beta \overline{GB} + \gamma \overline{GC} = \vec{0}$$

النقط (A, α) و (B, β) و (C, γ) أو مرجح النظمة المتزنة $\{(A, \alpha)(B, \beta)(C, \gamma)\}$.

2) خاصية مميزة:

تكون النقطة G مرجح النظمة $\{(A, \alpha)(B, \beta)(C, \gamma)\}$ إذا وفقط إذا

$$\overline{OG} = \frac{1}{\alpha + \beta + \gamma}(\alpha \overline{OA} + \beta \overline{OB} + \gamma \overline{OC})$$

المستوى P

ملاحظة: نفس ملاحظة (I).

3) المرجح لا يتغير إذا ضربنا أو قسمنا الأوزان على نفس عدد غير منعدم.

4) ليكن G مرجح $\{(A, \alpha)(B, \alpha)(C, \alpha)\}$ مع $(\alpha \neq 0)$.

لدينا G مرجح $\{(A, 1)(B, 1)(C, 1)\}$. المرجح G يسمى في هذه الحالة مركز ثقل النقط A, B, C أو مركز ثقل المثلث (ABC) .

خاصية: مرجح $\{(A, \alpha)(B, \alpha)(C, \alpha)\}$ هو

مرجح $\{(A, 1)(B, 1)(C, 1)\}$ وهو مركز ثقل (ABC) .